

ФЕДЕРАЛЬНОЕ АГЕНТСТВО ПО ОБРАЗОВАНИЮ

Государственное образовательное учреждение высшего профессионального образования
"СЕВЕРО-ЗАПАДНЫЙ ГОСУДАРСТВЕННЫЙ ЗАОЧНЫЙ ТЕХНИЧЕСКИЙ УНИВЕРСИТЕТ"

Кафедра информатики и прикладной математики

МАТЕМАТИКА, ч.2

**Численные методы, теория функций комплексного переменного,
дискретная математика**

УЧЕБНО-МЕТОДИЧЕСКИЙ КОМПЛЕКС

Институты: все

Укрупнённые группы специальностей и направлений подготовки:

080000 – Экономика и управление

140000 – Энергетика, энергетическое машиностроение и электротехника

150000 – Metallургия, машиностроение и материалобработка

190000 – Транспортные средства

200000 – Приборостроение и оптотехника

210000 – Электронная техника, радиотехника и связь

220000 – Автоматика и управление

230100 – Информатика и вычислительная техника

240000 – Химическая и биотехнологии

Направления подготовки высшего профессионального образования:

261000 – Технология художественной обработки материалов

280200 – Защита окружающей среды

Санкт-Петербург
Издательство СЗТУ
2009

Утверждено редакционно-издательским советом университета
УДК 519.2, 519.6, 519.8

Математика, ч.2: учебно-методический комплекс / сост. Т.Д. Бессонова, Н.М. Петухова, В.В. Тарасенко. - СПб.: Изд-во СЗТУ, 2009. – 157 с.

Учебно-методический комплекс разработан в соответствии с государственным образовательным стандартом высшего профессионального образования.

Данный УМК посвящен изучению вычислительной математики и включает в себя основные вопросы теории численных методов, функций комплексного переменного и дискретной математики.

Рассмотрено на заседании кафедры информатики и прикладной математики 22.12.08 г., одобрено методической комиссией факультета общепрофессиональной подготовки 22.12.08 г.

Рецензенты: кафедра информатики и прикладной математики (зав. кафедрой Г.Г. Ткаченко, канд. физ.- мат. наук, доц.), А.А. Потапенко, д-р физ.- мат. наук, проф., зав. кафедрой математики СЗТУ.

Составители: Т.Д. Бессонова, доц.;
Н.М. Петухова, канд. техн. наук, доц.;
В.В. Тарасенко, канд. физ.-мат. наук, доц.

1. Информация о дисциплине

1.1. Предисловие

Дисциплина «Математика, ч. 2» изучается студентами всех специальностей и форм обучения в течение двух семестров и представляет собой комплекс из четырёх разделов – «Численные методы», «Теория функций комплексного переменного», «Дискретная математика» и «Теория вероятностей и элементы математической статистики».

Первые три части изучаются в одном семестре, четвёртая – в другом. Подробно о видах практических работ и контроля рассказывается в каждом разделе курса¹. Один семестр заканчивается зачётом, другой – экзаменом².

Цель изучения дисциплины – приобретение студентами знаний и навыков их практического использования в каждом из перечисленных разделов.

Задачи изучения дисциплины – овладение основами знаний по дисциплине, формируемыми на нескольких уровнях:

иметь представление о структуре и содержании дисциплины;

знать алгоритмы и методы расчетов, применяемые в рассматриваемых темах;

уметь применять эти алгоритмы и методы расчетов;

владеть навыками анализа и синтеза контактных схем и преобразования логических выражений.

Место дисциплины в учебном процессе: освоение курса «Математика, ч. 2» базируется на знаниях, полученных при изучении курсов «Математика, ч.1» и «Информатика». Для понимания дисциплины необходимы твёрдые знания дифференциального и интегрального исчисления, кратных интегралов и рядов, умение решать обыкновенные дифференциальные уравнения. Успешное

¹ «Рабочая программа по дисциплине, составленная в соответствии с ГОС, представлена в рубрике **Рабочие учебные материалы**.

² «Тематический план, содержащий информацию о видах отчётности по темам, приведён в рубрике **Рабочие учебные материалы**.

выполнение лабораторных и контрольных работ предполагает свободное владение табличным процессором Excel. Желательно знание прикладных математических пакетов, например, Maple, MathCAD [6, 9].

При изучении первой части курса студент научится применять численные методы при решении широкого круга математических задач, овладеет знаниями о функциях комплексного переменного, познакомится с основными понятиями дискретной математики и сможет решать прикладные задачи на графах, работать с логическими функциями, разбираться в структуре формальных языков и понимать работу дискретных автоматов. Освоив вторую часть курса, он сумеет решать различные вероятностные задачи и освоит приёмы анализа статистических данных. Приобретённые знания будут использованы при освоении различных спецкурсов, а также в курсовом и дипломном проектировании.

1.2. Содержание дисциплины и виды учебной работы³

1.2.1. Содержание дисциплины по ГОС⁴

Численные методы: погрешности вычислений, численные методы линейной алгебры, интерполирование и приближение функций, численное решение нелинейных уравнений и систем, численное интегрирование и дифференцирование, численное решение обыкновенных дифференциальных уравнений; основы вычислительного эксперимента; функции комплексного переменного; дискретная математика: основы математической логики, теория алгоритмов, языки и грамматики, графы, автоматы, комбинаторный анализ; вероятность и статистика: теория вероятностей, случайные процессы, статистическое оценивание и проверка гипотез, статистические методы обработки экспериментальных данных.

³ В первом семестре изучения дисциплины.

⁴ Только относящиеся к данному курсу "Математика, ч.2".

1.2.2. Объем дисциплины и виды учебной работы

Вид учебной работы	Всего часов		
	форма обучения		
	очная	очно-заочная	заочная
Общая трудоёмкость дисциплины (ОТД)	150		
Работа под руководством преподавателя (РпРП)	90	90	90
В т.ч. аудиторные занятия:	80	40	20
лекции	32	16	8
практические занятия (ПЗ)	32	16	8
лабораторные работы (ЛР)	16	8	4
семинары (С)			
другие виды аудиторных занятий			
Самостоятельная работа студента	60	60	60
Промежуточный контроль, количество	1	3	3
В том числе: курсовой проект (работа)			
контрольная работа (реферат)		2	2
Вид итогового контроля (зачёт, экзамен)	экзамен		

1.2.3. Перечень видов практических занятий и контроля:

- две контрольные работы (для очно-заочной и заочной форм обучения);
- практические занятия;
- лабораторные работы;
- тесты (по разделам дисциплины);
- экзамен.

2. Рабочие учебные материалы

2.1. Рабочая программа (объем дисциплины 150 часов)

Введение (1 час)

[7], с.8...15

При изучении дисциплины «Математика 2» Вы не только продолжаете накопление знаний по традиционным разделам математики, но и знакомитесь с материалом, составляющим основы прикладной и дискретной математики, получивших широкое развитие с возникновением компьютеров.

Математиков всегда интересовало доведение расчётов «до числа», поэтому развитие численных методов привело к способности рассмотрения сложных моделей всевозможных явлений в различных отраслях знаний – от астрономии и физики, до экономики и психологии. Это проложило дорогу от открытия неизвестной ранее планеты Нептун, до возможности отказаться от ядерных испытаний, от исследования простейших экономических моделей, до анализа нейронных сетей и расчётов политической стабильности общества.

Естественно, что взрывное развитие компьютеров расширило возможности вычислительной математики. В данном курсе вы не только познакомитесь со многими её задачами, но и научитесь эффективно решать их, используя компьютер. В настоящий момент все решения доведены до реализации их в Excel, хотя понятно, что табличный офисный процессор не предназначен для использования во всех задачах, поэтому существует настоятельная необходимость изучения и овладения современными математическими пакетами MathCad, Maple, Mathematica, Matlab. В условиях временного дефицита при заочной форме обучения это потребует большой самостоятельной работы, но кафедра уже сейчас готова оказывать вам помощь в этом деле.

Раздел 1. Численные методы (59 часов)

Тема 1.1. Обработка результатов измерений и погрешности вычислений (2 часа)

[7], с.8 ... 35

Источники и классификация погрешности. Запись чисел в ЭВМ. Абсолютная и относительная погрешности. Формы записи данных. О вычислительной погрешности. Погрешности функций.

Тема 1.2. Интерполяция и численное дифференцирование (8 часов)

[7], с.35 ... 85

Постановка задачи приближения функции. Интерполяционный многочлен Лагранжа. Оценка остаточного члена. Разделенные разности. Интерполяционная формула Ньютона. Уравнения в конечных разностях.

Многочлены Чебышева. Обратная интерполяция. Ортогональные системы. Численное дифференцирование. Погрешности формул численного дифференцирования.

Тема 1.3. Численное интегрирование (9 часов)

[7], с.86 ...164

Квадратурные формулы Ньютона-Котеса. Квадратурные формулы Гаусса. Задачи оптимизации. Формулы Эйлера и Грегори. Формулы Ромберга. Стандартные программы численного интегрирования. Построение программ с автоматическим выбором шага интегрирования.

Тема 1. 4. Приближение функций (9 часов)

[7], с.164 ... 200

Наилучшие приближения в разных пространствах. Дискретное преобразование Фурье. Быстрое преобразование Фурье. Наилучшее равномерное приближение. Итерационный метод. Интерполяция и приближение сплайнами.

Тема 1.5. Многомерные задачи (8 часов)

[7], с.201 ... 250

Методы неопределенных коэффициентов, наименьших квадратов и регуляризации. Сведение многомерных задач к одномерным. Метод Монте-Карло. Выбор метода решения задачи.

Тема 1. 6. Численные методы алгебры (7 часов)

[7], с.250 ... 324

Методы последовательного исключения, ортогонализации и простой итерации. Оптимизация скорости сходимости итерационных процессов. Метод Зайделя и наискорейшего спуска. Метод Монте-Карло решения систем линейных уравнений. Проблема собственных значений.

Тема 1.7. Решение систем нелинейных уравнений и задач оптимизации (8 часов)

[7], с.324 ... 360

Простые итерации, метод Ньютона и метод спуска. Методы уменьшения размерности. Решение стационарных задач методом установления. Целевая функция.

Тема 1.8. Численные методы решения обыкновенных дифференциальных уравнений (8 часов)

[7], с.360 ... 495

Решение задачи Коши: разложение в ряд и методы Рунге-Кутты. Контроль погрешности на шаге. Конечно-разностные методы. Метод неопределенных коэффициентов. Интегрирование систем уравнений. Краевые задачи. Функция Грина. Нелинейные краевые задачи. Метод прогонки.

Раздел 2. Теория функций комплексного переменного (70 часов)

Тема 2.1. Комплексные числа и действия над ними (4 часа)

[6], с. 10 ... 15

Определение комплексного числа (к.ч.). Геометрическая интерпретация к.ч. Алгебраическая, тригонометрическая и показательная формы к.ч. Действия с к.ч. в различных формах.

Тема 2.2. Функции комплексного переменного (ФКП). Условия Коши-Римана (8 часов)

[6], с.15 ... 22

Определение ФКП. Предел и непрерывность. Производная и дифференциал. Необходимое и достаточное условие дифференцируемости. Правила дифференцирования. Регулярность. Гармонические функции.

Тема 2.3. Элементарные функции и конформные отображения (12 часов)

[6], с.22 ... 38

Линейная ФКП. Геометрический смысл производной. Дробно-линейная, показательная, логарифмическая, тригонометрические и гиперболические ФКП.

Тема 2.4. Представление регулярных функций интегралами (16 часов)

[6], с.39 ... 59

Интеграл от ФКП. Свойства интеграла. Теорема Коши. Интеграл с переменным верхним пределом. Основная формула интегрального исчисления.

Тема 2.5. Представление регулярных функций рядами (16 часов)

[6], с.59 ... 75

Функциональные ряды. Равномерная сходимость. Признак Вейерштрасса о равномерной сходимости. Степенные ряды. Теорема Абеля. Ряд Тэйлора. Разложение элементарных функций в степенные ряды. Ряд Лорана. Изолированные особые точки. Разложение в ряд Лорана в окрестности бесконечно удаленной точки.

Тема 2.6. Вычеты функций и их применения (14 часов)

[6], с.75 ... 94

Теорема Коши о вычетах. Вычисление вычетов. Вычет в бесконечно удалённой точке. Приложение вычетов к вычислению интегралов.

Раздел 3. Дискретная математика (20 часов)

Тема 3.1. Элементы теории графов (8 часов)

[8], с.161 ... 260

Основные определения. Типы задач. Задача о построении кратчайшего пути. Алгоритм Дейкстры. Остовное дерево. Алгоритм ближайшего соседа.

Тема 3.2. Формальные языки и дискретные автоматы (4 часа)

[8], с.94 ... 101

Структура формального языка. Построение слов. Дискретные автоматы с памятью и без. Сумматор.

Тема 3.3. Элементы алгебры логики (8 часов)

[8], с.23 ... 90

Высказывания. Основные логические операции. Булевы функции и нормальные формы. Совершенные дизъюнктивная и конъюнктивная нормальные формы. Полные системы булевых функций и базис. Нахождение сокращённой ДНФ методом Квайна. Построение минимальных ДНФ методом Петрика. Технические применения алгебры логики.

2.2. Тематический план дисциплины

2.2.1. Тематический план дисциплины для студентов очной формы обучения

№ п/п	Наименование раздела, (отдельной темы)	Кол-во часов по очной форме обучения	Виды занятий и контроля										
			Лекции		ПЗ (С)		ЛР		Самостоятельная работа	Тесты	Контрольные работы	ПЗ (С)	ЛР
			Аудит.	ДОТ	Аудит.	ДОТ	Аудит.	ДОТ					
ВСЕГО		150	32	10	32		16		60	3		13	5
	Введение.	1							1				
1	Раздел 1. Численные методы	59	12	4	7		16		20	№1		5	
1.1.	<i>Обработка результатов измерений и погрешности вычислений</i>	2			1				1				
1.2.	<i>Интерполяция и численное дифференцирование</i>	8	4				4						Л/Р 1
1.3.	<i>Численное интегрирование</i>	9	4		1		4						Л/Р 4
1.4.	<i>Приближение функций</i>	9		1	2				6				
1.5.	<i>Многомерные задачи</i>	8		1					7				
1.6	<i>Численные методы алгебры</i>	7			1		4		2				Л/Р 2,3
1.7	<i>Решение систем нелинейных уравнений и задач оптимизации</i>	8		2	2				4				
1.8	<i>Численные методы решения обыкновенных дифференциальных уравнений</i>	8	4				4						Л/Р 5
2	Раздел 2. Теория функций комплексного переменного	70	12	3	21				34	№2		6	
2.1	<i>Комплексные числа и действия над ними</i>	8	1		4				3				
2.2	<i>Функции комплексного переменного. Условия Коши-Римана</i>	8	1		4				3				
2.3	<i>Элементарные функции и конформные отображения</i>	12	1	1	4				6				
2.4	<i>Представление регулярных функций интегралами</i>	14	4		3				7				
2.5	<i>Представление регулярных функций рядами</i>	14	4		3				7				
2.6	<i>Вычеты функций и их применения</i>	14	1	2	3				8				
3	Раздел 3. Дискретная математика	20	8	3	4				5	№3		2	
3.1	<i>Элементы теории графов</i>	8	4		2				2				
3.2	<i>Формальные языки и дискретные автоматы</i>	4		3					1				
3.3	<i>Элементы алгебры логики</i>	8	4		2				2				

2.2.2. Тематический план дисциплины
для студентов очно-заочной формы обучения

№ п/п	Наименование раздела, (отдельной темы)	Кол-во часов по очной форме обучения	Виды занятий и контроля											
			Лекции		ПЗ (С)		ЛР		Самостоятельная работа	Тесты	Контрольные работы	ПЗ (С)	ЛР	
			Аудит.	ДОГ	Аудит.	ДОГ	Аудит.	ДОГ						
ВСЕГО			150	16	34	16	16	8		60	3	2	12	5
	Введение.	1							1					
1	Раздел 1. Численные методы	59	6	18	4	3	8		20	№1	№1	4		
1.1.	<i>Обработка результатов измерений и погрешности вычислений</i>	2		1		1								
1.2.	<i>Интерполяция и численное дифференцирование</i>	8	2	4			2				Зад.1		Л/Р 1	
1.3.	<i>Численное интегрирование</i>	9	2	2	1	1	2		1		Зад.3		Л/Р 4	
1.4.	<i>Приближение функций</i>	9		1	1	1			6					
1.5.	<i>Многомерные задачи</i>	8		1					7					
1.6	<i>Численные методы алгебры</i>	7		2	1		2		2		Зад.2		Л/Р 2,3	
1.7	<i>Решение систем нелинейных уравнений и задач оптимизации</i>	8		3	1				4					
1.8	<i>Численные методы решения обыкновенных дифференциальных уравнений</i>	8	2	4			2				Зад.4		Л/Р 5	
2	Раздел 2. Теория функций комплексного переменного	70	6	12	10	8			34		№2	6		
2.1	<i>Комплексные числа и действия над ними</i>	8	0,5	1,5	2	1			3		Зад.5			
2.2	<i>Функции комплексного переменного. Условия Коши-Римана</i>	8	0,5	1,5	2	1			3		Зад.6			
2.3	<i>Элементарные функции и конформные отображения</i>	12	0,5	2	2	1,5			6					
2.4	<i>Представление регулярных функций интегралами</i>	14	2	2	1,5	1,5			7		Зад.7			
2.5	<i>Представление регулярных функций рядами</i>	14	2	2	1,5	1,5			7					
2.6	<i>Вычеты функций и их применения</i>	14	0,5	3	1	1,5			8					
3	Раздел 3. Дискретная математика	20	4	4	2	5			5			2		
3.1	<i>Элементы теории графов</i>	8	2	1	1	2,5			1,5		Зад.8			
3.2	<i>Формальные языки и дискретные автоматы</i>	4		2					2					
3.3	<i>Элементы алгебры логики</i>	8	2	1	1	2,5			1,5		Зад.9			

2.2.3. Тематический план дисциплины
для студентов заочной формы обучения

№ п/п	Наименование раздела, (отдельной темы)	Кол-во часов по очной форме обучения	Виды занятий и контроля											
			Лекции		ПЗ (С)		ЛР		Самостоятельная работа	Тесты	Контрольные работы	ПЗ (С)	ЛР	
			Аудит.	ДОГ	Аудит.	ДОГ	Аудит.	ДОГ						
ВСЕГО			150	8	45	8	25	4		60	3	2	8	5
	Введение.	1								1				
1	Раздел 1. Численные методы	59	3	20	2	10	4		20		№1	2		
1.1.	<i>Обработка результатов измерений и погрешности вычислений</i>	2				2								
1.2.	<i>Интерполяция и численное дифференцирование</i>	8	1	6			1				Зад.1			Л/Р 1
1.3.	<i>Численное интегрирование</i>	9	1	3	1	2	1		1		Зад.3			Л/Р 4
1.4.	<i>Приближение функций</i>	9			1	2			6					
1.5.	<i>Многомерные задачи</i>	8		1					7					
1.6	<i>Численные методы алгебры</i>	7		2		2	1		2		Зад.2			Л/Р 2,3
1.7	<i>Решение систем нелинейных уравнений и задач оптимизации</i>	8		2		2			4					
1.8	<i>Численные методы решения обыкновенных дифференциальных уравнений</i>	8	1	6			1				Зад.4			Л/Р 5
2	Раздел 2. Теория функций комплексного переменного	70	3	18	5	10			34		№2	5		
2.1	<i>Комплексные числа и действия над ними</i>	8	0,5	2,5	1	1			3		Зад.5			
2.2	<i>Функции комплексного переменного. Условия Коши-Римана</i>	8	0,5	2,5	1	1			3		Зад.6			
2.3	<i>Элементарные функции и конформные отображения</i>	12	0,5	2,5	1	2			6					
2.4	<i>Представление регулярных функций интегралами</i>	14	0,5	3,5	1	2			7		Зад.7			
2.5	<i>Представление регулярных функций рядами</i>	14	0,5	3,5	1	2			7					
2.6	<i>Вычеты функций и их применения</i>	14	0,5	3,5		2			8					
3	Раздел 3. Дискретная математика	20	2	8	1	4			5			1		
3.1	<i>Элементы теории графов</i>	8	1	3	1	1,5			1,5		Зад.8			
3.2	<i>Формальные языки и дискретные автоматы</i>	4		2					2					
3.3	<i>Элементы алгебры логики</i>	8	1	3		2,5			1,5		Зад.9			

2.3. Структурно-логическая схема дисциплины



2.4. Временной график изучения дисциплины при использовании информационно-коммуникационных технологий

№	Название раздела	Продолжительность изучения раздела (темы) в днях (из расчета – 4 часа в день)
1.	Численные методы	15
2.	ТФКП	17,5
3.	Дискретная математика	5
Итого:		37,5

2.5. Практический блок

2.5.1. Практические занятия

2.5.1.1. Практические занятия (очная форма обучения)

Номер и название раздела (темы)	Наименование практических занятий	Кол-во часов	
		Ауд.	ДОТ
1. Численные методы	Численные методы в инженерных расчётах	7	
2. ТФКП	Задачи по теории функций компл. переменного	21	
3. Дискретная математика	Теория графов, дискр. автоматы, алгебра логики	4	

2.5.1.2. Практические занятия (очно-заочная форма обучения)

Номер и название раздела (темы)	Наименование практических занятий	Кол-во часов	
		Ауд.	ДОТ
1. Численные методы	Численные методы в инженерных расчётах	4	3
2. ТФКП	Задачи по теории функций компл. переменного	10	8
3. Дискретная математика	Теория графов, дискр. автоматы, алгебра логики	2	5

2.5.1.3. Практические занятия (заочная форма обучения)

Номер и название раздела (темы)	Наименование практических занятий	Кол-во часов	
		Ауд.	ДОТ
1. Численные методы	Численные методы в инженерных расчётах	2	10
2. ТФКП	Задачи по теории функций компл. переменного	5	10
3. Дискретная математика	Теория графов, дискр. автоматы, алгебра логики	1	4

2.5.2. Лабораторный практикум

2.5.2.1. Лабораторные работы (очная форма обучения)

Номер и название раздела (темы)	Наименование лабораторной работы	Кол-во часов	
		Ауд.	ДОТ
1. Численные методы	1. Интерполяция функций с равноотстоящими узлами методом Ньютона	4	
	2. Приближённое решение уравнений. Отделение корней. Уточнение корней методом касательных	2	
	3. Уточнение корней уравнения средствами Excel. Решение системы уравнений в Excel	2	
	4. Приближённое интегрирование функций с заданным шагом	4	
	5. Решение дифференциальных уравнений методом Эйлера	4	
2. ТФКП			
3. Дискретная математика			

2.5.2.2. Лабораторные работы (очно-заочная форма обучения)

Номер и название раздела (темы)	Наименование лабораторной работы	Кол-во часов	
		Ауд.	ДОТ
1. Численные методы	1. Интерполяция функций с равноотстоящими узлами методом Ньютона	2	
	2. Приближённое решение уравнений. Отделение корней. Уточнение корней методом касательных	1	
	3. Уточнение корней уравнения средствами Excel. Решение системы уравнений в Excel	1	
	4. Приближённое интегрирование функций с заданным шагом	2	
	5. Решение дифференциальных уравнений методом Эйлера	2	
2. ТФКП			
3. Дискретная математика			

2.5.2.3. Лабораторные работы (заочная форма обучения)

Номер и название раздела (темы)	Наименование лабораторной работы	Кол-во часов	
		Ауд.	ДОТ
1. Численные методы	1. Интерполяция функций с равноотстоящими узлами методом Ньютона	1	
	2. Приближённое решение уравнений. Отделение корней. Уточнение корней методом касательных	0,5	
	3. Уточнение корней уравнения средствами Excel. Решение системы уравнений в Excel	0,5	
	4. Приближённое интегрирование функций с заданным шагом	1	
	5. Решение дифференциальных уравнений методом Эйлера	1	
2. ТФКП			
3. Дискретная математика			

2.6. Балльно-рейтинговая система оценки знаний

Для успешного завершения изучения дисциплины необходимо, кроме изучения теоретического материала, выполнение лабораторных и практических работ и, для очно-заочной и заочной форм обучения, двух контрольных работ, предусмотренных учебным планом.

Базисные рейтинг - баллы равны 100, в том числе:

- 34 балла – лекционные занятия (теоретический материал) – по результатам тестирования;
- 30 баллов – лабораторные занятия;
- 36 баллов – контрольные работы (для очно-заочной и заочной форм обучения).

Оценка **теоретических знаний** производится по результатам контрольного мероприятия, которым является тестирование. Тестирование проводится по всем трем разделам изучаемой дисциплины. Тест по первому разделу содержит 5 вопросов, по второму разделу – 7 вопросов, по третьему – 5 вопросов. Каждый правильный ответ оценивается в 2 балла. Таким образом, максимальное количество баллов за тестирование составляет $17 \cdot 2 = 34$. Повторное тестирование в случае необходимости проводится по новому варианту тестов.

Лабораторные занятия - 30 баллов.

За успешное выполнение всего цикла из пяти лабораторных работ начисляется 30 баллов; при невыполнении какой-либо из работ снимаются штрафные баллы: 7,5 баллов при очно-заочной форме обучения и 15 баллов при заочной форме обучения.

Контрольные работы – 36 баллов.

Студенты всех специальностей разделены на три группы и выполняют задания двух контрольных работ в соответствии с таблицей, приведённой в п.4.1. Первые две группы должны решить по семь заданий. За правильное решение каждого задания начисляется по 4 балла; при выполнении всего

объема контрольной работы дополнительно начисляется 8 поощрительных баллов. Третья группа решает пять заданий, получая за правильное решение каждого по 6 баллов, а при выполнении всего объёма – дополнительно 6 баллов. Студенты очной формы обучения за активную работу на практических занятиях могут получить 36 баллов.

Оценка результатов обучения (ранжирование результатов) проводится в соответствии со следующей схемой:

Количество набранных баллов	50 ... 64	65 ... 84	85 ... 100
Оценка	Удовлетворительно	Хорошо	Отлично

3. Информационные ресурсы дисциплины

3.1. Библиографический список

Основной:

1. Карпова, Е.А. Элементы теории функций комплексного переменного: учеб. пособие/ Е. А.Карпова, М. Б. Шабаева. - Изд. 2-е, доп. - СПб.: Изд-во СЗТУ, 2006.
2. Бессонова, Вычислительная математика. Элементы дискретной математики/ Т.Д.Бессонова, В.А.Головков. – СПб.: Изд-во СЗТУ, 2006.- 55 с.
3. Бахвалов, Н.С. Численные методы /Н.С.Бахвалов, Н.П.Жидков, Г.М.Кобельков. – 3-е изд., доп. и перераб. – М.: БИНОМ. Лаборатория знаний, 2004.- 636 с.
4. Тарасенко В.В. Математика, ч.2. Численные методы, теория функций комплексного переменного, дискретная математика: учеб. пособие, – СПб.: Изд-во СЗТУ, 2008.-71 с.
5. Математика ч.2: учебно-методический комплекс / сост. В.В.Тарасенко. – СПб.: Изд-во СЗТУ, 2008. – 123 с.
6. Тарасенко В.В. Вычислительная математика. Прикладной пакет Maple. Применения в линейной алгебре, теории графов и сетях, теории вероятностей и математической статистике: учеб. пособие. – СПб.: Изд-во СЗТУ, 2004.- 62 с.

Дополнительный:

7. Лаврентьев, М.А. Методы теории функций комплексного переменного /М.А.Лаврентьев, Б.В.Шабат. – М.: Наука, 1973.- 606 с.
8. Нефёдов, В.Н. Курс дискретной математики /В.Н.Нефёдов, В.А.Осипова.– М.: Изд-во МАИ, 1992.- 264 с.

9. Вычислительная математика. Численные методы: метод. указ. к выполнению лабораторных работ/ сост. И.А.Бригаднов, С.В.Субботин. – СПб.: Изд-во СЗТУ, 2002.- 32 с.
10. Вычислительная математика. Элементы теории функции комплексного переменного и операционное исчисление. Рабочая программа. Задание на контрольную работу. Методические указания к выполнению контрольной работы/ сост. Т.Д.Бессонова. – СПб.: Изд-во СЗТУ, 2005.- 25 с.
11. Бригаднов И.А. Методы вычислительной математики: учеб. пособие. – СПб.: Изд-во СЗТУ, 2001.- 83 с.

Средства обеспечения освоения дисциплины (ресурсы Internet)

12. <http://elib.nwpi.ru>

13. <http://eqworld.ipmnet.ru/ru/library.htm>

14. www.exponenta.ru

3.2. Опорный конспект лекций по дисциплине

Введение

Вы начинаете изучение дисциплины «Математика 2». Эта дисциплина содержит четыре раздела: численные методы, теория функций комплексного переменного, элементы дискретной математики, а также теория вероятностей с элементами математической статистики. Из них первые три изучаются в первом семестре, а четвертый – во втором. Понятно, что каждый раздел представляет собой самостоятельную тему, не связанную с другими. Но все они имеют прикладную направленность, что и позволяет объединить их в рамках одной дисциплины.

Раздел 1. ЧИСЛЕННЫЕ МЕТОДЫ

Первый раздел включает восемь тем: *Обработка результатов измерений и погрешности вычислений; Интерполяция и численное дифференцирование; Численное интегрирование; Приближение функций; Многомерные задачи; Численные методы алгебры; Решение систем нелинейных уравнений и задач оптимизации; Численные методы решения обыкновенных дифференциальных уравнений.*

Работа с разделом 1 завершается сдачей контрольного теста.

Для того чтобы Вы смогли успешно ответить на вопросы контрольного теста, Вам предоставляется возможность поработать с репетиционным тестом. Он является полным аналогом контрольного теста, однако время работы с ним не ограничено, и даются правильные ответы на вопросы.

Если Вы испытываете затруднения в ответе на какой-либо вопрос, обратитесь к глоссарию или учебному пособию.

1.1. Обработка результатов измерений и погрешности вычислений

Изучаемые вопросы: Источники и классификация погрешности. Запись чисел в ЭВМ. Абсолютная и относительная погрешности. Формы записи данных. О вычислительной погрешности. Погрешности функций.

После изучения каждой темы Вам следует ответить на вопросы для самопроверки.

Следует различать погрешности измерений и погрешности решения задач. Первые изучаются в физике, а вторые обуславливаются несколькими причинами: неточностью модели, описывающей то или иное явление, неточностью метода решения и неточностью данных на этапе ввода их для решения, или вывода результатов округления. Поэтому говорят о *неустранимых погрешностях, погрешностях метода и вычислительных погрешностях*.

Если a – точное значение некоторой величины, а a^* – приближённое, то *абсолютной погрешностью* приближённого значения a^* называют величину $\Delta(a^*)$, про которую известно, что

$$|a - a^*| \leq \Delta(a^*). \quad (1)$$

Относительной погрешностью приближённого значения a^* называют величину $\delta(a^*)$, про которую известно, что

$$\left| \frac{a - a^*}{a^*} \right| \leq \delta(a^*). \quad (2)$$

Часто её выражают в процентах.

Абсолютную и относительную погрешности принято записывать в виде числа, содержащего одну или две значащие цифры в форме

$$a = a^* \pm \Delta(a^*), \quad a = a^* (1 + \delta(a^*)). \quad (3)$$

Например,

$$a = 36,6 \pm 0,1 = 36,6 \pm 1 \cdot 10^{-1};$$

$$a = 36,6(1 \pm 0,003) = 36,6(1 \pm 3 \cdot 10^{-3}) = 36,6(1 \pm 0,3\%).$$

Пример 1. □ Абсолютная и относительная погрешности числа π .

Число π – трансцендентное число, равное 3,1415926... . Приближённое значение $\pi^* = 3,14$. Граница абсолютной погрешности

$|\pi - \pi^*| = 0,001592\dots$, или, с учётом (3), $\pi = 3,14 \pm 0,002$. Граница

относительной погрешности $\delta(\pi^*) = \frac{0,00159}{3,14} = 0,0005$. ■

Значащими цифрами числа a^* называют все цифры в его записи, начиная с первой ненулевой слева.

Пример 2. □ Подчёркнуты значащие цифры в следующих числах:
 0,573; 24,0350; 0,0025400. ■

Значащая цифра числа a^* называется *верной*, если абсолютная погрешность числа не превосходит единицы разряда, соответствующего этой цифре.

Пример 3. □ Верные цифры числа $\pi = 3,1415926$ подчёркнуты:

Если $\Delta(\pi^*) = 0,01$, то верных цифр в числе три: $\pi = \underline{3,14}15926$,

если $\Delta(\pi^*) = 0,02$, то верных цифр в числе две: $\pi = \underline{3,1}415926$,

если $\Delta(\pi^*) = 0,001$, то верных цифр в числе четыре: $\pi = \underline{3,141}5926$. ■

Для оценки погрешности арифметических действий используют следующие правила.

Абсолютные погрешности суммы или разности не превосходят абсолютной погрешности их членов:

$$\Delta(a^* \pm b^*) \leq \Delta(a^*) + \Delta(b^*) \quad (4)$$

Относительные погрешности в этом случае

$$\delta(a^* \pm b^*) \leq \frac{a^* \delta(a^*) + b^* \delta(b^*)}{a^* \pm b^*} \quad (5)$$

Абсолютные погрешности произведения и частного рассчитывают по формулам

$$\Delta(a^* b^*) = b^* \Delta a^* + a^* \Delta b^* \text{ и} \quad (6)$$

$$\Delta\left(\frac{a^*}{b^*}\right) = \frac{\Delta(a^* b^*)}{b^2} \quad (7)$$

соответственно. Их относительные погрешности равны:

$$\delta(a^* b^*) = \delta\left(\frac{a^*}{b^*}\right) = \delta a^* + \delta b^*. \quad (8)$$

В частности,

$$\Delta\left[(a^*)\right]^m = m(a^*)^{m-1} \Delta(a^*), \quad \delta\left[(a^*)\right]^m = m\delta(a^*). \quad (9)$$

Пример 4. Вычислить и определить погрешности результата.

$$N = \frac{(n-1)(m+n)}{(m-n)^2}, \text{ где } n = 3,0567 \pm 0,0001, m = 5,72 \pm 0,02.$$

□ Имеем $n-1 = 2,0567$; $\Delta(n-1) = \Delta n + \Delta 1 = 0,0001 + 0 = 0,0001$;

$$m + n = 5,72 + 3,0567 = 8,7767; \Delta(m + n) = \Delta m + \Delta n = 0,02 + 0,0001 = 0,0201;$$

$$m - n = 5,72 - 3,0567 = 2,6633; \Delta(m - n) = \Delta(m + n) = 0,0201;$$

Тогда

$$N = \frac{2,0567 \cdot 8,7767}{2,6633^2} = \frac{2,0567 \cdot 8,7767}{7,0932} = 2,5448 \approx 2,545;$$

Относительная погрешность

$$\delta N = \frac{\Delta(n-1)}{n-1} + \frac{\Delta(m+n)}{m+n} + 2 \cdot \frac{\Delta(m-n)}{m-n} = \frac{0,0001}{2,0567} + \frac{0,0201}{8,7767} + 2 \cdot \frac{0,0201}{2,6633} = 0,01744 = 1,74\%;$$

Тогда абсолютная погрешность равна $\Delta N = N \cdot \delta N = 2,545 \cdot 0,01744 = 0,044$.

Итак, $N = 2,545 \pm 0,044$. ■

Существенную часть теории численных методов составляет построение устойчивых алгоритмов, использование которых ведёт к искажению результатов вычислений с погрешностью, находящейся в заданных пределах. В этом случае говорят о вычислительной погрешности. Например, потеря значащих цифр происходит при вычитании близких больших чисел. Если такие числа округлить с большой абсолютной погрешностью, то результат вычитания их также даст большую абсолютную погрешность. Во избежание этого такие расчёты следует проводить с двойной точностью.

Следует помнить, что *предельная абсолютная погрешность суммы или разности равна сумме предельных погрешностей, а предельная относительная погрешность произведения или частного равна сумме предельных относительных погрешностей.*

Подробнее об этой теме можно узнать из [7], с.17-34.

Вопросы для самопроверки по теме 1.1

1. Что такое абсолютная и относительная погрешности?
2. Можно ли выражать погрешность в процентах? Какую погрешность?
3. В какой форме записывают абсолютную и относительную погрешности?
4. Чему равны погрешности суммы и разности, а также произведения и частного? О каких погрешностях в данных случаях идёт речь?

1.2. Интерполяция и численное дифференцирование

Изучаемые вопросы: Постановка задачи приближения функции. Интерполяционный многочлен Лагранжа. Оценка остаточного члена. Разделенные разности. Интерполяционная формула Ньютона. Уравнения в конечных разностях. Многочлены Чебышева. Обратная интерполяция. Ортогональные системы. Численное дифференцирование. Погрешности формул численного дифференцирования.

После изучения материала опорного конспекта и письменных лекций Вам следует решить одну из задач контрольной работы согласно «Методическим указаниям к выполнению контрольной работы. Для проверки усвоения материала Вам предстоит ответить на вопросы для самопроверки.

1.2.1. Приближение функций одной переменной

Одной из наиболее важных проблем численного анализа является проблема приближенного описания неизвестной функциональной зависимости по известным ее значениям в некоторых точках, называемых узловыми.

Задача ставится следующим образом.

Пусть функция $y = f(x)$ задана таблицей 1, в которой для $n+1$ значений аргумента x_0, x_1, \dots, x_n известны $n+1$ значений функции $y_0 = f(x_0), y_1 = f(x_1), \dots, y_n = f(x_n)$.

Т а б л и ц а 1

x_i	x_0	x_1	...	x_n
y_i	$y_0 = f(x_0)$	$y_1 = f(x_1)$...	$y_n = f(x_n)$

Требуется вычислить значения функции для значений аргумента, не совпадающих с заданными в таблице. Для этого неизвестную функцию $f(x)$ заменяют функцией $F(x)$, аналитическое выражение которой известно. Эта функция $F(x)$ называется *интерполирующей функцией*, а задача её нахождения – *задачей интерполяции*. Точки x_0, x_1, \dots, x_n при этом называются *узлами интерполяции*.

Таким образом, при интерполяции строится функция

$$F(x) = c_1\varphi_1(x) + c_2\varphi_2(x) + \dots + c_m\varphi_m(x), \quad (1)$$

где c_1, c_2, \dots, c_m – числовые коэффициенты, которые следует определить, а $\varphi_1(x), \varphi_2(x), \dots, \varphi_m(x)$ – известные функции. В качестве последних обычно используют алгебраические или тригонометрические многочлены и другие классы функций.

Рассмотрим некоторые методы интерполяции алгебраическими многочленами, т.е., когда интерполирующая функция – многочлен n -ой степени, значения которого в узлах совпадают со значениями интерполируемой функции.

Построим многочлен

$$P_n(x) = a_0x^n + a_1x^{n-1} + \dots + a_{n-1}x + a_n, \quad (2)$$

который будет интерполяционным, если его значения совпадают со значениями заданной функции в узлах интерполирования, т.е., если выполняется система из $n+1$ равенства

$$\begin{cases} y_0 = f(x_0) = P_n(x_0) \\ y_1 = f(x_1) = P_n(x_1) \\ \dots\dots\dots \\ y_n = f(x_n) = P_n(x_n) \end{cases} \quad (3)$$

Задача состоит в вычислении коэффициентов $a_i (i = 0, 1, \dots, n)$ интерполяционного многочлена.

Представление неизвестной функции через интерполирующую функцию обеспечивается критериями согласия. Это либо критерий «точного совпадения в узлах», либо критерий «наименьших квадратов отклонений», либо критерий «минимума максимального отклонения».

Геометрически задачу интерполирования можно представить следующим образом.

На промежутке $[x_0, x_n]$ график функции $f(x)$ заменяется графиком многочлена $P_n(x)$, проходящего через множество точек (x_k, y_k) . При $n=1$ график функции $f(x)$ на интервале $[x_0, x_1]$ заменяется отрезком прямой (линейная интерполяция), при $n=2$ график функции $f(x)$ на интервале $[x_0, x_2]$ – отрезком параболы, проходящей через три точки – квадратичная интерполяция (рис. 1), где сплошная линия соответствует графику $y = f(x)$, а пунктирная – графику интерполяционного многочлена.

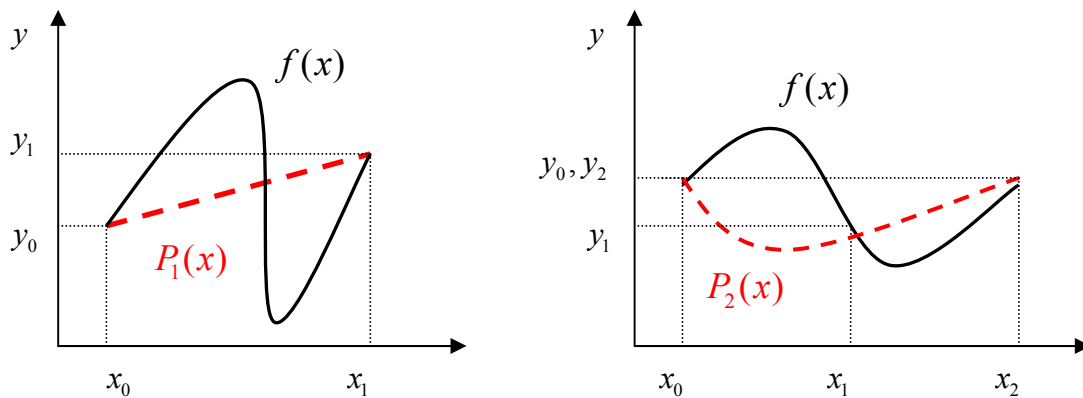


Рис.1. Интерполяция полиномами 1-й и 2-й степени.

Замечание: приближённое восстановление функции $f(x)$ внутри минимального отрезка, содержащего все узлы интерполяции, называется *интерполяцией функции*, восстановление же вне этого отрезка называется *экстраполяцией функции*.

1.2.2. Интерполяционные многочлены

В общем случае интерполяционный многочлен (2), записанный в форме

$$L_n(x) = A_0(x-x_1)(x-x_2)\dots(x-x_n) + A_1(x-x_0)(x-x_2)\dots(x-x_n) + \dots + A_k(x-x_0)(x-x_1)\dots(x-x_{k-1})(x-x_{k+1})\dots(x-x_n) + \dots + A_n(x-x_0)(x-x_1)\dots(x-x_{n-1}) \quad (4)$$

называют *многочленом Лагранжа*.

Коэффициенты A_k определяют из условий (3). Пусть в (4) $x = x_k$, тогда для точки x_k

$$L_n(x_k) = y_k = f(x_k) = A_k(x-x_0)(x-x_1)\dots(x-x_{k-1})(x-x_{k+1})\dots(x-x_n) \text{ и,}$$

следовательно,

$$A_k = \frac{y_k}{(x-x_0)(x-x_1)\dots(x-x_{k-1})(x-x_{k+1})\dots(x-x_n)}.$$

Т.е. в кратком виде полином Лагранжа можно записать так:

$$L_n(x) = \sum_{i=0}^n f(x_i) \prod_{j \neq i} \frac{x-x_j}{x_i-x_j}. \quad (5)$$

Можно доказать теорему:

Теорема: существует единственный интерполяционный многочлен n – ой степени, значения которого совпадают со значениями функции в узлах интерполяции.

Поэтому, имея $n+1$ узел, можно построить интерполяционный многочлен степени n .

Рассмотрим случай, когда узлы интерполирования равно отстоят друг от друга, т.е. $x_1 - x_0 = x_2 - x_1 = \dots = x_n - x_{n-1} = h$. Конечными разностями первого порядка функции $f(x)$ называются выражения

$$\begin{aligned} \Delta y_0 &= y_1 - y_0 \\ \Delta y_1 &= y_2 - y_1 \\ &\dots \\ \Delta y_{n-1} &= y_n - y_{n-1} \end{aligned},$$

а в общем виде, разности первого порядка

$$\Delta y_k = y_{k+1} - y_k, \text{ где } k = 0, 1, \dots, n-1. \quad (6)$$

Конечные разности второго порядка

$$\begin{aligned} \Delta^2 y_0 &= \Delta y_1 - \Delta y_0 = y_2 - 2y_1 + y_0 \\ \Delta^2 y_1 &= \Delta y_2 - \Delta y_1 = y_3 - 2y_2 + y_1 \\ &\dots \\ \Delta^2 y_{n-2} &= \Delta y_{n-1} - \Delta y_{n-2} = y_n - 2y_{n-1} + y_{n-2} \end{aligned},$$

или, в общем виде, разности второго порядка

$$\Delta^2 y_k = \Delta y_{k+1} - \Delta y_k = y_{k+2} - 2y_{k+1} + y_k, \quad k = 0, 1, \dots, n-2. \quad (7)$$

Аналогично, разность порядка m определяется формулой

$$\Delta^m y_k = \Delta^{m-1} y_{k+1} - \Delta^{m-1} y_k, \quad k = 0, 1, \dots, n - m. \quad (8)$$

Вычисление разностей удобно оформлять в виде таблицы (см. табл.2). Каждый элемент таблицы получается вычитанием элемента этой же строки из элемента последующей строки предыдущего столбца.

Т а б л и ц а 2

k	x_k	y_k	Δy_k	$\Delta^2 y_k$	$\Delta^3 y_k$	$\Delta^4 y_k$	$\Delta^5 y_k$
0	x_0	y_0	Δy_0	$\Delta^2 y_0$	$\Delta^3 y_0$	$\Delta^4 y_0$	$\Delta^5 y_0$
1	x_1	y_1	Δy_1	$\Delta^2 y_1$	$\Delta^3 y_1$	$\Delta^4 y_1$	---
2	x_2	y_2	Δy_2	$\Delta^2 y_2$	$\Delta^3 y_2$	---	---
3	x_3	y_3	Δy_3	$\Delta^2 y_3$	---	---	---
4	x_4	y_4	Δy_4	---	---	---	---
5	x_5	y_5	---				

Пример: функция $y = f(x)$ задана таблицей
(Назовём эти данные экспериментальными).

x	0	1	2	3
y	5	5	9	25

Составить таблицу конечных разностей.

□ Результаты сведены в таблицу, содержащую разности до третьего порядка включительно.

k	x_k	y_k	Δy_k	$\Delta^2 y_k$	$\Delta^3 y_k$
0	0	5	0	4	8
1	1	5	4	12	
2	2	9	16		
3	3	25			

Действительно, $\Delta y_0 = y_1 - y_0 = 5 - 5 = 0$,

$$\Delta y_1 = y_2 - y_1 = 9 - 5 = 4, \quad \Delta y_2 = y_3 - y_2 = 25 - 9 = 16,$$

$$\Delta^2 y_0 = \Delta y_1 - \Delta y_0 = y_2 - 2y_1 + y_0 = 9 - 2 \cdot 5 + 5 = 4,$$

$$\Delta^2 y_1 = \Delta y_2 - \Delta y_1 = y_3 - 2y_2 + y_1 = 25 - 2 \cdot 9 + 5 = 12,$$

$$\Delta^3 y_1 = \Delta^2 y_2 - \Delta^2 y_1 = 12 - 4 = 8. \blacksquare$$

Если узлы интерполирования равноотстоящие, т.е. $x_k - x_{k-1} = h$, где h – шаг интерполирования (а в нашем примере это так), то удобно искать интерполяционный многочлен в виде многочлена Ньютона:

$$P_n(x) = A_0 + A_1(x - x_0) + A_2(x - x_0)(x - x_1) + \dots + A_n(x - x_0)(x - x_1)\dots(x - x_{n-1}). \quad (9)$$

Коэффициенты A_k при этом рассчитываются по формуле

$$A_k = \frac{\Delta^k y_0}{k! h^k}. \quad (10)$$

1.2.3. Численное дифференцирование

Простейшие формулы численного дифференцирования получают в результате дифференцирования интерполяционных формул.

Допустим, известны значения функции $f(x)$ в узлах x_0, x_1, \dots, x_n . Требуется вычислить производную $f^{(k)}(x_0)$. Строим интерполяционный многочлен $L_n(x)$

и полагаем, что $f^{(k)}(x_0) \approx L_n^{(k)}(x)$. Т.е. значения производных функции принимаются приближённо равными производным соответствующего порядка от многочлена интерполяции.

При аппроксимации функции интерполяционным многочленом Ньютона

$$f(x) \approx P_n(x) = y_0 + u\Delta y + \frac{u(u-1)}{2!}\Delta^2 y_0 + \dots + \frac{u(u-1)\dots(u-n+1)}{n!}\Delta^n y_0, \quad (11)$$

где $u = (x - x_0)/h$. Введём обозначение

$$\omega_k(u) = u(u-1)(u-2)\dots(u-k) = \prod_{s=0}^k (u-s), \quad (12)$$

тогда интерполяционный многочлен Ньютона примет вид

$$P_n(x) = y_0 + \sum_{k=0}^{n-1} \omega_k(u) \frac{\Delta^{k+1} y_0}{(k+1)!}, \quad (13)$$

и, дифференцируя это выражение, получим

$$f'(x) \approx P'_n(x) = \frac{1}{h} \sum_{k=0}^{n-1} \omega'_k(u) \frac{\Delta^{k+1} y_0}{(k+1)!}, \quad (14)$$

а т.к. $\omega_0(u) = u$ и $\omega'_0(u) = 1$, то

$$f'(x) \approx \frac{1}{h} \left[\Delta y_0 + \sum_{k=0}^{n-1} \omega'_k(u) \frac{\Delta^{k+1} y_0}{(k+1)!} \right]. \quad (15)$$

Аналогично, формула для второй производной будет:

$$f''(x) = \frac{1}{h^2} \left[\Delta^2 y_0 + \sum_{k=2}^{n-1} \omega''_k(u) \frac{\Delta^{k+1} y_0}{(k+1)!} \right]. \quad (16)$$

Из полученных формул следует, что основная сложность состоит в нахождении производных $\omega'_k(x)$ и $\omega''_k(x)$.

Получим расчётную формулу для первой производной $\omega'_k(x)$:

$$\omega'_k(x) = [u(u-1)(u-2)\dots(u-k)]' = (u-1)(u-2)\dots(u-k) + u(u-2)(u-3)\dots$$

$$(u-k) + \dots + u(u-1)(u-2)\dots(u-k+1) = \sum_{i=0}^k \prod_{\substack{s=0 \\ s \neq i}}^k (u-s).$$

Теперь пусть x совпадает с одним из узлов интерполирования. Тогда все слагаемые, кроме одного, не содержащего разности $u - v$ ($v = 0, 1, \dots, k, k \neq 0$) будут равны нулю. И

$$\omega'(u) = \begin{cases} \omega_k(u) \sum_{s=0}^k \frac{1}{u-s}, & \text{а́ñëè } u \neq v, \\ \prod_{\substack{s=0 \\ s \neq v}}^k (u-s), & \text{а́ñëè } u = v, \end{cases} \quad (17)$$

$v = 0, 1, \dots, k; k \neq 0$.

Полученные формулы позволяют вычислить приближённые значения производной при любом количестве узлов. В частности, при двух узлах интерполирования (линейная интерполяция)

$$f'(x) = \frac{1}{h} \Delta y_0. \quad (18)$$

При трёх узлах интерполирования (квадратичная интерполяция)

$$f'(x) = \frac{1}{h} \left[\Delta y_0 + \frac{2u-1}{2} \Delta^2 y_0 \right], \quad f''(x) = \frac{1}{h^2} \Delta^2 y_0. \quad (19)$$

При наличии четырёх узлов интерполирования формулы для производных примут вид:

$$\begin{aligned} f'(x) &= \frac{1}{h} \left[\Delta y_0 + \frac{2u-1}{2} \Delta^2 y_0 + \frac{3u^2-6u+2}{6} \Delta^3 y_0 \right], \\ f''(x) &= \frac{1}{h^2} \left[\Delta^2 y_0 + (u-1) \Delta^3 y_0 \right], \\ f'''(x) &= \frac{1}{h^3} \Delta^3 y_0. \end{aligned} \quad (20)$$

Если производная вычисляется в нулевом узле, то $u = 0$ и формулы (20) приобретают вид:

$$\begin{aligned} f'(x) &= \frac{1}{h} \left(\Delta y_0 - \frac{1}{2} \Delta^2 y_0 + \frac{1}{3} \Delta^3 y_0 \right), \\ f''(x) &= \frac{1}{h^2} \left(\Delta^2 y_0 - \Delta^3 y_0 \right), \\ f'''(x) &= \frac{1}{h^3} \Delta^3 y_0. \end{aligned} \quad (21)$$

Ошибка при вычислении производных существенно увеличивается при увеличении порядка производной, поэтому обычно для вычисления производных порядка выше третьего этот метод не используется.

Более полное изложение этой темы Вы можете найти в [5], с.35-85.

Вопросы для самопроверки по теме 1.2

1. В чём состоит задача интерполяции функции?
2. Какие критерии согласия обеспечивают совпадение неизвестной функции с интерполирующей?
3. Как называется интерполяция многочленами первой и второй степени?
4. Напишите общие формулы конечных разностей 1-го, 2-го и 3-го порядков.
5. Напишите формулу интерполяционного многочлена Ньютона для пяти узлов.
6. Чему равна третья производная $f'''(x)$ при трёх узлах интерполирования?

1.3. Численное интегрирование

Изучаемые вопросы: Квадратурные формулы Ньютона-Котеса. Квадратурные формулы Гаусса. Задачи оптимизации. Формулы Эйлера и Грегори. Формулы Ромберга. Стандартные программы численного интегрирования. Построение программ с автоматическим выбором шага интегрирования.

Здесь также после изучения материала опорного конспекта и письменных лекций Вам следует решить одну из задач контрольной работы согласно «Методическим указаниям к выполнению контрольной работы».

1.3.1. Приближенное вычисление определенного интеграла

Простейшие формулы для приближённого вычисления определённого интеграла называются *квадратурными*. В многомерном случае их называют также *кубатурными*. К простейшим квадратурным формулам относятся формулы прямоугольников, трапеций и формула Симпсона, объединённые общим названием – квадратурные формулы Ньютона-Котеса. Все эти формулы основаны на *свойстве аддитивности определённого интеграла*, а именно: **интеграл по сумме отрезков равен сумме интегралов по этим отрезкам**. Поэтому, если нужно вычислить определённый интеграл от некоторой функции

$f(x)$ вдоль отрезка $[a, b]: I = \int_a^b f(x) dx$, то его можно представить в виде суммы

интегралов по частичным отрезкам разбиения интервала $[a, b]: \sum_{i=1}^n I_i$, где

$$I_i = \int_{x_i}^{x_{i+1}} f(x) dx.$$

Задача состоит в выборе достаточного числа разбиений отрезка $[a, b]$ (отрезки $[x_i, x_{i+1}]$, как правило, выбираются одинаковыми), и удачной замене подынтегральной функции $f(x)$. Обычно она заменяется интерполяционным многочленом степени m :

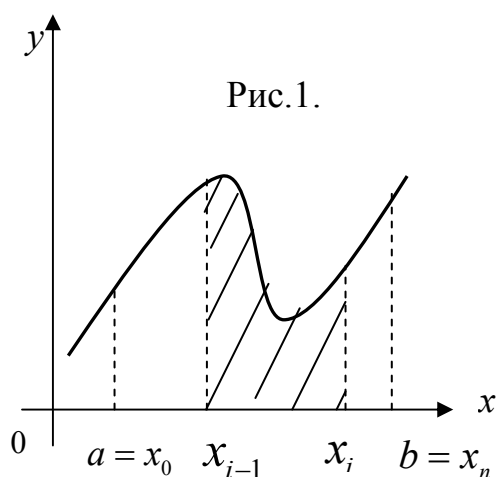
$$f(x) = P_m(x) + R(x), \quad (1)$$

где $R(x)$ – остаточный член интерполяции.

Т. о., на каждом частичном промежутке

$$I_i = \int_{x_i}^{x_{i+1}} P_m(x) dx + \int_{x_i}^{x_{i+1}} R(x) dx = \bar{I}_i + S_i,$$

где \bar{I}_i – приближённое значение интеграла на частичном промежутке, а S_i – величина ошибки на том же промежутке.



Соответственно, приближённое значение

$$\bar{I} = \sum_{i=0}^{n-1} \int_{x_i}^{x_{i+1}} P_m(x) dx, \quad (2)$$

а ошибка

$$S = \sum_{i=0}^{i=n-1} \int_{x_i}^{x_{i+1}} R(x) dx. \quad (3)$$

На рис. 1 представлена геометрическая интерпретация определённого интеграла, как площади криволинейной трапеции, ограниченной осью OX , графиком функции и прямыми $x=a, x=b$, и интеграла I_i на частичном промежутке $[x_{i-1}, x_i]$. (Заштрихованная криволинейная трапеция).

Заметим здесь, что если считать шаг разбиения в методе Симпсона равным целому, без деления пополам, то в расчётах, вместо формулы (2.16) (п.2.4 Учебного пособия), можно использовать следующую:

$$\bar{I} = \frac{h}{3} [y_0 + 4y_1 + 2y_2 + 4y_3 + 2y_4 + \dots + 4y_{n-1} + y_n]. \quad (4)$$

Соответствующие формулы, вместе с оценками погрешностей и примерами вычислений Вы можете найти в Учебном пособии.

Более полное изложение этой темы – в [7], с.86-163.

Вопросы для самопроверки по теме 1.3

1. Напишите формулы прямоугольников, трапеции и Симпсона.
2. Сформулируйте обобщённую теорему о среднем.

1.4. Приближение функций

Из всех вопросов темы 1.4. Приближение функций изучается лишь метод наименьших квадратов. Вопросы этой темы не содержатся в контрольной работе, поэтому здесь приводятся только основные теоретические положения.

Метод наименьших квадратов

Пусть известно, что величины X и Y связаны некоей функциональной зависимостью. Требуется приближенно определить эту функциональную зависимость $y = \varphi(x)$ по экспериментальным данным. Предположим, что в результате n измерений получен ряд экспериментальных точек (x_i, y_i) . Мы уже знаем, что через n точек всегда можно провести кривую, аналитически выражаемую многочленом $(n-1)$ -ой степени. Этот многочлен называют *интерполяционным*. Вообще, замену функции $\varphi(x)$ на функцию $\psi(x)$ так, что их значения совпадают в заданных точках

$$\varphi(x_i) = \psi(x_i), \quad i = 1, 2, \dots, n, \quad (1)$$

называют *интерполяцией*.

Однако такое решение проблемы не всегда является удовлетворительным, поскольку $y_i \neq \varphi(x_i)$ из-за случайных ошибок измерения и, возможно, случайной природы самих величин x и y . Т.о., можно записать, что

$$y_i = \varphi(x_i) + \delta_i, \quad (2)$$

где δ_i – некоторая случайная ошибка. Поэтому требуется провести кривую так, чтобы она в наименьшей степени зависела от случайных ошибок. Эта задача называется *сглаживанием (аппроксимацией)* экспериментальной зависимости и часто решается методом *наименьших квадратов*. Сглаживающую кривую называют *аппроксимирующей*.

Задача аппроксимации решается следующим образом. В декартовой прямоугольной системе координат наносят точки (x_i, y_i) . По виду расположения этих точек делается предположение о принадлежности искомой функции к определенному классу. Например, линейная $\varphi(x) = a_0 + a_1x$, квадратичная $\varphi(x) = a_0 + a_1x + a_2x^2$ и т.п. В общем случае $\varphi(x) = \varphi(x, a_0, a_1, \dots, a_r)$. Неизвестные параметры функции a_0, a_1, \dots, a_r определяются из требования минимума суммы квадратов случайных ошибок, т.е. минимума величины

$$\delta = \sum_{i=1}^n \delta_i^2 = \sum_{i=1}^n (y_i - \varphi(x_i, a_0, a_1, \dots, a_r))^2. \quad (3)$$

Величина δ называется также суммарной *невязкой*. Необходимым условием минимума функции нескольких переменных является обращение в нуль частных производных невязки:

$$\sum_{i=1}^n (y_i - \varphi(x_i, a_0, a_1, \dots, a_r)) \frac{\partial \varphi}{\partial a_j} = 0, \quad j = 0, 1, \dots, r. \quad (4)$$

Решая систему уравнений (4), находят неизвестные параметры a_j и тем

самым полностью определяют функцию, которая наилучшим образом (в смысле наименьших квадратов отклонений от исходных точек или наименьшей суммарной невязки) аппроксимирует искомую функцию $\varphi(x)$.

Рассмотрим подробнее линейную зависимость $\varphi(x) = a_0 + a_1x$.

Дифференцируя (3), получим следующую систему уравнений

$$\begin{cases} \sum_{i=1}^n (y_i - a_0 - a_1x_i) = 0, \\ \sum_{i=1}^n (y_i - a_0 - a_1x_i)x_i = 0. \end{cases} \quad (5)$$

Из первого уравнения находим $a_0 = My - a_1Mx$, где

$$Mx = \frac{1}{n} \sum_{i=1}^n x_i, \quad My = \frac{1}{n} \sum_{i=1}^n y_i. \quad (6)$$

Подставляя выражение для a_0 во второе уравнение, найдем

$$a_1 = \frac{Kxy}{S^2}, \quad (7)$$

где

$$Kxy = \frac{1}{n} \sum_{i=1}^n (x_i - Mx)(y_i - My), \quad S^2 = \frac{1}{n} \sum_{i=1}^n (x_i - Mx)^2. \quad (8)$$

Таким образом,

$$\varphi(x) = \left(My - \frac{Kxy}{S^2} Mx \right) + \frac{Kxy}{S^2} x \quad (9)$$

есть искомая линейная функция.

Ввиду простоты расчетов аппроксимация линейной зависимости используется довольно часто. Кроме того, многие функции, зависящие от двух параметров, можно *линеаризовать* путем замены переменных.

Для этого необходимо подобрать такое преобразование исходной зависимости $y(x) = \varphi(x, a_0, a_1)$, в результате которого она приобретает линейный вид $v = b_0 + b_1 \cdot u$. Далее решается задача линейной аппроксимации для новой зависимости и вычисленные коэффициенты b_0 и b_1 пересчитываются в коэффициенты a_0 и a_1 .

Для ряда часто встречающихся двухпараметрических зависимостей возможные замены переменных (а также, обратные замены для пересчета b_0 и b_1 в a_0 и a_1) приведены в табл. 1.

Таблица 1.

Вид зависимости	Замена переменных		Ограничения	Обратная замена переменных	
Гиперболическая $y = a_0 + \frac{a_1}{x}$	$v = y$	$u = \frac{1}{x}$	$x \neq 0$	$a_0 = b_0$	$a_1 = b_1$
Логарифмическая $y = a_0 + a_1 \ln x$	$v = y$	$u = \ln x$	$x > 0$	$a_0 = b_0$	$a_1 = b_1$
Показательная $y = a_0 e^{a_1 x}$	$v = \ln y$	$u = x$	$y > 0$ $a_0 > 0$	$a_0 = e^{b_0}$	$a_1 = b_1$
Степенная $y = a_0 x^{a_1}$	$v = \ln y$	$u = \ln x$	$x > 0$ $y > 0$ $a_0 > 0$	$a_0 = e^{b_0}$	$a_1 = b_1$
Комбинированная $y = \frac{1}{a_0 + a_1 e^{-x}}$	$v = \frac{1}{y}$	$u = e^{-x}$	$y \neq 0$	$a_0 = b_0$	$a_1 = b_1$

Более полное изложение этой темы – в [7], с.164-200.

Вопросы для самопроверки по теме 1.4

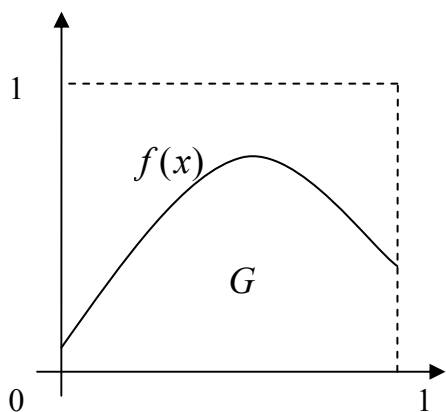
1. Что называется суммарной невязкой?
2. В чём состоит условие минимума функции нескольких переменных?

1.5. Многомерные задачи

Одной из многомерных задач является приближение функции нескольких переменных. В этом случае часто используют метод наименьших квадратов, который для одномерного случая рассматривался нами в предыдущей теме. Построив аппроксимирующую функцию, мы естественным образом можем её дифференцировать и интегрировать.

Другим способом получения приближения функции является т.н. метод Монте-Карло. Применение его предполагает знакомство с теорией вероятности, которая является второй частью курса вычислительной математики. Поэтому вопросы темы 1.5 не содержатся в контрольной работе, и здесь приводятся только основная идея этого метода.

Методами Монте-Карло называют обычно численные методы решения задач при помощи моделирования случайных величин. Эти методы используются для решения задач физики, радиотехники, химии, биологии, экономики.



Например, нужно вычислить определённый интеграл: $\int_0^1 f(x)dx$: $0 \leq f(x) \leq 1$ при $x \in [0,1]$. Его значение равно площади G на рисунке.

Если бросать в единичный квадрат точку, то отношение числа бросаний m , попавших в G к общему числу бросаний n даст оценку вероятности $p \approx m/n$ попадания в область G :

$$p = \frac{S_G}{S_1} = \int_0^1 f(x)dx \approx \frac{m}{n}. \text{ А это и есть}$$

искомое значение интеграла.

Более полное изложение этой темы – в [7], с.201-249.

1.6. Численные методы алгебры

Из всех вопросов темы 1.6. Численные методы алгебры, изучается вопрос о приближённом решении уравнений.

После изучения материала опорного конспекта и письменных лекций Вам следует решить одну из задач контрольной работы согласно «Методическим указаниям к выполнению контрольной работы «Численные методы и инженерные расчёты» (с.74).

Приближённое вычисление корней уравнения $f(x) = 0$

В общем случае задача отыскания точных значений корней уравнения $f(x) = 0$ неразрешима. Даже для алгебраических уравнений выше третьей степени нет решений в виде формул с конечным числом арифметических действий.

Сформулируем задачу следующим образом:

Дано уравнение

$$f(x) = 0, \tag{1}$$

где $f(x)$ - непрерывная функция в области D . Корни этого уравнения x^* – это те значения аргумента x , которые обращают уравнение (1) в тождество. Найти приближённое значение корня x^* с точностью ε означает указать интервал длиной не более 2ε , содержащий точное значение корня x^* .

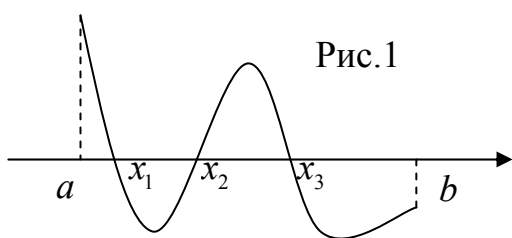
Решение этой задачи состоит из двух этапов:

1. Отделение корня, т.е. выделение отрезка $[a,b]$ из области непрерывности функции $f(x)$, содержащего только один корень уравнения (1).

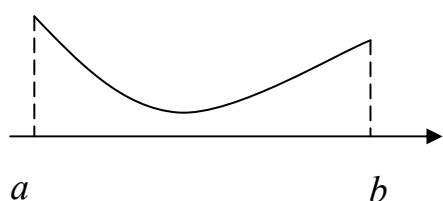
2. Уточнение корня, т.е. построение итерационного процесса, позволяющего сколь угодно сузить границы выделенного интервала до значения заданной точности. Первоначальные границы его можно рассматривать как нулевое приближение искомого корня (a – с недостатком, b – с избытком).

Для отделения корней уравнения (1) нужно знать те условия, которые позволяют утверждать, что, во-первых, на промежутке $[a, b]$ есть корень уравнения, а во-вторых, что он единственный на этом промежутке. Здесь следует иметь в виду следующее.

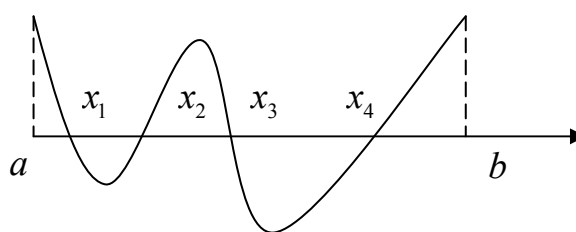
1. Если $f(x)$ непрерывна на $[a, b]$ и имеет на концах промежутка разные знаки, то на $[a, b]$ существует нечётное количество корней. На рис.1 кривая соответствует функции $y = f(x)$, а точки x_1, x_2, x_3 – точки пересечения графика функции с осью абсцисс – корни уравнения $f(x) = 0$. Т.о., разные знаки функции на концах промежутка обеспечивают наличие корня на $[a, b]$, но не гарантируют его единственности.



2. Если $f(x)$ непрерывна на $[a, b]$ и имеет на концах промежутка одинаковые знаки, то, как правило, на этом промежутке число корней чётно, в том числе и 0, т.е. они могут и отсутствовать (рис.2 а, б).



а)



б)

Рис.2

Однако нельзя не учитывать, что корнем функции может быть не только точка пересечения графика $y = f(x)$ с осью OX , но и точка касания с осью (рис.3 а, б, в). Заметим, что в этих случаях в точке $x = x_0$ нарушается монотонность функции $f(x)$.

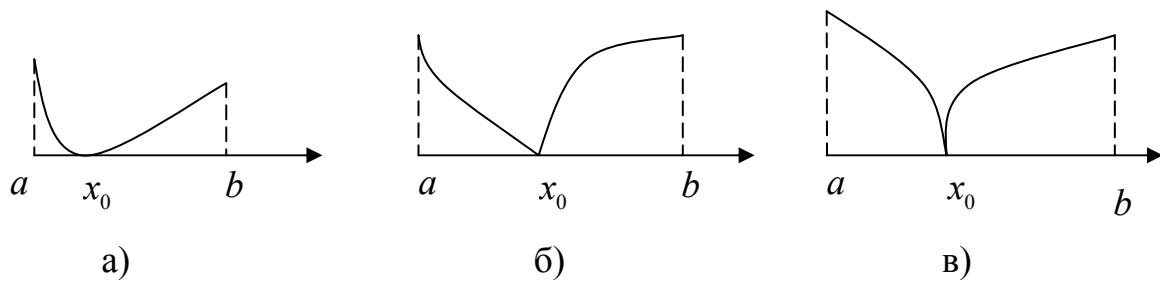


Рис.3

Таким образом, можно сформулировать следующий достаточный критерий для отделения корня: если на интервале $[a, b]$ функция $f(x)$ непрерывна, монотонна и её значения на концах интервала имеют разные знаки, то на $[a, b]$ существует один и только один корень уравнения (1).

Из этого критерия следует, что для единственности корня на $[a, b]$ достаточно, чтобы выполнялось условие $f(a) \cdot f(b) < 0$, а производная этой функции $f'(x)$ была бы знакопостоянна при любом $x \in [a, b]$ (рис.4 а, б).

Замечание 1. Для единственности корня на $[a, b]$ при $f(a) \cdot f(b) < 0$ бывает достаточно и знакопостоянства второй производной $f''(x)$ (рис.4 в, г).

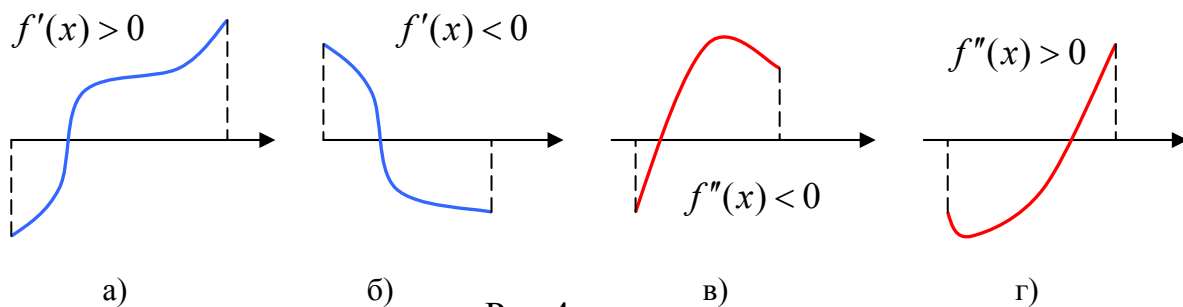


Рис.4

Итак, для того, чтобы отделить все вещественные корни уравнения (1), достаточно найти все интервалы монотонности $f(x)$, т.к. на каждом из этих интервалов может быть не более одного корня. Если на интервале монотонности $f(a) \cdot f(b) < 0$, то корень есть, если $f(a) \cdot f(b) > 0$, то корня нет. Интервалы монотонности соответствуют интервалам знакопостоянства $f'(x)$.

Замечание 2. Следует рассмотреть те случаи, когда $f(x)$ имеет одинаковые знаки на концах интервала, и, тем не менее, на нём существует корень (см. рис.3). Заметим, что в точках x_0 , соответствующих корню, производная $f'(x)$ либо не существует, либо равна нулю, либо ∞ , т.е. в этих точках $f(x)$ достигает экстремума и, следовательно, корень является границей монотонности.

Т.о., чтобы отделить все корни уравнения (1) следует: 1) найти промежуток, где $f(a) \cdot f(b) < 0$, а $f'(x)$ или $f''(x)$, или обе производные

знакопостоянны; 2) отыскать нули и точки разрыва $f'(x)$ и проверить, не являются ли они корнями уравнения (1).

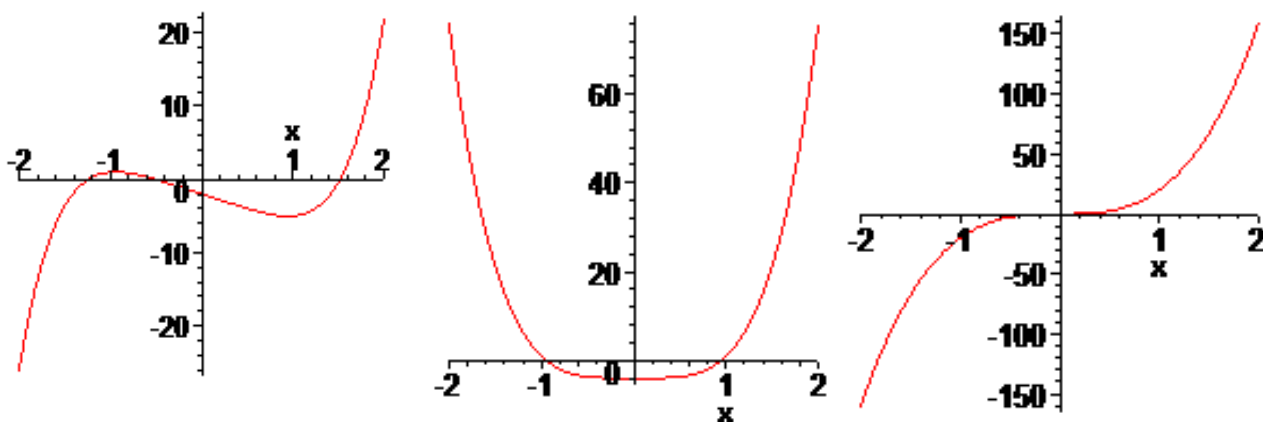
Пример. Отделить все вещественные корни уравнения $x^5 - 4x - 2 = 0$.

□Имеем: $f(x) = x^5 - 4x - 2$, $f'(x) = 5x^4 - 4$, $f''(x) = 20x^3$. Здесь $f(x)$ непрерывна, поэтому для определения её интервалов монотонности достаточно найти нули производной $f'(x)$: $5x^4 - 4 = 0 \Rightarrow x_{1,2} = \pm\sqrt[4]{0.8} \approx 0.95$. Таким образом, отделяются три промежутка монотонности $f(x)$ и, следовательно, имеется не более трёх корней на следующих промежутках:

$$\left(-\infty; -\sqrt[4]{0.8}\right); \quad \left(-\sqrt[4]{0.8}; +\sqrt[4]{0.8}\right); \quad \left(\sqrt[4]{0.8}; +\infty\right)$$

При этом $f(-\sqrt[4]{0.8}) = 1.026373149$, $f(\sqrt[4]{0.8}) = -5.026373149$, следовательно, на промежутке $(-\sqrt[4]{0.8}; \sqrt[4]{0.8}) = (-0.946; 0.946)$ есть единственный корень.

Чтобы отделить два оставшихся корня, вычислим $f(-1) = 1 > 0$, тогда на промежутке $(-1; -\sqrt[4]{0.8})$ $f(a)f(b) > 0 \Rightarrow$ корня нет. $f(-2) = -26 < 0 \Rightarrow f(-2)f(-1) < 0$ на интервале $(-2; -1)$ есть единственный корень. Аналогично, на интервале $(\sqrt[4]{0.8}; 1)$ корня нет, а на интервале $[1; 2]$ – также единственный корень. Графики $f(x)$ и её первой и второй производной – рис.5 а), б), в).■



а)

б)

в)

Рис.5

О методах отделения корней Вы можете прочитать подробнее в [2, Раздел 4].

Вопросы для самопроверки по теме 1.6

1. Можно ли в общем случае найти корни уравнения $f(x) = 0$?
2. Какие этапы следует пройти при вычислении корней уравнения $f(x) = 0$?
3. Каково условие единственности корня на отрезке $[a, b]$?

1.7. Решение систем нелинейных уравнений и задач оптимизации

Вопросы темы 1.7 не входят в контрольную работу по данному курсу. Задачи оптимизации рассматриваются в курсе математических методов в экономике и включены в УМК МАТЕМАТИКА, Ч.2 "Методы оптимизации".

1.8. Численные методы решения обыкновенных дифференциальных уравнений

Из всех вопросов темы 1.8 изучается вопрос «Численное решение задачи Коши для обыкновенного дифференциального уравнения 1-го порядка».

После изучения материала опорного конспекта и письменных лекций Вам следует решить одну из задач контрольной работы согласно "Методическим указаниям к выполнению контрольной работы".

1.8.1. Решение задачи Коши методом Эйлера

Пусть требуется найти на отрезке $[a, b]$ решение дифференциального уравнения 1-го порядка

$$y' = f(x, y) \quad (1)$$

с начальным условием

$$y(x_0) = y_0 \quad (2)$$

(задача Коши). Для этого отрезок, на котором ищется решение задачи, разбивают на n частей с шагом $h = (b - a)/n$ и находят значения $y_k = y(x_k)$ в точках $x_k = x_0 + kh$, ($k = 0, 1, \dots, n$). Очевидно, что при этом $x_0 = a, x_n = b$. Значения y_{k+1} определяют по формуле

$$y_{k+1} = y_k + hf(x_k, y_k), \quad k = 0, 1, 2, \dots, n-1. \quad (3)$$

Погрешность вычислений на каждом шаге составляет $R_k = 0,5h^2 y''(\xi)$, где $x_k \leq \xi \leq x_{k+1}$.

Пример. Решить задачу Коши для обыкновенного дифференциального уравнения 1-го порядка методом Эйлера. Вычисления выполнять с четырьмя десятичными знаками на отрезке $[0,2; 1,2]$ с шагом 0,1. Уравнение:

$$y' = 0,185(x^2 + \cos 0,7x) + 1,843y,$$

начальное условие: $y(0,2) = 0,25$.

□ Для численного решения заданного уравнения вида (1) с начальным условием (2) нам потребуется выполнить $n = (b - a)/h = (1,2 - 0,2)/0,1 = 10$ шагов. На каждом шаге надо вычислить значения $x_k, y_k, y'_k = f(x_k, y_k), hy'_k$ и y_{k+1} .

Первый шаг. ($k = 0$). Имеем:

$$x_0 = a = 0,2; \quad y_0 = y(x_0) = 0,25; \quad h = 0,1; \quad y_1 = y_0 + hf(x_0, y_0). \text{ Вычислим}$$

$$f(x_0, y_0) = 0,185(0,2^2 + \cos(0,7 \cdot 0,2)) + 1,843 \cdot 0,25 = 0,6513.$$

Тогда $hf(x_0, y_0) = 0,1 \cdot 0,6513 = 0,0651$ и, следовательно, по формуле (3)

$$y_1 = 0,25 + 0,0651 = 0,3151. \text{ Делаем следующий шаг.}$$

Второй шаг. ($k = 1$).

$$x_1 = x_0 + h = 0,2 + 0,1 = 0,3; \quad y_2 = y_1 + hf(x_1, y_1).$$

$$\text{Вычислим } f(x_1, y_1) = 0,185(0,3^2 + \cos(0,7 \cdot 0,3)) + 1,843 \cdot 0,3151 = 0,7784.$$

Тогда $hf(x_1, y_1) = 0,1 \cdot 0,7784 = 0,0778$ и $y_2 = 0,3151 + 0,0778 = 0,3929$. И т.д.

Для удобства, все вычисления удобно представить в виде таблицы 1.

Таблица 1.

k	x_k	y_k	$y'_k = f(x_k, y_k)$	hy'_k	y_{k+1}
0	0,2	0,25	0,6513	0,0651	0,3151
1	0,3	0,3151	0,7784	0,0778	0,3929
2	0,4	0,3929	0,9316	0,0932	0,4861
3	0,5	0,4861	1,1160	0,1116	0,5977
4	0,6	0,5977	1,3371	0,1337	0,7314
5	0,7	0,7314	1,6019	0,1602	0,8916
6	0,8	0,8916	1,9184	0,1918	1,0835
7	0,9	1,0835	2,2962	0,2296	1,3131
8	1,0	1,3131	2,7466	0,2747	1,5878
9	1,1	1,5878	3,2829	0,3283	1,9161
10	1,2	1,9161	3,2912	0,3291	2,3081

Т.о., задача решена. ■

Естественно, процесс вычислений проще организовать в табличном процессоре Excel (Табл.2).

Таблица 2.

	A	B	C	D	E	F	G	H	I
1	Задача Коши для обыкновенного дифференциального уравнения 1-го порядка								
2	1. Метод Эйлера								
3	Уравнение:	$y' = 0,185(x^2 + \cos 0,7x) + 1,843y$				h=	0,1		
4									
5	k	x_k	y_k	y'_k	hy'_k	y_{k+1}	$y(0,2) = 0,25$		
6	0	0,2	0,25	0,65134	0,065134	0,315134			
7	1	0,3	0,315134	0,778378	0,077838	0,392972			
8	2	0,4	0,392972	0,931642	0,093164	0,486136			
9	3	0,5	0,486136	1,115983	0,111598	0,597734			
10	4	0,6	0,597734	1,337146	0,133715	0,731449			
11	5	0,7	0,731449	1,601942	0,160194	0,891643			
12	6	0,8	0,891643	1,91844	0,191844	1,083487			
13	7	0,9	1,083487	2,296202	0,22962	1,313107			
14	8	1	1,313107	2,746552	0,274655	1,587762			
15	9	1,1	1,587762	3,28291	0,328291	1,916053			
16	10	1,2	1,916053	3,921167	0,392117	2,30817			

Решение находятся в ячейках x_k, y_k ($k = 0, 1, \dots, 10$). Значения y_{k+1} из столбца F переносятся в столбец C со сдвигом на единицу (например, из F6 в C7 и т.д.). Таблица в режиме показа формул – (табл.3).

Таблица 3.

	A	B	C	D	E	F	G	H	I
1	За								
2	1. М								
3	Урав	$y' = 0,185(x^2 + \cos 0,7x) + 1,843y$				h=	0,1		
4									
5	k	x_k	y_k	y'_k	hy'_k	y_{k+1}	$y(0,2) = 0,25$		
6	0	0,2	0,25	=0,185*(B6^2+COS(0,7*B6))+1,843*C6	=G\$3*D6	=C6+G\$3*D6			
7	1	0,3	=F6	=0,185*(B7^2+COS(0,7*B7))+1,843*C7	=G\$3*D7	=C7+G\$3*D7			
8	2	0,4	=F7	=0,185*(B8^2+COS(0,7*B8))+1,843*C8	=G\$3*D8	=C8+G\$3*D8			
9	3	0,5	=F8	=0,185*(B9^2+COS(0,7*B9))+1,843*C9	=G\$3*D9	=C9+G\$3*D9			
10	4	0,6	=F9	=0,185*(B10^2+COS(0,7*B10))+1,843*C10	=G\$3*D10	=C10+G\$3*D10			
11	5	0,7	=F10	=0,185*(B11^2+COS(0,7*B11))+1,843*C11	=G\$3*D11	=C11+G\$3*D11			
12	6	0,8	=F11	=0,185*(B12^2+COS(0,7*B12))+1,843*C12	=G\$3*D12	=C12+G\$3*D12			
13	7	0,9	=F12	=0,185*(B13^2+COS(0,7*B13))+1,843*C13	=G\$3*D13	=C13+G\$3*D13			
14	8	1	=F13	=0,185*(B14^2+COS(0,7*B14))+1,843*C14	=G\$3*D14	=C14+G\$3*D14			
15	9	1,1	=F14	=0,185*(B15^2+COS(0,7*B15))+1,843*C15	=G\$3*D15	=C15+G\$3*D15			
16	10	1,2	=F15	=0,185*(B16^2+COS(0,7*B16))+1,843*C16	=G\$3*D16	=C16+G\$3*D16			

Вопросы для самопроверки по теме 1.8

1. В чём состоит задача Коши?
2. Напишите расчётную формулу метода Эйлера при решении дифференциального уравнения 1-го порядка и формулу оценки погрешности на каждом шаге.

Раздел 2. ТЕОРИЯ ФУНКЦИЙ КОМПЛЕКСНОГО ПЕРЕМЕННОГО

Второй раздел включает шесть тем: *Комплексные числа и действия над ними; Функции комплексного переменного (ФКП). Условия Коши-Римана; Элементарные функции и конформные отображения; Представление регулярных функций интегралами; Представления регулярных функций рядами; Вычеты функций и их применение.*

Работа с разделом 2 завершается выполнением контрольной работы.

Для того чтобы Вы смогли успешно ответить на вопросы контрольного теста, Вам предоставляется возможность поработать с репетиционным тестом. Он является полным аналогом контрольного теста, однако время работы с ним не ограничено, и даются правильные ответы на вопросы.

Если Вы испытываете затруднения в ответе на какой-либо вопрос, обратитесь к глоссарию или учебному пособию.

Если Вы справились с репетиционным тестом, переходите к контрольному тесту. Индивидуальный вариант теста следует получить у своего преподавателя (тьютора), при этом время ответа ограничено. Каждый правильный ответ контрольного теста оценивается в два балла, следовательно, в сумме по первому разделу можно получить 20 баллов. Желаем успеха!

2.1. Комплексные числа и действия над ними

Изучаемые вопросы: Определение комплексного числа (к.ч.). Геометрическая интерпретация к.ч. Алгебраическая, тригонометрическая и показательная формы к.ч. Действия с к.ч. в различных формах.

После изучения материала опорного конспекта и письменных лекций Вам следует решить одну из задач контрольной работы согласно [4]. Для проверки усвоения материала Вам предстоит ответить на вопросы для самопроверки.

Формы представления комплексных чисел (К.ч.)

Говорят, что существует *взаимнооднозначное соответствие* между числом и точкой вещественной оси (рис.1). Также, между точками плоскости и парами вещественных чисел существует *взаимнооднозначное соответствие*. Назовём такое число (a,b) *комплексным*, где a,b – координаты комплексного числа на плоскости. Это будет т.н. *координатная форма комплексного числа*.

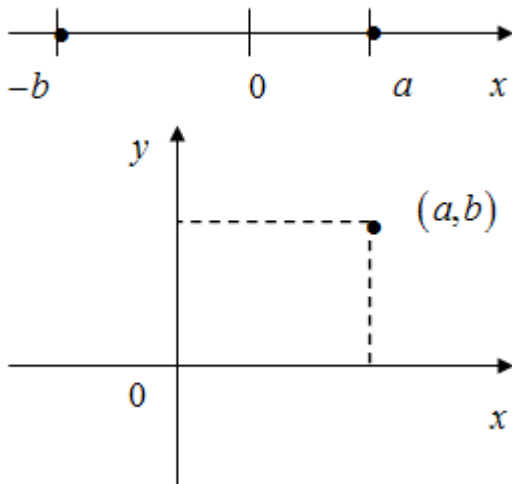


Рис.1

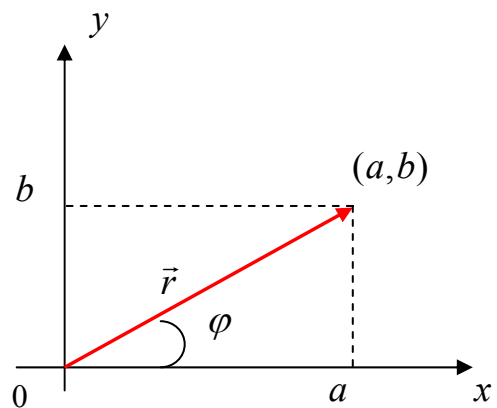


Рис.2

К.ч. (a,b) отвечает вектор \vec{r} из начала координат. Его компоненты: $a = r \cos \varphi$ и $b = r \sin \varphi$, или $\vec{r} = (r \cos \varphi, r \sin \varphi)$, где $r = \sqrt{a^2 + b^2}$ – длина вектора, или его *модуль*, φ – угол между вектором и положительным направлением оси Ox , или *аргумент к.ч.*, $\operatorname{tg} \varphi = \frac{b}{a}$ (иногда его называют *фазой*) (рис.2).

Используют также *алгебраическую форму* представления К.ч., записывая его в виде $z = x + iy$, где x, y – вещественные числа, а i – символ, такой что $i^2 = -1$, называемый *мнимой единицей*. Тогда в *тригонометрической форме* К.ч. может быть записано как $z = r(\cos \varphi + i \sin \varphi)$.

Важным свойством всех этих форм записи является то, что при этом удовлетворяются основные правила алгебры.

Подробнее об этом Вы прочтёте в Учебном пособии. Здесь же мы хотели бы сделать следующее замечание. Непосредственный физический смысл имеют, конечно же, только действительные величины. Но комплексные функции, содержащие символ мнимой единицы играют важную роль в физике и технике. Этому есть, по крайней мере, три причины.

1. Многие физические величины описываются функциями u и v от двух переменных x и y , связанных уравнениями

$$\frac{\partial u}{\partial x} = \frac{\partial v}{\partial y}, \quad \frac{\partial u}{\partial y} = -\frac{\partial v}{\partial x}. \quad (1)$$

Такие пары встречаются, например, в двумерных задачах электростатики и гидродинамики. В этом случае u и v являются вещественной и мнимой частями *аналитической функции* w комплексного переменного $z = x + iy$.

2. Решения дифференциальных уравнений физики в некоторых областях действительного переменного получаются в виде степенных рядов. А тот же степенной ряд может представлять функцию комплексного переменного,

поэтому изучение комплексных переменных часто помогает получить более компактные выражения для вещественных значений аргумента.

3. Многие интегралы, заданные в вещественной форме, легче вычисляются, будучи связанными с комплексными интегралами при использовании метода контурного интегрирования, основанного на теореме Коши.

Вопросы для самопроверки по теме 2.1

1. Какие формы записи комплексного числа Вы знаете?
2. Как определяются модуль и аргумент к. ч.?
3. Что такое главное значение аргумента?
4. Напишите формулы сложения, вычитания, умножения, деления и возведения в степень к.ч.

2.2. Функции комплексного переменного (ФКП). Условия Коши-Римана

Изучаемые вопросы: Определение ФКП. Предел и непрерывность. Производная и дифференциал. Необходимое и достаточное условие дифференцируемости. Правила дифференцирования. Регулярность. Гармонические функции.

По этой теме Вам также предстоит решить задачу контрольной работы (см. [4]).

2.2.1. Общие замечания

Все нужные определения и примеры приведены в Учебном пособии.

При изучении материала обратите внимание на схожесть понятий для ФКП и функций вещественного переменного. Различие в понятиях бесконечности на вещественной оси и бесконечно удалённой точки (БУТ) на комплексной плоскости основано на следующем.

Понятие БУТ вводится по аналогии с расширением вещественной оси, к которой добавляют две «бесконечные» точки: $-\infty$ и $+\infty$. Комплексная плоскость с добавленной БУТ также называется *расширенной*. Геометрическую

интерпретацию этого понятия дал Риман (сфера Римана).

Рассмотрим сферу произвольного радиуса R , касающуюся комплексной плоскости xu в начале координат $z = 0$ (рис.1). Пусть N – верхний конец вертикального диаметра (северный полюс). Любое к.ч. изображается точкой M на комплексной плоскости. Соединим эту точку с полюсом N , и пусть P – точка пересечения прямой MN со

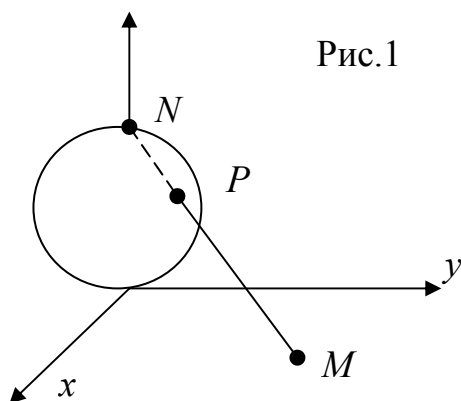


Рис.1

сферой. Точка P называется *стереографической проекцией* точки $M \ni z = x + iy$. Тогда $\forall z \in \mathbb{C} \ni !P$. Наоборот, $\forall P \neq N \ni !z \in \mathbb{C}$. Соответствие будет однозначным, если считать, что $N \ni !z = \infty$. Тогда, при $P \rightarrow N$, $|z| \rightarrow \infty$, т.е. окрестностью БУТ следует считать множество точек расширенной комплексной плоскости: $|z| > R$, т.е. внешность любого круга радиуса R с центром в начале координат $z = 0$.

Необходимыми и достаточными условиями дифференцируемости ФКП являются условия Коши-Римана, которые совпадают с уравнениями (1). Следует запомнить все четыре выражения для производной ФКП через частные производные её вещественной и мнимой частей:

$$\begin{aligned} \frac{df(z_0)}{dz} &= \frac{\partial u(x_0, y_0)}{\partial x} + i \frac{\partial v(x_0, y_0)}{\partial x} = \frac{\partial u(x_0, y_0)}{\partial x} - i \frac{\partial u(x_0, y_0)}{\partial y} = \\ &= \frac{\partial v(x_0, y_0)}{\partial y} + i \frac{\partial v(x_0, y_0)}{\partial x} = \frac{\partial v(x_0, y_0)}{\partial y} - i \frac{\partial u(x_0, y_0)}{\partial y}; \end{aligned} \quad (2)$$

Важным в ТФКП является понятие *регулярной функции*: функция однозначная и дифференцируемая в каждой точке некоторой области называется *регулярной в этой области*. Из этого определения следует, что для регулярной функции выполняются условия Коши-Римана.

Функция, регулярная в окрестности некоторой точки, называется *регулярной в этой точке*. Оказывается, что функция, регулярная в точке, имеет в этой точке производные любых порядков.

Функции, удовлетворяющие уравнению Лапласа

$$\frac{\partial^2 u}{\partial x^2} + \frac{\partial^2 u}{\partial y^2} = 0, \quad (3)$$

называются *гармоническими* функциями. Уравнение (3) имеет большое значение в электродинамике, описывая потенциал постоянного электрического поля в пустоте.

Вопросы для самопроверки по теме 2.2

1. В чём заключаются условия Коши-Римана?
2. Напишите четыре уравнения для вычисления производной ФКП.
3. Что означает регулярность функции?
4. Какие функции называются гармоническими?

2.3. Элементарные функции и конформные отображения

Изучаемые вопросы: Линейная ФКП. Геометрический смысл производной. Дробно-линейная, показательная, логарифмическая, тригонометрические и гиперболические ФКП.

Простейшей из рассматриваемых элементарных ФКП является линейная:

$$w = \alpha z + \beta, \quad \alpha \neq 0, \quad (4)$$

являющаяся формальным аналогом линейной функции вещественного переменного $y = ax + b, a \neq 0$. Но вещественная функция ставит в соответствие точкам оси x точки оси y , т.е. осуществляет отображение $x \rightarrow y$, а ФКП (4) отображает точки комплексной плоскости xu в точки комплексной плоскости uv (рис.1).

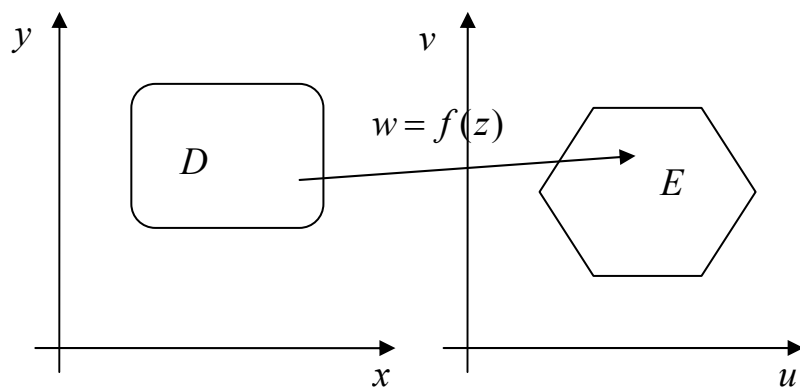


Рис.1.

Пусть $k = |\alpha|, a = Arg \alpha$,

т.е.

$\alpha = k(\cos a + i \sin a)$, тогда

(4) можно представить как сложную функцию, составленную из функций

1) $z_1 = (\cos a + i \sin a)z$;

2) $z_2 = kz_1$;

3) $w = z_2 + \beta$;

Видим (рис.2), что 1) отображает поворот вектора z на угол a ,

изображаемый вектором z_1 , 2) – отображает подобное преобразование вектора z_1 в вектор z_2 с коэффициентом подобия k , а 3) – отображает сдвиг z_2 на постоянную величину b . Суперпозиция этих трёх преобразований и даёт в итоге вектор w .

Пусть $w = f(z)$ имеет в точке z_0 конечную производную

$$f'(z_0) = \lim_{z \rightarrow z_0} \frac{w - w_0}{z - z_0}$$

Переменная, стремящаяся к конечному пределу, отличается от него на бесконечно малую:

$$w - w_0 = f'(z_0)(z - z_0) + \gamma(z - z_0), \tag{5}$$

где $\gamma \rightarrow 0$ при $z \rightarrow z_0$. В

$$\tag{5}$$

$$f'(z_0)(z - z_0) = d f(z)|_{z_0},$$

и пусть

$$f'(z_0) \neq 0, \tag{6}$$

тогда

$$w - w_0 \approx f'(z_0)(z - z_0). \tag{7}$$

Последнее выражение показывает, что любое дифференцируемое отображение в

окрестности

фиксированной точки приближённо можно считать линейным, если

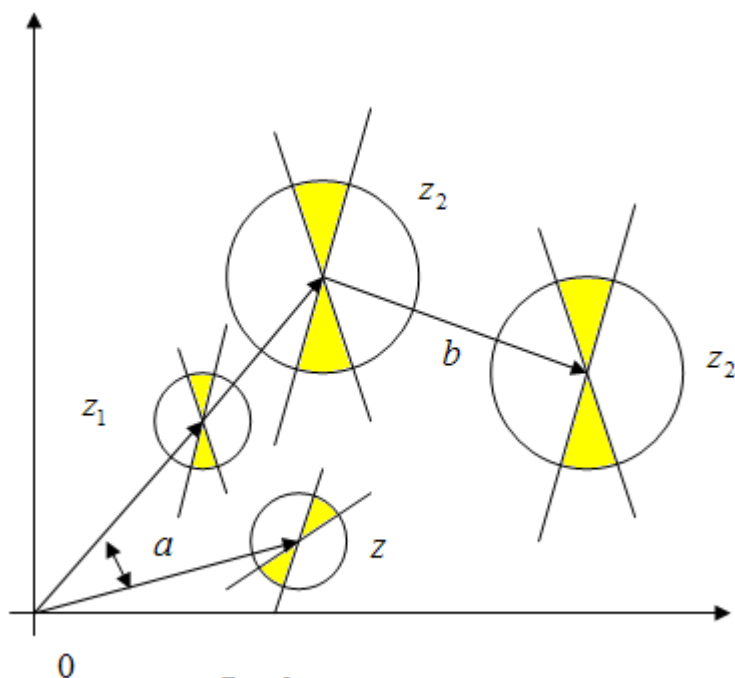


Рис.2.

выполняется условие (6). Отсюда вытекает геометрический смысл производной от ФКП: в малой окрестности точки z_0 происходит подобное преобразование с коэффициентом $|f'(z_0)|$ и поворот на угол $Arg f'(z_0)$. Такое преобразование называется *конформным в точке z_0* . Достаточным условием этого является условие (6).

Отображение называется *конформным в области*, если оно взаимнооднозначно и конформно в каждой точке области. Заметим, что при конформном отображении, отличном от линейного, коэффициент подобия и угол поворота меняется от точки к точке.

Об остальных функциях Вы прочтёте Учебном пособии. Здесь лишь заметим, что, в отличие от функций вещественного переменного, показательная ФКП является периодической с периодом $T = 2\pi i$, логарифмическая – бесконечнозначной, и что формально формулы дифференцирования элементарных ФКП совпадают с оными для функций вещественного переменного.

Вопросы для самопроверки по теме 2.3

1. В чём состоит геометрический смысл производной от ФКП?
2. Напишите формулы элементарных ФКП: линейной, дробно-линейной, показательной, логарифмической.
3. В чём отличие вещественной и комплексной логарифмических функций?
4. Напишите равенство Эйлера.
5. Как выражаются тригонометрические функции вещественной переменной через показательную функцию?

2.4. Представление регулярных функций интегралами

Изучаемые вопросы: Интеграл от ФКП. Свойства интеграла. Теорема Коши. Интеграл с переменным верхним пределом. Основная формула интегрального исчисления.

2.4.1. Интеграл от ФКП

Пусть на кривой L плоскости (x, y) задана ФКП $w = f(z)$ (рис.1).

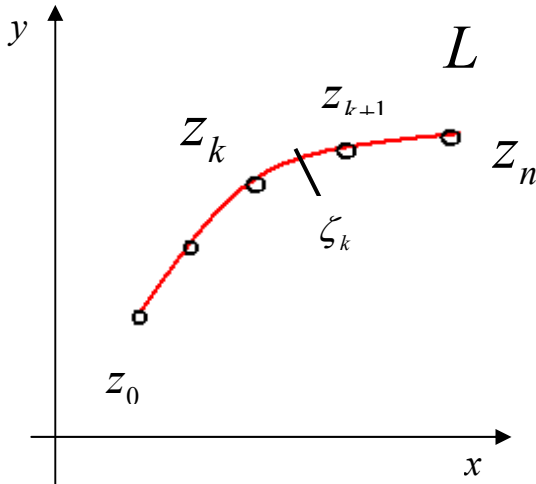
Разобьём её на n частей точками z_0, z_1, \dots, z_n и составим интегральную сумму

$$S_n = \sum_{k=0}^{n-1} f(\zeta_k)(z_{k+1} - z_k), \quad (1)$$

где $\zeta_k \in [z_k, z_{k+1}]$. Будем бесконечно увеличивать дробление кривой L так, чтобы $\lambda_n = \max |z_{k+1} - z_k| \rightarrow 0$. Тогда, если L – кусочно-гладкая и непрерывная, то существует конечный предел суммы $\lim_{\lambda_n \rightarrow 0} S_n$, не зависящий ни от способа

дробления, ни от выбора точки ζ_k , и он называется *интегралом от $f(z)$ вдоль кривой L* :

$$\int_L f(z) dz. \quad (2)$$



Интеграл от ФКП можно выразить через вещественные криволинейные интегралы. Пусть, как обычно, $f(z) = u(x, y) + iv(x, y)$, $dz = dx + idy \Rightarrow f(z)dz = [u + iv][dx + idy] = [udx - vdy] + +i[vdx + udy] \Rightarrow$

$$\int_L f(z) dz = \int_L u(x, y) dx - v(x, y) dy +$$

$$+ i \int_L v(x, y) dx + u(x, y) dy$$

О свойствах интеграла Вы прочитаете в Учебном пособии.

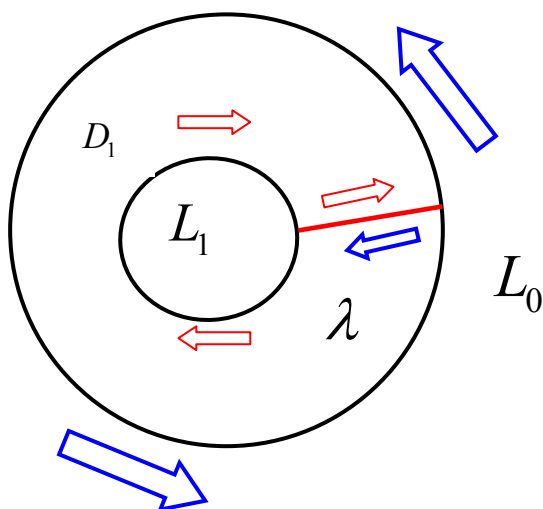
2.4.2. Теорема Коши

Пусть $f(z)$ регулярна в односвязной ограниченной области D , тогда интеграл вдоль любой замкнутой кривой $L \subset D$ равен нулю. Т.е.

$$\oint_L f(z) dz = 0. \quad (1)$$

Примем эту теорему без доказательства, и обобщим её на многосвязные области. Но сначала отметим, что условия Коши-Римана достаточны для того, чтобы $\oint_L f(z) dz = 0$. И обратно, если $f(z)$ непрерывна в односвязной области и

$\oint_L f(z) dz = 0$, то $f(z)$ удовлетворяет условиям Коши-Римана в этой области.



Отсюда следует *второе определение регулярной функции*: однозначная и непрерывная функция называется регулярной, если $\oint_L f(z) dz = 0$.

Рассмотрим двусвязную область, как на рисунке.

Проведём в области D_1 разрез λ и рассмотрим контур $L_0\lambda L_1$, начиная от точки разреза на внешней границе. Обойдём этот контур в

положительном направлении, т.е. так, чтобы область D_1 оставалась слева (жирные стрелки). Тонкие стрелки означают путь по внутренней границе в отрицательном направлении, но область D_1 всё равно остаётся слева, тогда интеграл по замкнутому контуру будет равен

$$\oint = \int_{L_0} + \int_{\lambda} + \int_{L_1} - \int_{\lambda} = \int_{L_0} + \int_{L_1} = 0 \Rightarrow \oint \text{ по внешнему контуру равен } \sum \oint \text{ по}$$

всем внутренним контурам. (В нашем случае имеется только один внутренний контур). При этом интегралы по разрезам взаимно уничтожаются. Т.о.,

$$\int_L f(z)dz + \sum_{k=0}^n \int_{L_k} f(z)dz = 0. \quad (2)$$

2.4.3. Интеграл с переменным верхним пределом. Основная формула интегрального исчисления

Пусть функция $f(z)$ регулярна в области D_1 . Рассмотрим функцию

$$F(z) = \int_{z_0}^z f(z')dz' - \text{интеграл с переменным верхним пределом от функции } f(z).$$

Можно доказать, что существует производная этого интеграла, причём $F'(z) = f(z)$. Т.е. $F(z)$, как и в вещественном анализе, является первообразной функцией для $f(z)$. И, также,

$$\int_{z_1}^{z_2} f(z)dz = F(z_2) - F(z_1). \quad (3)$$

2.4.4. Интегральная формула Коши

1) Вычислим $\oint_l (z-a)^n dz$ при целом n , считая, что контур l не проходит

через точку a . При $n \neq -1$, очевидно, $I = \frac{1}{n+1}(z-a)^{n+1}$. И этот интеграл будет однозначной регулярной функцией везде, при $n \geq 0$, или везде, кроме $z = a$.

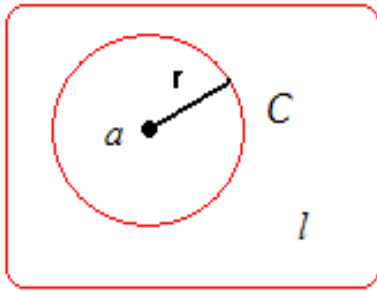
Пусть теперь $n = -1$. Тогда, считая что контур l не проходит через точку

$z = a$, получим интеграл $\oint_l \frac{dz}{z-a}$. Если точка $z = a$ лежит вне контура l , то, по

теореме Коши, этот интеграл по любому замкнутому контуру будет равен

нулю: $\oint_{\forall l} \frac{dz}{z-a} = 0.$

Теперь пусть точка $z = a$ находится внутри контура l . Тогда в точке a подынтегральная функция не определена, и, значит, не регулярна. Окружим эту точку окружностью C радиуса r (см. рисунок), тогда $\frac{1}{z-a}$ регулярна в кольце (cl) .



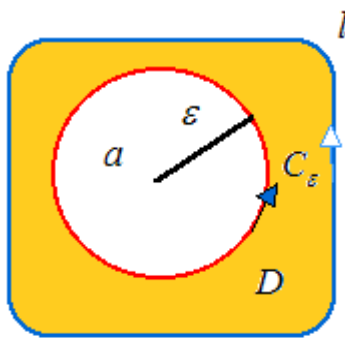
На кольце C $z - a = re^{i\varphi}$, $\varphi \in [0, 2\pi]$ – аргумент числа $z - a$. Но $dz = ire^{i\varphi} d\varphi$, тогда

$$\oint_C \frac{dz}{z - a} = \int_0^{2\pi} \frac{ire^{i\varphi} d\varphi}{re^{i\varphi}} = 2\pi i \Rightarrow \oint_l \frac{dz}{z - a} = 2\pi i \quad \text{и не}$$

зависит от радиуса r . Итак,

$$\oint_l (z - a)^n dz = \begin{cases} 0, & n \neq -1, \\ 2\pi i, & n = -1. \end{cases} \quad (4)$$

2) Формула Коши. Пусть $f(z)$ регулярна в области D и l – контур D и точка $a \in D$. Составим функцию $\frac{f(z)}{z - a}$. Она регулярна везде в области D , кроме точки a . Окружим эту точку кругом радиуса ε (см. рисунок).



В серой области эта функция регулярна везде, тогда по теореме Коши

$$\oint_l \frac{f(z)}{z - a} dz = \oint_{C_\varepsilon} \frac{f(z)}{z - a} dz \quad \text{при обходе по } C_\varepsilon \text{ в}$$

положительном направлении. Но тогда

$$\begin{aligned} \oint_l \frac{f(z)}{z - a} dz &= f(a) \int_{C_\varepsilon} \frac{dz}{z - a} + \int_{C_\varepsilon} \frac{f(z) - f(a)}{z - a} dz = \\ &= f(a) \cdot 2\pi i + \int_{C_\varepsilon} \frac{f(z) - f(a)}{z - a} dz. \end{aligned}$$

Члены, выделенные жирным шрифтом не зависят от ε , а последний член можно оценить, как

$$\left| \int_{C_\varepsilon} \frac{f(z) - f(a)}{z - a} dz \right| \leq \frac{\max_{C_\varepsilon} |f(z) - f(a)|}{\min_{C_\varepsilon} |z - a|} \cdot 2\pi\varepsilon = 2\pi \max_{C_\varepsilon} |f(z) - f(a)| \rightarrow 0,$$

поскольку $|z - a| = \varepsilon$, а при $\varepsilon \rightarrow 0$ $z \rightarrow a$. Следовательно, $f(a) = \frac{1}{2\pi i} \oint_l \frac{f(z)}{z - a} dz$.

И, заменяя a на z , получаем:

$$f(z) = \frac{1}{2\pi i} \oint_l \frac{f(z')}{z' - z} dz'. \quad (5)$$

Далее, точка z лежит в области D , точка z' – на линии l , т.е. $z - z' \neq 0$. Значит, подынтегральная функция в (5) непрерывна, и её можно дифференцировать по z под интегралом сколько угодно раз. Тогда

$$f'(z) = \frac{1}{2\pi i} \int_l \frac{f(z')}{(z' - z)^2} dz', \quad f''(z) = \frac{2!}{2\pi i} \int_l \frac{f(z')}{(z' - z)^3} dz', \quad \dots,$$

$$f^{(n)}(z) = \frac{n!}{2\pi i} \int_l \frac{f(z')}{(z' - z)^{n+1}} dz'. \quad (6)$$

Итак, интегральная формула Коши (5) выражает значение регулярной функции во внутренней точке области через значение этой же функции на границе области. Оказывается также, что регулярная функция имеет производные любого порядка, которые, разумеется, также являются регулярными функциями. Их можно найти по формуле (6).

Формула Коши играет важную роль в ТФКП, являясь основой для решения граничных задач.

Вопросы для самопроверки по теме 2.4

1. Что называется *интегралом от $f(z)$ вдоль кривой L* ?
2. Как интеграл от ФКП выражается через вещественные криволинейные интегралы?
3. Сформулируйте теорему Коши для многосвязной области.
4. Дайте два определения регулярной функции.
5. Напишите основную формулу интегрального исчисления. Есть ли различия в ней для вещественного и комплексного переменного.
6. Чему равен $\oint_l (z - a)^n dz$?
7. Напишите интегральную формулу Коши.

2.5. Представление регулярных функций рядами

Изучаемые вопросы: Функциональные ряды. Равномерная сходимость. Признак Вейерштрасса о равномерной сходимости. Степенные ряды. Теорема Абеля. Ряд Тэйлора. Разложение элементарных функций в степенные ряды. Ряд Лорана. Изолированные особые точки. Разложение в ряд Лорана в окрестности бесконечно удалённой точки.

2.5.1. Функциональные ряды

Пусть в области D определены ФКП $f_1(z), f_2(z), \dots, f_n(z), \dots$. Выражение

$$f_1(z) + f_2(z) + \dots + f_n(z) + \dots \quad (1)$$

называется *функциональным рядом*. Ряд называется *сходящимся в точке $z \in D$* , если существует конечный предел частичной суммы ряда

$$\lim_{n \rightarrow \infty} S_n(z) = S(z), \quad (2)$$

где $S_n(z) = f_1 + f_2 + \dots + f_n$, а сам предел $S(z)$ называется *суммой ряда*.

Это означает, что $\forall \varepsilon > 0 \exists$ такое число N , что для всех номеров $n > N$

$$|S_n(z) - S(z)| < \varepsilon. \quad (3)$$

Номер N зависит, в общем, от ε и z , но если (3) выполняется, начиная с $n > N$, независимо от положения точки z в области D , то ряд (1) называется *равномерно сходящимся* в этой области.

Существует простой *признак равномерной сходимости*: если ряд (1) *мажорируется* (или усиливается) в области D сходящимся положительным числовым рядом

$$a_1 + a_2 + \dots + a_n + \dots, \quad (4)$$

т.е. для всех n и $z \in D$ $|f_n(z)| < a_n$, то ряд (1) сходится равномерно в D .

При рассмотрении функциональных рядов возникают два основных вопроса: а) какова область сходимости, и б) какими свойствами обладает в этой области сумма ряда. Для решения вопроса а) используются признаки сходимости (Даламбера, абсолютной сходимости, и т.д.), а для решения вопроса б) – следующие теоремы:

Теорема 1. Если члены функционального ряда (1) непрерывны в D и ряд сходится равномерно, то сумма ряда $S(z)$ – функция, непрерывная в D .

Теорема 2. Если члены функционального ряда (1) непрерывны в D и ряд сходится равномерно, то сумму ряда $S(z)$ можно интегрировать почленно вдоль любой кривой $L \subset D$, т.е.

$$\int_L S(z) dz = \sum_{n=1}^{\infty} \int_L f_n(z) dz. \quad (5)$$

Теорема 3. (Вейерштрасса). Если члены ряда (1) являются регулярными функциями в области D , и он сходится равномерно в любой замкнутой области $\bar{D}^* \subset D$ к сумме $S(z)$, то эта сумма также регулярна в D , и её производные можно получить почленным дифференцированием ряда (1):

$$\frac{d^k S(z)}{dz^k} = \sum_{n=1}^{\infty} \frac{d^k f_n(z)}{dz^k}. \quad (6)$$

Ряд, стоящий справа в (6) равномерно сходится в области \bar{D}^* .

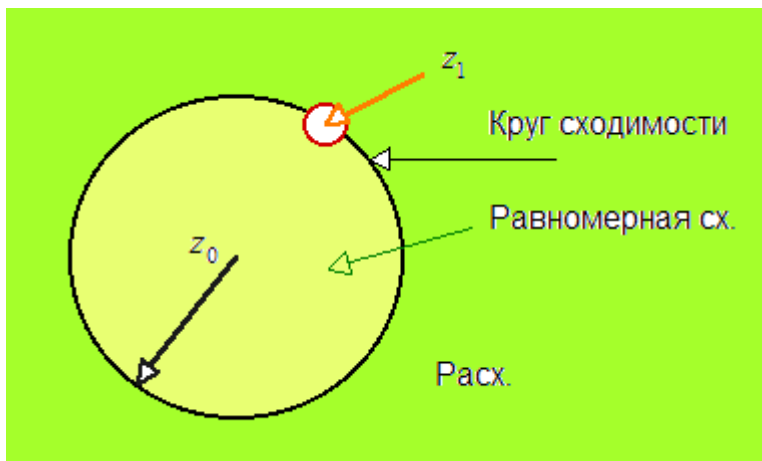
2.5.2. Ряд Тэйлора

Степенным рядом с центром в точке z_0 называется ряд

$$a_0 + a_1(z - z_0) + a_2(z - z_0)^2 + \dots + a_n(z - z_0)^n + \dots \quad (7)$$

Числа a_k – коэффициенты ряда (7).

Теорема Абеля. Если степенной ряд (7) сходится в точке z_1 ($z_1 \neq z_0$), то он *сходится абсолютно* в круге радиуса $|z_1 - z_0|$ с центром в точке z_0 , причём, в любом замкнутом круге меньшего



радиуса с тем же центром его сходимость равномерна. Если же он расходится в точке z_1 ($z_1 \neq z_0$), то он расходится во внешности круга радиуса $|z_1 - z_0|$ с центром в z_0 . (см. рисунок).

На основании теоремы Абеля для любого степенного ряда доказываем существование *радиуса сходимости* R .

Возможны три случая:

- 1) если $R = 0$, то ряд (7) сходится только в центре, т.е. в точке $z = z_0$;
- 2) если $R = \infty$, то ряд (7) сходится при любом z ;
- 3) если $0 < R < \infty$, то он сходится в круге $|z - z_0| < R$ и расходится вне его.

Круг

$$|z - z_0| < R \quad (8)$$

называется *кругом сходимости*.

Во многих случаях радиус сходимости можно найти по признаку Даламбера:

$$\text{Если существует предел } \lim_{n \rightarrow \infty} \frac{|a_n|}{|a_{n+1}|}, \text{ то } R = \lim_{n \rightarrow \infty} \frac{|a_n|}{|a_{n+1}|}. \quad (9)$$

Члены степенного ряда (7) суть регулярные функции. По теореме Абеля, внутри круга сходимости этот ряд сходится равномерно, значит, по теореме 1, сумма его регулярна внутри круга сходимости. Справедливо и обратное утверждение. Тогда можно доказать следующую теорему.

Теорема. Пусть $f(z)$ регулярна в круге радиуса R с центром в z_0 . Тогда внутри этого круга её можно представить степенным рядом

$$f(z) = a_0 + a_1(z - z_0) + a_2(z - z_0)^2 + \dots + a_n(z - z_0)^n + \dots \quad (10)$$

При этом коэффициенты ряда выражаются *формулой Тэйлора*

$$a_n = \frac{f^{(n)}(z_0)}{n!}. \quad (11)$$

Подставив (11) в (10), получим разложение $f(z)$ в ряд Тэйлора:

$$f(z) = f(z_0) + \frac{f'(z_0)}{1!}(z - z_0) + \frac{f''(z_0)}{2!}(z - z_0)^2 + \dots + \frac{f^{(n)}(z_0)}{n!}(z - z_0)^n + \dots \quad (12)$$

Т.о., любая $f(z)$, регулярная внутри круга $|z - z_0| < R$, представима в точках этого круга в виде суммы степенного ряда и разложение это единственно.

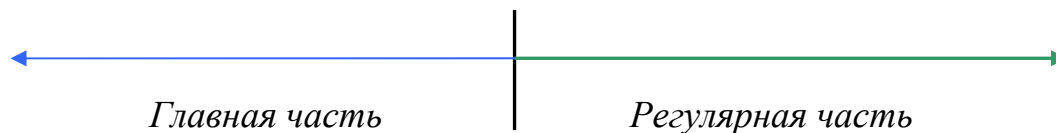
Функция, представимая в круге степенным рядом, называется *аналитической*. Для ФКП аналитичность равносильна регулярности.

Примеры вычисления ряда Тэйлора для некоторых элементарных функций Вы найдёте в Учебном пособии.

2.5.3. Ряд Лорана (РЛ)

Естественным обобщением степенного ряда является ряд Лорана. Это выражение вида

$$\dots + \frac{a_{-m}}{(z - z_0)^m} + \frac{a_{-(m-1)}}{(z - z_0)^{m-1}} + \dots + \frac{a_{-1}}{z - z_0} + a_0 + a_1(z - z_0) + \dots + a_n(z - z_0)^n + \dots, \quad (13)$$



т.е. этот ряд содержит отрицательные и неотрицательные степени $z - z_0$ и есть обобщение формулы (7). Части его называются соответственно *главной* и *регулярной*, или *правильной*. Коротко его можно записать в виде $\sum_{n=-\infty}^{\infty} a_n(z - z_0)^n$.

Ряд Лорана считается сходящимся, если одновременно сходятся его главная и регулярная части. Регулярная его часть – это обычный степенной ряд, и пусть его радиус сходимости $R > 0$, т.е. она сходится в круге

$$|z - z_0| < R. \quad (14)$$

В главной части сделаем замену $\zeta = \frac{1}{z - z_0}$, тогда получим степенной ряд

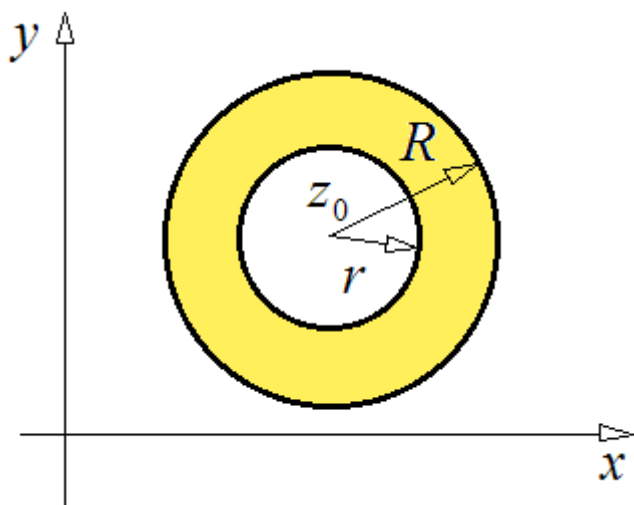
$$a_{-1}\zeta + a_{-2}\zeta^2 + \dots + a_{-m}\zeta^m + \dots \quad (15)$$

и пусть он сходится в круге $|\zeta| < 1/r$. Сделаем обратную замену, найдём, что главная часть РЛ сходится во внешности круга радиуса r с центром в z_0 :

$$|z - z_0| > r, \quad (16)$$

и если $r < R$, то область сходимости РЛ (13) – это кольцо (см. рисунок).

$$r < |z - z_0| < R. \quad (17)$$



Т.е. если РЛ сходится, то его область сходимости – концентрическое круговое кольцо. Сумма РЛ есть регулярная функция внутри кольца сходимости.

Справедливо и обратное: функция регулярная в кольце может быть разложена в РЛ.

Частным случаем является $r = 0$: кольцо – это круг с исключённым центром z_0 . Точка z_0 в этом случае является *особой*, в

ней $f(z)$ не определена и имеет разрыв. Оказывается, можно установить соответствие между структурой РЛ и типом особенности функции в особой точке.

2.5.4. Изолированные особые точки ФКП

Точка z_0 называется *изолированной особой точкой* функции $f(z)$, если $f(z)$ регулярна в некотором круге $0 < |z - z_0| < R$ с исключённым центром и нерегулярна в самой точке z_0 .

Рассмотрим виды изолированных точек:

а) z_0 называется *устранимой особой точкой* (ОТ) функции $f(z)$, если существует конечный предел $\lim_{z \rightarrow z_0} f(z) = a_0$. Для того, чтобы z_0 была устранимой ОТ, необходимо и достаточно, чтобы РЛ $f(z)$ в окрестности $\varepsilon(z_0)$ не содержал отрицательных степеней, т.е. имел бы вид

$$\text{РЛ } f(z) = a_0 + a_1(z - z_0) + \dots + a_n(z - z_0)^n + \dots$$

Пример. $\square f(z) = \frac{\sin z}{z}$ имеет устраняемую ОТ в $z = 0$. В самом деле,

$$\sin z = z - \frac{z^3}{3!} + \frac{z^5}{5!} - \dots \Rightarrow \frac{\sin z}{z} = 1 - \frac{z^2}{3!} + \frac{z^4}{5!} - \dots, \text{ а предел } \lim_{z \rightarrow 0} \frac{\sin z}{z} = 1. \blacksquare$$

б) особая точка z_0 называется *полюсом* функции $f(z)$, если $\lim_{z \rightarrow \infty} f(z) = \infty$.

Для того, чтобы точка z_0 была полюсом $f(z)$, необходимо и достаточно, чтобы главная часть РЛ $f(z)$ в $\varepsilon(z_0)$ содержала конечное число членов:

$$\text{РЛ } f(z) = \frac{a_{-m}}{(z - z_0)^m} + \frac{a_{-(m-1)}}{(z - z_0)^{m-1}} + \dots + \frac{a_{-1}}{z - z_0} + a_0 + a_1(z - z_0) + \dots + a_n(z - z_0)^n + \dots$$

$$(a_{-m} \neq 0). \tag{18}$$

Пусть имеет место (18). Умножим обе части его на $(z - z_0)^m$:

$$(z - z_0)^m f(z) = a_{-m} + a_{-(m+1)}(z - z_0) + \dots + a_n(z - z_0)^{n+m} + \dots \Rightarrow$$

$$\frac{1}{f(z)} = (z - z_0)^m \cdot \frac{1}{a_{-m} + a_{-(m+1)}(z - z_0) + \dots}. \tag{19}$$

Здесь в знаменателе стоит степенной ряд – регулярная функция с коэффициентом $a_{-m} \neq 0$, следовательно, дробь есть также некая регулярная функция $h(z)$, тогда

$$\frac{1}{f(z)} = (z - z_0)^m h(z) \text{ – регулярна в точке } z_0 \text{ и имеет в ней корень кратности } m$$

за счёт первого множителя. Поэтому *порядком полюса* z_0 функции $f(z)$ называется кратность корня z_0 функции $f^{-1}(z)$, и он равен максимальной степени разности $(z - z_0)$ в главной части ряда Лорана.

в) точка z_0 называется *существенно особой* точкой функции $f(z)$, если $\lim_{z \rightarrow z_0} f(z)$ не существует.

Для того, чтобы точка z_0 была существенно особой, необходимо и достаточно, чтобы РЛ $f(z)$ в окрестности $\varepsilon(z_0)$ содержал бесконечное число членов с отрицательными степенями.

2.5.5. Разложение в РЛ в окрестности бесконечно удалённой точки

Ранее (п.2.1), указывалось, что $\varepsilon(\infty)$ называется внешность круга с центром в начале координат, т.е. она представляет собой кольцо с бесконечным внешним радиусом. Функция $f(z)$, которая регулярна в такой области, должна раскладываться в ней в РЛ по степеням z . В этом случае также возможны три вида особенностей и, соответственно, три случая разложения:

$$\text{а) } f(z) = a_0 + \frac{a_{-1}}{z} + \frac{a_{-2}}{z^2} + \dots + \frac{a_{-n}}{z^n} + \dots, \quad (20)$$

т.е., РЛ в $\varepsilon(\infty)$ не содержит положительных степеней. Тогда $f(z)$ имеет в ∞ устранимую особенность. Можно считать, что в этом случае $f(z)$ регулярна в окрестности бесконечно удалённой точки.

$$\text{б) } f(z) = a_m z^m + a_{m-1} z^{m-1} + \dots + a_1 z + a_0 + \frac{a_{-1}}{z} + \dots + \frac{a_{-n}}{z^n} + \dots, \quad (21)$$

т.е. РЛ содержит конечное число членов с положительными степенями. Тогда бесконечно удалённая точка является полюсом и $\lim_{z \rightarrow \infty} f(z) = \infty$.

в) РЛ $f(z)$ содержит бесконечное число членов с положительными степенями. Тогда бесконечно удалённая точка является существенно особой для $f(z)$.

Заметим, что при разложении в ряд Лорана в окрестности бесконечно удалённой точки смысл и название частей ряда противоположны тем, что имеют место при разложении в окрестности особой точки.

Вопросы для самопроверки по теме 2.5

1. Что называется функциональным рядом и чему равна его сумма?
2. В каком случае ряд называется равномерно сходящимся?
3. Напишите выражение для степенного ряда с центром в точке $z_0 = 5$.
4. Пусть степенной ряд сходится в точке $z_1 = 7$, а центр его лежит в точке $z_0 = 5$. Нарисуйте круг сходимости этого ряда и укажите область расходимости.
5. Напишите формулу Тэйлора.
6. Как называются различные части ряда Лорана?
7. Можно ли функцию, регулярную в круге разложить в ряд Лорана?
8. Какие виды изолированных особых точек Вы знаете?

2.6. Вычеты функций и их применение

Изучаемые вопросы: Теорема Коши о вычетах; Вычисление вычетов; Вычет в бесконечно удалённой точке; Приложение вычетов к вычислению интегралов.

2.6.1. Теорема Коши о вычетах

Пусть z_0 – изолированная особая точка функции $f(z)$. В окрестности этой точки $f(z)$ может быть представлена рядом Лорана

$$f(z) = \dots + \frac{a_{-m}}{(z-z_0)^m} + \dots + \frac{a_{-1}}{z-z_0} + a_0 + a_1(z-z_0) + \dots + a_n(z-z_0)^n + \dots \quad (1)$$

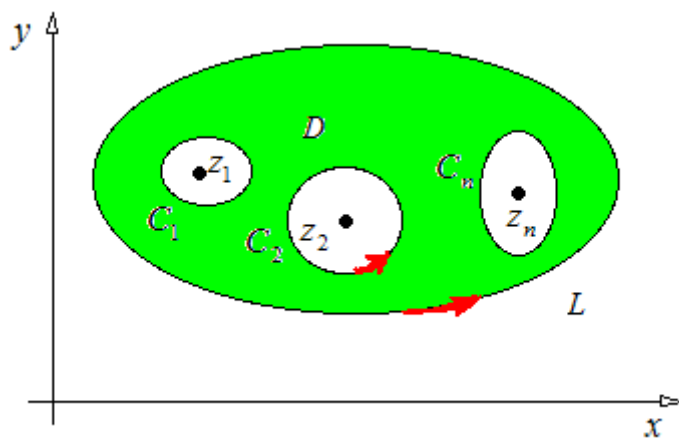
Коэффициент a_{-1} в разложении (1) называется *вычетом* функции $f(z)$ в изолированной особой точке z_0 . Он обозначается как

$$a_{-1} = \text{res } f(z_0). \quad (2)$$

Теорема Коши. Если $f(z)$ регулярна в области \bar{D} всюду, за исключением внутренних точек z_1, z_2, \dots, z_n , то интеграл от функции $f(z)$, взятый по контуру области D в положительном направлении, равен произведению $2\pi i$ на сумму вычетов $f(z)$ в точках z_1, z_2, \dots, z_n :

$$\int_L f(z) dz = 2\pi i \sum_{k=1}^n \text{res } f(z_k). \quad (3)$$

- Исключим точки z_1, z_2, \dots, z_n , окружив их достаточно малыми окрестностями с границами C_i (см. рисунок).



В оставшейся области \bar{D}_1 (она закрашена серым) $f(z)$ удовлетворяет всем условиям интегральной теоремы Коши, следовательно,

$$\int_L f(z) dz + \sum_{k=1}^n \int_{C_k^-} f(z) dz = 0 \quad (4)$$

(здесь у контуров C_k поставлен

минус, т.к. обход окружностей осуществляется в отрицательном направлении – область D остаётся справа).

Но в окрестности $\varepsilon(z_k)$ ряд Лорана для $f(z)$:

$$f(z) = \dots + \frac{a_{-m}^{(k)}}{(z-z_k)^m} + \dots + \frac{a_{-1}^{(k)}}{(z-z_k)} + a_0^{(k)} + \dots + a_n^{(k)}(z-z_k) + \dots, \quad (5)$$

и, интегрируя почленно, получаем:

$$\int_{C_k} f(z) dz = \dots + a_{-m}^{(k)} \int_{C_k} \frac{dz}{(z-z_k)^m} + \dots + a_{-1}^{(k)} \int_{C_k} \frac{dz}{z-z_k} + \dots + a_n^{(k)} \int_{C_k} (z-z_k) dz + \dots$$

В этом интеграле все члены, кроме содержащего a_{-1} , равны нулю (см. п.2.4.4), а

$$\int_{C_k} \frac{dz}{z - z_k} = 2\pi i. \quad (6)$$

Изменив в (4) направление обхода, с учётом (6.) получим (3). •

2.6.2. Вычисление вычетов

1. Рассмотрим вычисление вычета в полюсе первого порядка (простой полюс). Пусть в окрестности $\varepsilon(z_0)$ имеет место разложение

$$f(z) = \frac{a_{-1}}{z - z_0} + a_0 + a_1(z - z_0) + \dots \quad (7)$$

Умножим обе части этого равенства на $(z - z_0)$:

$$(z - z_0)f(z) = a_{-1} + a_0(z - z_0) + a_1(z - z_0)^2 + \dots \quad (8)$$

Устремим $z \rightarrow z_0$, тогда переходя к пределу, получаем

$$a_{-1} = \lim_{z \rightarrow z_0} (z - z_0)f(z). \quad (9)$$

Выражению (9) можно придать другой вид, если представить $f(z) = \frac{\varphi(z)}{\psi(z)}$, где

φ, ψ – регулярные в z_0 функции, причём $\varphi(z_0) \neq 0$, а $\psi(z_0)$ имеет простой

корень. Тогда $a_{-1} = \lim_{z \rightarrow z_0} (z - z_0) \frac{\varphi(z)}{\psi(z)}$ и, по правилу Лопиталья

$$\begin{aligned} a_{-1} &= \lim_{z \rightarrow z_0} \frac{[(z - z_0)\varphi(z)]'}{\psi'(z)} = \lim_{z \rightarrow z_0} \frac{\varphi(z) - (z - z_0)\varphi'(z)}{\psi'(z)} \Rightarrow \\ & a_{-1} = \frac{\varphi(z_0)}{\psi'(z_0)}. \end{aligned} \quad (10)$$

2. Пусть теперь z_0 – полюс порядка m , т.е. ряд Лорана функции $f(z)$:

$$f(z) = \frac{a_{-m}}{(z - z_0)^m} + \dots + \frac{a_{-1}}{z - z_0} + a_0 + \dots + a_n(z - z_0)^n + \dots \quad (11)$$

($a_{-m} \neq 0$). Умножим обе части этого равенства на $(z - z_0)$ и продифференцируем по z $(m - 1)$ раз:

$(z - z_0)^m f(z) = a_{-m} + \dots + a_{-1}(z - z_0)^{m-1} + \dots + a_n(z - z_0)^{n+m} + \dots$ и устремим $z \rightarrow z_0$

\Rightarrow

$$\frac{d^{m-1}}{dz^{m-1}} [(z - z_0)^m f(z)] = (m - 1)! a_{-1}, \quad (12)$$

откуда, по аналогии с предыдущим пунктом,

$$a_{-1} = \frac{1}{(m - 1)!} \lim_{z \rightarrow z_0} \frac{d^{m-1}}{dz^{m-1}} [(z - z_0)^m f(z)]. \quad (13)$$

Пример 1. Найти вычеты $f(z) = \frac{z}{(z-1)^2(z^2+1)}$ в изолированных особых точках.

□ Полюсы функции $f(z)$ расположены в точках, в которых знаменатель дроби обращается в нуль, т.е. их можно найти, решив уравнения $(z-1)^2=0$ и $z^2+1=0$. Корни второго уравнения: $z^2=-1 \Rightarrow z_{1,2}=\pm i$ – простые полюсы, а корень первого уравнения $z_3=1$ – полюс второго порядка (он равен степени разности $(z-z_k)^m$). По формуле (6.9 из Учебного пособия) находим:

$$\begin{aligned} \operatorname{res} f(i) &= \lim_{z \rightarrow i} (z-i) \frac{z}{(z-1)^2(z^2+1)} = \lim_{z \rightarrow i} \frac{z(z-i)}{(z-1)^2(z+i)(z-i)} = \\ &= \lim_{z \rightarrow i} \frac{z}{(z-1)^2(z+i)} = \frac{i}{(i-1)^2 \cdot 2i} = \frac{i}{2i(i^2-2i+1)} = \frac{1}{2(-1-2i+1)} = \frac{1}{-4i} = \frac{i}{4}; \end{aligned}$$

Аналогично, найдём, что $\operatorname{res} f(-i) = -\frac{i}{4}$. В полюсе второго порядка по (13)

$$\operatorname{res} f(1) = \lim_{z \rightarrow 1} \frac{d}{dz} \left[(z-1)^2 \frac{z}{(z-1)^2(z^2+1)} \right] = \lim_{z \rightarrow 1} \left[\frac{z^2+1-2z^2}{(z^2+1)^2} \right] = \frac{2-2}{4} = 0. \blacksquare$$

2.6.3. Вычет в бесконечно удалённой точке

Пусть в окрестности бесконечно удалённой точки $\varepsilon(\infty)$ функция $f(z)$ представима рядом Лорана

$$f(z) = \dots + a_m z^m + \dots + a_1 z + a_0 + \frac{a_{-1}}{z} + \dots + \frac{a_{-n}}{z^n} + \dots \quad (14)$$

Вычетом в бесконечно удалённой точке называется взятый с противоположным знаком коэффициент при минус первой степени z в разложении (14):

$$\operatorname{res} f(\infty) = -a_{-1}. \quad (15)$$

Пример 2. Найти вычет в бесконечности функции $f(z) = \frac{\cos z}{z}$.

□ Разложение $\cos z$ в степенной ряд $\cos z = 1 - \frac{z^2}{2!} + \frac{z^4}{4!} - \dots$ справедливо при

любом z . Тогда $f(z) = \frac{1}{z} - \frac{z}{2!} + \frac{z^3}{4!} - \dots \Rightarrow \operatorname{res}(\infty) = -a_{-1} = -1. \blacksquare$

Теорема. Если $f(z)$ имеет конечное число особых точек, то сумма вычетов её, включая вычет в бесконечно удалённой точке, равна нулю, т.е.

$$\sum_{k=1}^n \operatorname{res} f(z_k) + \operatorname{res} f(\infty) = 0. \quad (16)$$

2.6.4. Приложение вычетов к вычислению интегралов

Если $f(z)$ регулярна в односвязной области D , то по теореме Коши интеграл от неё по любому замкнутому контуру в D равен нулю:

$$\oint_C f(z) dz = 0, C \subset D.$$

Основная теорема о вычетах: если $f(z)$ непрерывна на границе C области D , за исключением конечного числа особых точек z_1, z_2, \dots, z_n , то

$$\oint_C f(z) dz = 2\pi i \sum_{k=1}^n \operatorname{res} f(z_k). \quad (17)$$

Для вычисления этого интеграла необходимо:

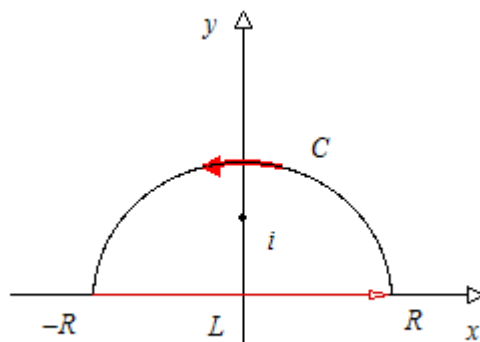
1. Определить контур интегрирования и сделать его рисунок.
2. Найти особые точки подынтегральной функции, которые находятся внутри контура интегрирования, и вычислить вычеты в них, определив тип этих точек.
3. Используя основную теорему о вычетах, найти численное значение интеграла.

Пример 1. Найти несобственный интеграл $\int_{-\infty}^{\infty} \frac{dx}{(x^2 + 1)^2}$ (x – вещественная переменная).

□ Рассмотрим интеграл от ФКП $I_1 = \int_{C \cup L} \frac{dz}{(z^2 + 1)^2}$, где z – комплексная переменная, L – отрезок вещественной оси, C – полуокружность радиуса R . Вычислим I_1 с помощью вычетов.

Подынтегральная функция $f(z) = \frac{1}{(z^2 + 1)^2}$ имеет полюсы второго

порядка в точках $z_{1,2} = \pm i$. Пусть R достаточно велико, так что $z_1 = i$ попадает внутрь контура (см. рисунок). Тогда для полюса второго порядка, который изображен на рисунке



$$\begin{aligned} \operatorname{res} f(i) &= \lim_{z \rightarrow i} \frac{d}{dz} \left[(z-i)^2 \frac{1}{(z^2+1)^2} \right] = \lim_{z \rightarrow i} \frac{d}{dz} \left[\frac{(z-i)^2}{(z^2-i^2)^2} \right] = \lim_{z \rightarrow i} \frac{d}{dz} \left[\frac{1}{(z+i)^2} \right] = \\ &= \lim_{z \rightarrow i} \frac{-2(z+i)}{(z+i)^4} = \frac{-4i}{16} = -\frac{i}{4}. \end{aligned}$$

Следовательно, $I_1 = 2\pi i \cdot \left(-\frac{i}{4}\right) = \frac{\pi}{2}$. С другой стороны,

$$I_1 = \int_{-R}^R \frac{dx}{(x^2+1)^2} + \int_C \frac{dz}{(z^2+1)^2} \Rightarrow \int_{-R}^R = I_1 - \int_C \frac{dz}{(z^2+1)^2}, \text{ а последний интеграл } \xrightarrow{R \rightarrow \infty} 0, \text{ и,}$$

значит, $\int_{-\infty}^{\infty} \frac{dx}{(x^2+1)^2} = I_1 = \frac{\pi}{2}$. ■

Вопросы для самопроверки по теме 2.6

1. Какой коэффициент ряда Лорана называется вычетом функции $f(z)$?
2. Сформулируйте теорему Коши о вычетах.
3. Напишите формулы для вычисления вычетов в полюсе первого порядка, полюсе порядка m и в БУТ.
4. Чему равна сумма вычетов функции $f(z)$, имеющей конечное число особых точек?

Все шесть тем этого раздела подробно описаны в Учебном пособии, которое Вам предстоит изучить. В результате Вы сможете решить задачи контрольной работы, варианты которой, в соответствии с вашим шифром, содержатся в разделе 4.

Раздел 3. ДИСКРЕТНАЯ МАТЕМАТИКА

Этот раздел включает три темы: *Элементы теории графов; Формальные языки и дискретные автоматы; Элементы алгебры логики.*

Работа с разделом 3 завершается выполнением контрольной работы.

Для того чтобы Вы смогли успешно ответить на вопросы контрольного теста, Вам предоставляется возможность поработать с репетиционным тестом. Он является полным аналогом контрольного теста, однако время работы с ним не ограничено, и даются правильные ответы на вопросы.

Если Вы испытываете затруднения в ответе на какой-либо вопрос, обратитесь к глоссарию или учебному пособию.

3.1. Элементы теории графов

Изучаемые вопросы: Основные определения. Типы задач. Задача о построении кратчайшего пути. Алгоритм Дейкстры. Остовное дерево. Алгоритм ближайшего соседа.

3.1.1. Основные понятия

Приводим основные понятия теории графов, которые потребуются нам. Строгие формулировки в полном объёме вы можете найти в любой книге, из приведённых в списке литературы.

1. Пусть на плоскости даны n точек S_1, S_2, \dots, S_n – *вершины*. И пусть они соединены линиями (прямыми или нет), и необязательно каждая пара. Эти линии – *рёбра*. Полученная фигура называется *графом*.

2. Если на рёбрах выбраны направления, граф называется *ориентированным* или *орграфом*, а рёбра – *дугами* (рис. 1).

3. Граф называется *полным*, если любая пара вершин соединена дугой, в противном случае – *неполным*.

4. Совокупность дуг, соединяющих две вершины S_k и S_m , называется *путем* из S_k в S_m .

Если начало и конец пути совпадают, то такой путь называется *циклом*.

Т.е. $S_1S_2S_3$ – путь, а $S_1S_2S_3S_1$ – цикл.

5. Граф наз. *связанным*, если существует хотя бы один путь, соединяющий любые две его вершины. В противном случае – *несвязанный*.

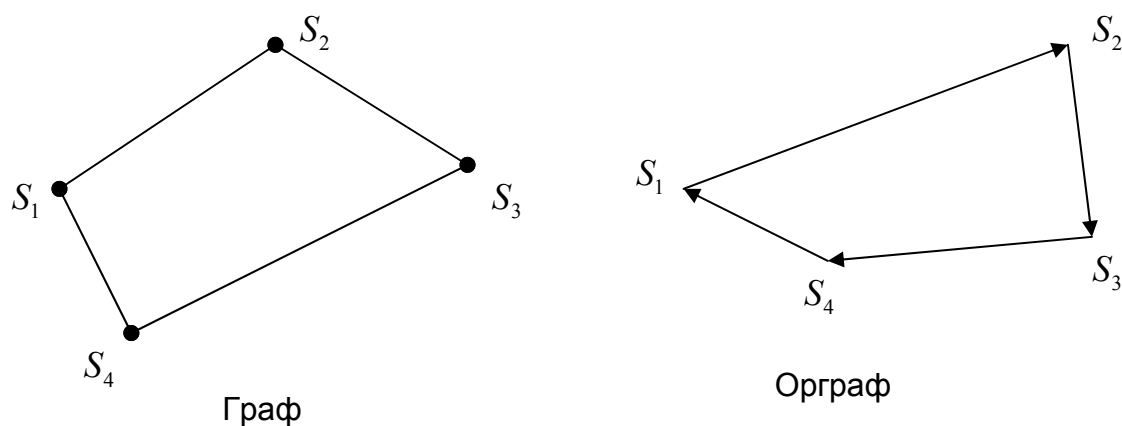


Рис.1. Примеры графов

6. Связный граф, не содержащий циклов наз. *деревом*. Если у дерева выделена одна вершина, она называется *корнем дерева*, а сам граф в этом случае будет *корневым деревом* (рис.2).

7. Связный подграф исходного графа, который не содержит циклов, и в котором путь от корня до каждой из вершин является наименьшим из всех возможных, называется *остовным деревом*.

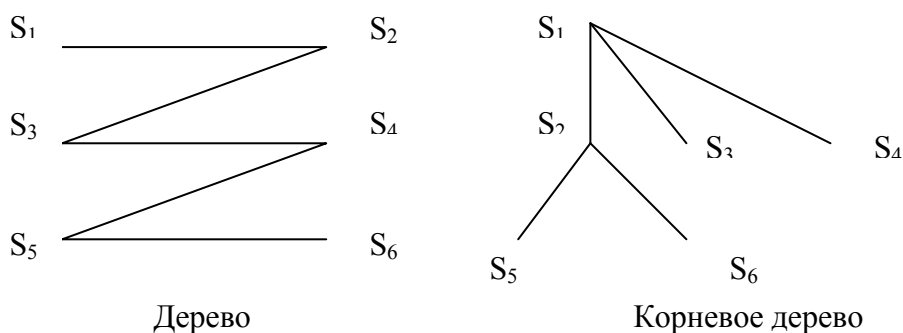


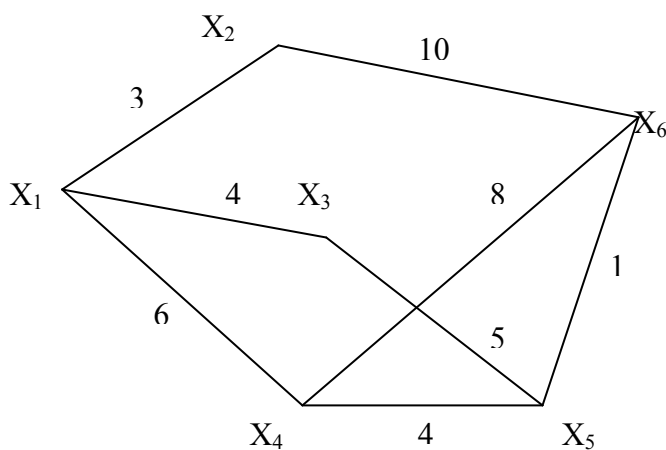
Рис.2. Деревья на графах

3.1.2. Задачи на графах

Типичными задачами, решаемыми с помощью графов, являются

1. О нанесении проводников на плату: нанести на печатную плату некоторую схему проводников так, чтобы любые два из них не пересекались между собой ни в каких точках, кроме заданных.
2. Об обеспечении максимального транспортного потока между двумя заданными пунктами.
3. Задача о построении кратчайшего пути. Рассмотрим ее подробно.

Пусть задан граф G (рис. 3) и задана таблица расстояний между его вершинами. Эта таблица наз. *матрицей весов*. Если все расстояния в графе равны 1, то полученная матрица наз. *матрицей смежностей*.



Граф G

Матрица весов:

	X_1	X_2	X_3	X_4	X_5	X_6
X_1	0	3	4	6	∞	∞
X_2	3	0	∞	∞	∞	10
X_3	4	∞	0	∞	5	∞
X_4	6	∞	∞	0	4	8
X_5	∞	∞	5	4	0	1
X_6	∞	10	∞	8	1	0

Рис. 3. К задаче о построении кратчайшего пути

Задача ставится так: найти кратчайшее расстояние $X_1 \rightarrow X_6$.

Используем для решения т.н. алгоритм Дейкстры, в котором по определенному правилу вершинам присваивают временные и постоянные метки и также по определенному правилу заменяют временные метки на постоянные. Процесс состоит из шагов, каждый из которых включает в себя три

действия и заканчивается, когда все метки станут постоянными. Действия на каждом шаге:

1. Первой из выделенных вершин присваивают постоянную метку $l^*(x_1) = 0$, где символ * означает, что это значение относится к постоянной метке, а всем остальным вершинам – временные метки $l(x_i) = \infty, i = 2, 3, 4, 5, 6$.

2. Рассматривают множество вершин $\Gamma(x_i) = \{x_j, \dots, x_k\}$, соседних с той, которая имеет постоянную метку, и вычисляют для них новые временные метки по правилу (для x_j):

$L(x_j) = \min \{l(x_j), l^*(x_i) + r_{ij}\}$, где $l(x_j)$ – старая временная метка вершины x_j , а r_{ij} – расстояние от x_i до x_j .

3. Выбирают min из всех временных меток, которая становится постоянной, и делают следующий шаг.

Рассмотрим наш пример.

Требуется определить кратчайший путь из вершины X_1 до вершины X_6 .

Применим алгоритм Дейкстры. □

Шаг 1. 1. Для X_1 постоянная метка $l^*(X_1) = 0$. Для остальных вершин временные метки $l(X_i) = \infty, i = 2, 3, 4, 5, 6$.

2. $\Gamma(X_1) = \{X_2, X_3, X_4\}$. Новые временные метки: $L(X_j) = \min\{l(X_j), l^*(X_{пред.}) + r_{пред.,j}\}$. Тогда $L(X_2) = \min\{\infty, 0 + 3\} = 3$; $L(X_3) = \min\{\infty, 0 + 4\} = 4$; $L(X_4) = \min\{\infty, 0 + 6\} = 6$. Наименьшая из всех временных меток:

3. $\min\{L(X_2), L(X_3), L(X_4), L(X_5), L(X_6)\} = \min\{3, 4, 4, \infty, \infty\} = 3$. Следовательно, получаем постоянную метку для вершины X_2 : $l^*(X_2) = 3$.

Шаг 2. 1. $\Gamma(X_2) = \{X_6\}$;

2. $L(X_6) = \min\{\infty, 3 + 10\} = 13$;

3. $\min\{L(X_3), L(X_4), L(X_5), L(X_6)\} = \min\{4, 6, \infty, 13\} = 4$. $\rightarrow l^*(X_3) = 4$.

Шаг 3. 1. $\Gamma(X_3) = \{X_5\}$;

2. $L(X_5) = \min\{\infty, 4 + 5\} = 9$;

3. $\min\{L(X_4), L(X_5), L(X_6)\} = \min\{6, 9, 13\} = 6$. $\rightarrow l^*(X_4) = 6$.

Шаг 4. 1. $\Gamma(X_4) = \{X_5, X_6\}$;

2. $L(X_5) = \min\{9, 6 + 4\} = 9$; $L(X_6) = \min\{13, 6 + 8\} = 13$; (остались теми же);

3. $\min\{L(X_5), L(X_6)\} = \min\{9, 13\} = 9$. $\rightarrow l^*(X_5) = 9$.

Шаг 5. 1. $\Gamma(X_5) = \{X_6\}$;

2. $L(X_6) = \min\{13, 9 + 1\} = 10$. $\rightarrow l^*(X_6) = 10$.

На этом процесс расстановки меток закончен. Значение постоянной метки вершины X_6 даёт кратчайшее расстояние между X_1 и X_6 , которое равно 10.

Кратчайший путь между X_1 и X_6 определяется с помощью соотношения

$$l^*(X_j) = l^*(X_i) + r_{ij},$$

в котором вершина i предшествует j , тогда можем найти вершину, предшествующую X_6 :

$$l^*(X_6) = l^*(X_{предш.}) + r_{предш. 6}.$$

На графе видим, что X_6 предшествуют X_2 , X_4 и X_5 . Составим следующую таблицу:

	$l^*(X_i)$	r_{i6}	+
X_2	3	10	13
X_4	6	8	14
X_5	9	1	10

Видим, что сумма в последней строке таблицы совпадает со значением постоянной метки для вершины X_6 , следовательно, этой вершине предшествует вершина X_5 .

Повторяем эту процедуру для вершины X_5 , т.е. находим вершину ей предшествующую.

Этой вершине предшествуют X_3 и X_4 . Тогда получаем таблицу.

	$l^*(X_i)$	r_{i5}	+
X_3	4	5	9
X_4	6	4	10

Здесь видим, что сумма совпадает с постоянной меткой вершины X_3 , а для X_3 , очевидно, предшествующей вершиной будет X_1 . Таким образом, кратчайший путь оказывается таким:

$$X_1X_3X_5X_6 = 10. \blacksquare$$

4) Задача о минимальном остовном дереве. В этой задаче надо найти связный подграф исходного графа, который не содержал бы циклов, и в котором путь от корня (вершины X_1) до каждой из вершин был бы наименьшим из всех возможных.

Для решения можно использовать т.н. алгоритм ближайшего соседа, приведённый в Пособии, а можно построить дерево, получив при этом и путь, на основе полученных выше постоянных меток.

На первом шаге получили постоянную метку $l^*(x_1) = 0$ и $l^*(x_2) = 3$.

Здесь вершина x_2 – дочка x_1 , следовательно, получаем ребро x_1x_2 остовного дерева. На втором шаге вычислили $l^*(x_3) = 4$ и x_3 – дочка x_1 , получаем ребро x_1x_3 .

Следующий шаг даёт $l^*(x_4) = 6$, x_4 – дочка x_1 и в остовное дерево добавляем ребро x_1x_4 .

На четвёртом шаге находим $l^*(x_5) = 9$ и на третьем шаге видим, что x_5 – дочка x_3 , значит, получаем ребро x_3x_5 . Наконец, $l^*(x_6) = 10$ и x_6 – дочка x_5 , т.е. последнее ребро остовного дерева – x_5x_6 .

Таким образом, остовное дерево имеет вид, как на рис.4. Там же выделен кратчайший путь из x_1 в x_6 .

Заметим, что значения постоянных меток для каждой вершины равны расстояниям из x_1 до этих вершин по остовному дереву.

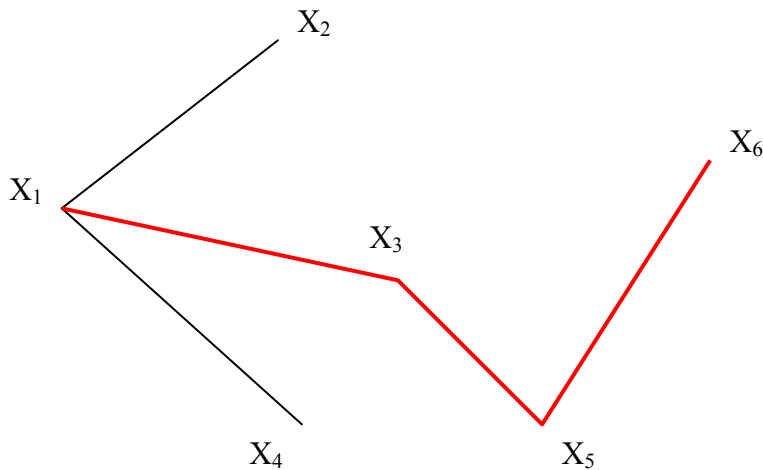


Рис. 4. Остовное дерево. Выделен найденный выше кратчайший путь $X_1X_3X_5X_6$.

Вопросы для самопроверки по теме 3.1.

1. Что такое граф, орграф, дуги и рёбра?
2. Является ли граф (рис.1) полным и связанным?

3.2. Формальные языки и дискретные автоматы

Изучаемые вопросы: Структура формального языка. Построение слов. Дискретные автоматы с памятью и без. Сумматор.

3.2.1. Формальные языки

Здесь будем под языком понимать средство общения автомата с окружающей средой.

Под формальным языком \mathcal{Y} будем понимать математический объект, который включает в себя:

- 1) *Состояние языка* $\{S_0, S_1, \dots, S_n\} = M_n$, где S_0 – начальное или нейтральное состояние, а само множество M_n – *множество нетерминальных символов*.
- 2) *Алфавит языка* $\{m_1, m_2, \dots, m_p\} = M_t$, состоящий из некоторого набора символов (букв). Заметьте, здесь индексация начинается с 1, само M_t – *множество терминальных символов*. Чаще всего под символами понимаются двоичные символы 0 и 1.
- 3) *Правила грамматики* – показывают, как образуются слова языка. Они имеют вид соотношений

$$S_l ::= S_k m_i, \quad (1)$$

где $i = 0, 1, 2, \dots, p$; $l, k = 0, 1, 2, \dots, n$. Это соотношение означает, что при переходе из состояния S_k в S_l появляется буква m_i образуемого слова. При этом

значению $i=0$ соответствует буква m_0 , которая не входит в алфавит, а представляет собой знак пробела или некоторый интервал между словами.

Образование каждого слова начинается из начального состояния S_0 и им же заканчивается (далее идет пробел).

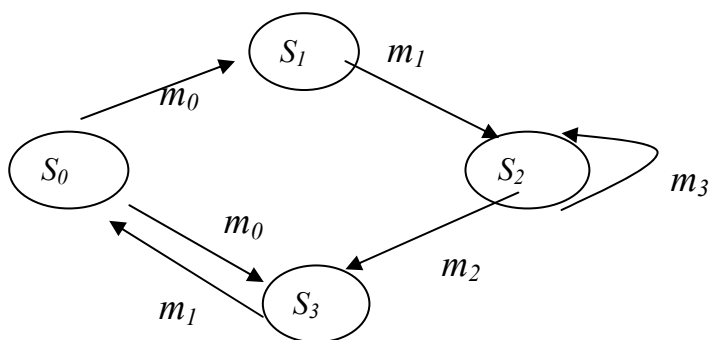
Язык задан, если формула вида (1) определена для каждой пары состояний S_k, S_l .

Пример 1: Язык Я с алфавитом $M_t = \{m_1, m_2, m_3\}$ задан совокупностью следующих правил грамматики:

$$S_1 ::= S_0 m_0; S_2 ::= S_1 m_1 | S_2 m_3; S_3 ::= S_0 m_0 | S_2 m_2; S_0 ::= S_3 m_1. \quad (2)$$

(Здесь обозначение $A|B$ означает и/или).

□ Построение слов в языке Я удобно проводить с помощью графов: в вершинах помещаются состояния S , а рядом с дугой, соединяющей S_k и S_l пишут появляющуюся при этом букву m_i . Начнем с S_0 . С этим состоянием связаны состояния S_1 и S_3 : дуги $S_0 S_1$ и $S_0 S_3$ производят пробел m_0 , а дуга $S_3 S_0$ - букву m_1 ; дуга $S_1 S_2$ - букву m_1 ; дуга $S_2 S_3$ производит букву m_2 , дуга $S_2 S_2$ - букву m_3 . При обходе всего цикла из S_0 в S_0



получаем все возможные слова:

- 1) $m_1 m_2 m_1$;
- 2) $m_1 m_3 m_2 m_1$;
- 3) m_1 ;

(m_0 – пробел – не пишется)!

Тогда

$$Я = \{m_1, m_1 m_2 m_1, m_1 m_3 m_2 m_1\}. \blacksquare$$

Пример 2: Язык Я с алфавитом $M_t = \{m_1, m_2, m_3\}$ задан совокупностью правил:

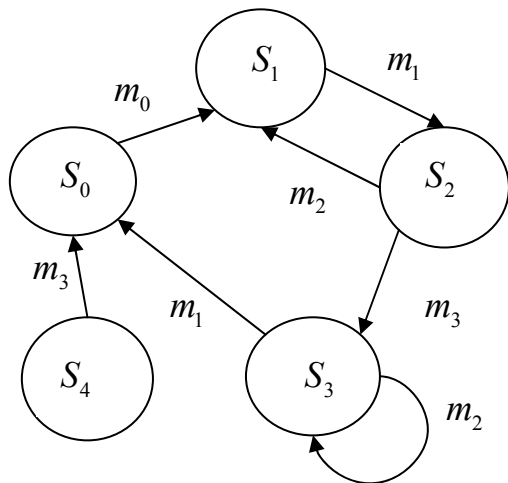
$$S_1 ::= S_0 m_0 | S_2 m_2; S_2 ::= S_1 m_1; S_3 ::= S_2 m_3 | S_3 m_2; S_0 ::= S_4 m_3 | S_3 m_1.$$

Изобразить в виде графа структуру языка и построить совокупность слов, порождаемых грамматикой данного языка.

□ Слова:

- 1) $[m_1 m_2 m_1]^n m_3 m_1$, n -любое (тавтология, т.е. повторение одного и того же)
- 2) $[m_1 m_2 m_1]^n m_3 m_2 m_1$, также тавтология
- 3) $m_1 m_3 m_1$
- 4) $m_1 m_3 m_2 m_1$

Здесь состояние S_4 - «мёртвое», поскольку в него невозможно попасть. (Такие ситуации возможны при проводившейся ранее коррекции языка).



■

3.2.2. Дискретные автоматы (ДА)

ДА – это устройство, служащее для восприятия, переработки поступающей извне информации и выработки соответствующей реакции на эту информацию.

(Здесь считаем, что информация дискретна, т.е. поступает в отдельно взятые моменты времени.)

Для двоичных сигналов (0 и 1) и автоматы называются двоичными.

Пусть ДА имеет k входов и q выходов, тогда совокупность входных (x_1, x_2, \dots, x_k) и выходных (y_1, y_2, \dots, y_q) сигналов можно трактовать как векторы X и Y соответствующих размерностей:



Рассмотрим два типа ДА:

1. Без памяти (или комбинационная схема КС)
2. С памятью (последовательная схема ПС).

$$\text{В КС для текущего момента времени } Y_n = f_{\text{КС}}(X_n), \quad (1)$$

т.е. выходные сигналы являются функцией только входных сигналов.

В ПС они зависят и от предыдущего момента $n-1$:

$$Y_n = f_{\text{ПС}}(X_n, X_{n-1}) \quad (2)$$

Поскольку рассматриваем двоичные дискретные автоматы, то f являются не обычными алгебраическими функциями, но булевскими. И проблема математического описания поведения ДА решается на основе аппарата алгебры логики.

Пусть в некоторый момент времени ДА находится в состоянии S_k и под воздействием входного сигнала x , поступающего в этот момент, переходит в состояние S_l , вырабатывая выходной сигнал y , тогда процесс перехода ДА из S_k в S_l можно записать:

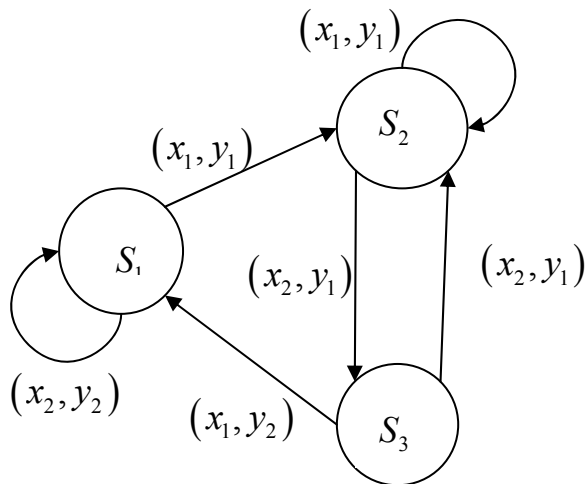
$$S_k \rightarrow xyS_l \quad (3)$$

Рассмотрим ДА без памяти (КС)

Пример: пусть работа ДА задана совокупностью правил:

$$S_1 \rightarrow x_2 y_2 S_1, S_1 \rightarrow x_1 y_1 S_2, S_2 \rightarrow x_1 y_1 S_2, S_2 \rightarrow x_2 y_1 S_3, S_3 \rightarrow x_1 y_2 S_1.$$

И пусть на вход подана последовательность: x_2, x_1, x_2, x_1 , а ДА установлен в состоянии S_1 . Определить последовательность на выходе. Интерпретируем правила работы ДА в виде графа:



□ Так как начальное состояние S_1 и первый входной сигнал x_2 , то, в соответствии с графом, первым выходным сигналом будет y_2 и ДА останется в состоянии S_1 . Следующий входной - x_1 , тогда y_1 и S_2 . Далее, y_1 и S_3 , потом y_2 и S_1 , т.е. последовательность сигналов на выходе: y_2, y_1, y_1, y_2 . ■

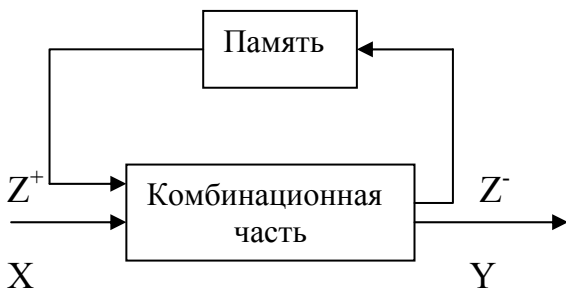
Рассмотрим теперь ДА с памятью (ПС)

Пример: пусть имеется устройство с входным каналом X , каналом обратной связи Z и выходным каналом Y , реализующее отображение

$$XZ^+ \rightarrow Z^- Y,$$

которое задается в виде таблицы (*).

Структурная схема блока:



Здесь входной сигнал задается не только входным X в момент t , но и выходным сигналом предшествующего момента, т.е. $Z^+(t) = Z(t-\tau)$, $\tau > 0$. (Считается, $Z^+(\tau=0) = Z_0^+$).

Пусть на вход подается последовательность 101001 и $Z_0^+ = 0$. Определить последовательность на выходе.

Табл. (*) В $t = 0$ вектор XZ^+ , равный 10 ($X = 1$ – первый член входной последовательности, $Z^+ = Z_0^+ = 0$), определяет, в соответствии с третьей строкой (*) вектор 01. В следующий момент τ входной вектор $X = 0$ (второй член входной последовательности), а $Z^+(\tau) = Z(\tau-\tau) = Z(0) = 0$, тогда в $t = \tau$ $XZ^+ = 00$ и из первой строки (*): $Z^- Y = 11$. В $t = 2\tau$ $XZ^+ = 11$ ($X = 1$ – третий член входной

X	Z ⁺	Z ⁻	Y
0	0	1	1
0	1	1	0
1	0	0	1
1	1	0	0

последовательности, $Z^+ = Z_0^+ = 0$), определяет, в соответствии с третьей строкой (*) вектор 01. В следующий момент τ входной вектор $X = 0$ (второй член входной последовательности), а $Z^+(\tau) = Z(\tau-\tau) = Z(0) = 0$, тогда в $t = \tau$ $XZ^+ = 00$ и из первой строки (*): $Z^- Y = 11$. В $t = 2\tau$ $XZ^+ = 11$ ($X = 1$ – третий член входной

последовательности), а $Z^+(2\tau) = Z^-(\tau)$, и из 4-й строки (*) $Z^-Y = 00$ etc.

Это решение удобно представить в виде табл.(**):

Ответ: 101001 \longrightarrow 110100.

Табл.(**)

Время	X	Z ⁺	Z ⁻	Y
0	1	0	0	1
τ	0	0	1	1
2 τ	1	1	0	0
3 τ	0	0	1	1
4 τ	0	1	1	0
5 τ	1	1	0	0

Работа сумматора подробно описана в [3].

Вопросы для самопроверки по теме 3.2

1. Что означает «язык задан»?
2. В чём отличие комбинационной схемы от последовательной?
3. Что означает запись $S_k \rightarrow xyS_i$?

3.3. Элементы алгебры логики

Изучаемые вопросы: Высказывания. Основные логические операции. Булевы функции и нормальные формы. Совершенные дизъюнктивная и конъюнктивная нормальные формы. Полные системы булевых функций и базис. Нахождение сокращённой дизъюнктивной нормальной формы (ДНФ) методом Квайна. Построение минимальных ДНФ методом Петрика. Технические применения алгебры логики.

3.3.1. Основные логические операции

1. *Отрицание высказывания* – это операция, выражающая высказывание, которое истинно, если исходное высказывание ложно, и наоборот. Обозначают его чертой сверху или знаком \neg . Называется также *инверсией* или *дополнением* к x . Таблица истинности для отрицания:

X	\bar{X}
0	1
1	0

2. *Конъюнкция* двух высказываний – это высказывание, которое истинно тогда и только тогда, когда оба высказывания истинны (и ложно, когда ложно хотя бы одно). Это т.н. *логическое умножение*: XY , $X \wedge Y$, $X \& Y$ (\wedge – логическое «и», $\&$ – амперсанд, или

коммерческое «и»).

3. *Дизъюнкция* двух высказываний – это высказывание, которое истинно тогда и только тогда, когда, по крайней мере, одно из них истинно (и ложно,

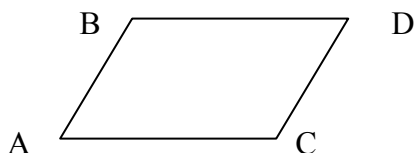
когда оба ложны): $X + Y$, $X \vee Y$ (\vee – логическое «или») – это *логическое сложение*.

Таблица истинности для этих двух операций выглядит так:

X	Y	$X \wedge Y$	$X \vee Y$
0	0	0	0
0	1	0	1
1	0	0	1
1	1	1	1

Примеры. □1. Пусть высказывания $X = AB \parallel CD$, $Y = BD \parallel AC \Rightarrow X \wedge Y = ABCD$ – параллелограмм (см. рисунок) – это пример конъюнкции.

2. Пример дизъюнкции: $X = a_1$ делится на 2, $Y = a_2$ делится на 2. Тогда высказывание $X \vee Y = a_1 a_2$ – чётное число.



4. *Эквиваленция* двух высказываний – это высказывание, которое истинно тогда и только тогда, когда значения истинности A и B совпадают: $A \sim B$.

5. *Импликацией* двух высказываний называется высказывание, которое ложно тогда и только тогда, когда значение истинности первого аргумента – “истина”, а второго – “ложь”. Обозначается: $x_1 \rightarrow x_2$. Читается: “импликация x_1 в x_2 ”, “ x_1 влечет x_2 ”.

6. *Сложением по модулю два* называется функция, принимающая значение истинности “истина”, если аргументы имеют разные значения истинности, и “ложь”, если аргументы имеют одинаковые значения истинности. Обозначается: $x_1 \oplus x_2$; читается: “сложение по модулю два x_1 и x_2 ”.

Таблица истинности для этих двух операций выглядит так:

X	Y	$X \rightarrow Y$	$X \oplus Y$
0	0	1	0
0	1	1	1
1	0	0	1
1	1	1	0

Свойства элементарных логических операций:

1. Коммутативность: $AB = BA$, $A + B = B + A$.

2. Идемпотентность: $A + A = A$, $AA = A$.

3. Ассоциативность:

$A + B + C = (A + B) + C = A + (B + C)$, $ABC = (AB)C = A(BC)$.

4. Дистрибутивность: $A(B + C) = AB + AC$.

5. Формулы Моргана: $\overline{a_1 + a_2 + \dots + a_n} = \bar{a}_1 \bar{a}_2 \dots \bar{a}_n$, $\overline{a_1 a_2 \dots a_n} = \bar{a}_1 + \bar{a}_2 + \dots + \bar{a}_n$.

6. $\overline{\bar{X}} = X$, $X + \bar{X} = 1$, $X \cdot \bar{X} = 0$, $X + 1 = 1$, $X \cdot 1 = X$.

3.3.2. Булевы функции и нормальные формы

Булевой функцией $f(x_1, x_2, \dots, x_n)$ называется произвольная n -местная функция двоичных аргументов $\{0, 1\} \rightarrow \{0, 1\}$, т.е. аргументы её принимают значения 0 и 1, и функция принимает такие же значения – 0 и 1.

Всякую булеву функцию от n переменных можно задать таблицей из 2^n строк, в которой в каждой строке записывают одно из значений этих переменных 0 или 1.

Т.к. длина каждого столбца равна 2^n , а различных столбцов из 0 и 1 длины 2^n имеется 2 в степени 2^n , то существует ровно 2^{2^n} различных n -местных булевых функций. Например, для булевой функции $f(x, y)$ от двух аргументов имеется $2^{2^2} = 16$ различных булевых функций:

x	y	f_1	f_2	f_3	f_4	f_5	f_6	f_7	f_8	f_9	f_{10}	f_{11}	f_{12}	f_{13}	f_{14}	f_{15}	f_{16}
0	0	0	1	0	0	1	1	0	0	0	1	0	1	1	1	1	0
0	1	0	1	0	1	1	0	0	1	0	0	1	1	0	1	0	1
1	0	0	1	1	0	0	1	0	0	1	0	1	0	1	1	0	1
1	1	0	1	1	1	0	0	1	0	0	0	1	1	1	0	1	0

Здесь, кстати, f_{10} называется функцией Шафера, а f_{14} – функцией Вебба.

Ясно, что для одноместной булевой $f(x)$ имеется 4 функции, а для 3-местной $f(x, y, z)$ – 256 функций.

В алгебре логики доказывается, что **всякую булеву функцию можно представить в виде некоторого числа конъюнктивных членов, образованных её аргументами или их отрицаниями, соединённых знаками дизъюнкции.**

Эта форма представления булевой функции называется *совершенной дизъюнктивной нормальной формой (СДНФ)*.

Правило построения СДНФ булевой функции, заданной таблицей, состоит в следующем:

1. Из таблицы выбираем все наборы аргументов X_1, \dots, X_n , для которых $f(X_1, \dots, X_n) = 1$.
2. Для каждого из этих наборов составляем конъюнкции, равные 1.
- 3). Все эти конъюнкции соединяем знаками дизъюнкции.

Пример 1. Составить СДНФ для $f(x, y, z)$, заданной табл. 1:

Табл.1. Функция $f(x, y, z)$.

x	y	z	$f(x, y, z)$
0	0	0	1
0	0	1	0
0	1	0	1
0	1	1	0
1	0	0	0
1	0	1	1
1	1	0	1
1	1	1	1

□1. Отметим строки, где $f(x, y, z) = 1$ (их 5).

2. Для этих наборов конъюнкции, равные 1 будут такими (см. табл. истинности для конъюнкции):

$$\bar{x} \bar{y} \bar{z}, \bar{x} y \bar{z}, x \bar{y} z, x y \bar{z}, x y z.$$

3. Соединяя их знаками дизъюнкции, получаем искомую

$$\text{СДНФ: } f(x, y, z) = \bar{x} \bar{y} \bar{z} \vee \bar{x} y \bar{z} \vee x \bar{y} z \vee x y \bar{z} \vee x y z.$$

Отметим, что конъюнктивные члены, входящие в СДНФ, называются *конституантами единицы*. ■

Аналогично понятию СДНФ вводится *совершенная конъюнктивная нормальная форма* (СКНФ), которая может быть представлена в виде некоторого числа дизъюнктивных членов, соединённых знаками конъюнкции. Правило составления СКНФ булевой функции, заданной таблицей, формулируется так:

1. Выбираются все наборы, для которых $f = 0$.
2. Для каждого из этих наборов составляются дизъюнкции, равные 0.
3. Полученные дизъюнкции соединяются знаками конъюнкции.

В том же примере: 1) Это будут строки 2, 4, 5, и, т.к. дизъюнкция равна нулю, когда оба высказывания равны 0, то 2) нулевые дизъюнкции будут: $x \vee y \vee \bar{z}, x \vee \bar{y} \vee \bar{z}, \bar{x} \vee y \vee z$. Тогда СКНФ:

$$f(x, y, z) = (x \vee y \vee \bar{z}) \wedge (x \vee \bar{y} \vee \bar{z}) \wedge (\bar{x} \vee y \vee z).$$

Отметим, что дизъюнктивные члены, входящие в СКНФ, называются *конституантами нуля*.

3.3.3. Полные системы булевых функций и базис

Система булевых функций f_1, f_2, \dots, f_m называется *полной*, если любую булеву функцию можно представить в виде формулы через функции f_1, f_2, \dots, f_m .

Сама система функций f_1, f_2, \dots, f_m при этом называется *базисом*.

Базис *минимален*, если удаление хотя бы одной из входящих в него функций, превращает систему их в неполную.

Выше мы отметили, что любую булеву функцию можно представить через отрицания, конъюнкции и дизъюнкции, следовательно, система функций $x, x + y, x \cdot y$ является базисом. Однако этот базис не является минимальным, т.к. на основании формул Моргана из него можно удалить одну из функций – дизъюнкцию, или конъюнкцию, не нарушив его полноты. Значит, в качестве базиса можно взять любую из систем функций: $\bar{x}, x + y$ или $\bar{x}, x \cdot y$, поскольку инверсия не выражается через конъюнкцию или дизъюнкцию, и каждый из этих базисов будет минимальным. Т.о., существует несколько различных базисов, и выбор его определяется характером рассматриваемой задачи. Подробнее о минимальных формах – в учебнике.

3.3.4. Нахождение сокращённой ДНФ

Рассмотрим процедуру построения сокращённой ДНФ *методом Квайна*. Он основан на преобразовании ДНФ с помощью операций *полного* и *неполного склеивания* и операции *поглощения*.

Введём ещё одно понятие: конъюнкция переменных x_1, x_2, \dots, x_n называется *элементарной*, если каждая из этих переменных встречается в конъюнкции не более одного раза.

Пусть x – булева переменная, а β – элементарная конъюнкция. Тогда имеет место равенство:

$$x\beta \vee \bar{x}\beta = \beta \quad (1)$$

○ $x\beta \vee \bar{x}\beta = (x \vee \bar{x})\beta = 1 \cdot \beta = \beta$ ●

Это соотношение называется *соотношением полного склеивания*, т.е. в дизъюнкции члены $x\beta$ и $\bar{x}\beta$ склеиваются по x .

Имеет место также *соотношение неполного склеивания*:

$$x\beta \vee \bar{x}\beta = \beta \vee x\beta \vee \bar{x}\beta \quad (2)$$

○ используя свойство идемпотентности $u = u \vee u \Rightarrow$ получаем:

$x\beta \vee \bar{x}\beta = (x\beta \vee \bar{x}\beta) \vee (x\beta \vee \bar{x}\beta)$, но $x\beta \vee \bar{x}\beta = \beta \Rightarrow x\beta \vee \bar{x}\beta = \beta \vee x\beta \vee \bar{x}\beta$ ●

Теперь, наряду с элементарной конъюнкцией β , рассмотрим ещё одну – γ , тогда имеет место *соотношение поглощения*:

$$\beta \vee \beta\gamma = \beta \quad (3)$$

○ $\beta \vee \beta\gamma = \beta \cdot 1 \vee \beta\gamma = \beta(1 \vee \gamma) = \beta \cdot 1 = \beta$ ●

Если в случае полного склеивания говорят, что члены $x\beta$ и $\bar{x}\beta$ склеиваются по x , то в случае поглощения в дизъюнкции $\beta \vee \beta\gamma$ член $\beta\gamma$ поглощается членом β .

По теореме Квайна, *если в СДНФ вначале произвести все операции неполного склеивания, а затем все операции поглощения, то в результате получим сокращённую ДНФ*.

Приведём алгоритм построения сокращённой ДНФ методом Квайна.

1. Найти СДНФ заданной f . В ней все конъюнктивные члены будут иметь один ранг (ранг равен числу членов в конъюнкции).
2. Провести в ДНФ все возможные операции неполного склеивания. Их удобно проводить в два этапа: сначала все возможные операции полного склеивания, а затем выписать результаты полного склеивания в начале ДНФ, соединив их между собой и с остальными членами ДНФ знаками дизъюнкции (это и будет неполное склеивание).
3. Провести все возможные операции поглощения, в результате чего получим ДНФ, состоящую из элементарных конъюнкций ранга, на единицу меньшего.
4. В полученной ДНФ провести все возможные операции склеивания и поглощения в соответствии с п.3) и 4). В результате получим ДНФ,

состоящую из элементарных конъюнкций ранга ещё на единицу меньшего.

Описанную процедуру следует проводить до тех пор, пока это будет возможно. Полученная в итоге ДНФ и будет сокращённой. Образующие её элементарные конъюнкции называются *простыми импликантами функции* f .

Пример 1. Найти сокращённую ДНФ булевой функции

$$f(x, y, z) = \bar{x}\bar{z} \vee x\bar{y}z \vee xyz \vee xy\bar{z}.$$

□

1. Здесь первый конъюнктивный член имеет ранг, равный двум, а остальные – 3. Приведём все члены к одному рангу, равному трём. Для этого умножим первый член на $y \vee \bar{y} = 1$. Получаем:

$$\begin{aligned} \bar{x}\bar{z} &= \bar{x}\bar{z} \cdot (y \vee \bar{y}) = \bar{x}y\bar{z} \vee \bar{x}\bar{y}\bar{z} \Rightarrow \\ \Rightarrow f(x, y, z) &= \bar{x}y\bar{z} \vee \bar{x}\bar{y}\bar{z} \vee x\bar{y}z \vee xyz \vee xy\bar{z} \end{aligned} \quad (4)$$

2. Проведём все возможные операции неполного склеивания в два этапа:

а) проведём полное склеивание каждой из конституент единицы ДНФ (4) с последующими (полное склеивание – $x\beta \vee \bar{x}\beta = \beta$).

1-й член склеивается со 2-м по y , получим $\bar{x}\bar{z}$,

1-й член склеивается с 5-м по x , ... $y\bar{z}$,

2-й член ни с чем не склеивается

3-й член склеивается с 4-м по y , ... xz ,

4-й член склеивается с 5-м по z , ... xy .

б) конъюнкции, полученные в результате полного склеивания, выпишем в начале ДНФ, соединив между собой и с остальными членами ДНФ знаками дизъюнкции:

$$f(x, y, z) = \bar{x}\bar{z} \vee y\bar{z} \vee xz \vee xy \vee \bar{x}y\bar{z} \vee \bar{x}\bar{y}\bar{z} \vee x\bar{y}z \vee xyz \vee xy\bar{z}.$$

3. Проведём все возможные операции поглощения в соответствии с формулой $\beta \vee \beta\gamma = \beta$.

Член $\bar{x}\bar{z}$ поглощает $\bar{x}y\bar{z}$ и $\bar{x}\bar{y}\bar{z}$, т.е.

$$\bar{x}\bar{z} \vee \bar{x}y\bar{z} = \bar{x}\bar{z} \vee (\bar{x}\bar{z})y = \bar{x}\bar{z},$$

$$\bar{x}\bar{z} \vee \bar{x}\bar{y}\bar{z} = \bar{x}\bar{z} \vee (\bar{x}\bar{z})\bar{y} = \bar{x}\bar{z}.$$

Аналогично, $y\bar{z}$ поглощает $xy\bar{z}$. Далее,

xz поглощает $x\bar{y}z$ и xyz . В итоге получим

$$f(x, y, z) = \bar{x}\bar{z} \vee y\bar{z} \vee xz \vee xy \quad (5)$$

– сокращённая ДНФ, (rang = 2).

4. Непосредственной проверкой убеждаемся, что дальнейшее применение операций склеивания и поглощения невозможно. Полученное соотношение (5) является сокращённой ДНФ заданной функции. ■

Конъюнктивные члены (5) представляют собой простые импликанты функции f .

3.3.5. Построение минимальных ДНФ методом Петрика

Тупиковой ДНФ булевой функции называется дизъюнкция из некоторых простых импликант этой функции, равная самой функции и такая, что исключение из неё любой из импликант нарушает это равенство.

Произвольная булева функция может иметь несколько тупиковых форм. Те из них, которые имеют наименьшую сумму рангов, являются минимальными ДНФ. Следовательно, для отыскания минимальных ДНФ достаточно получить все её тупиковые формы и выбрать среди них минимальные.

В качестве универсального метода решения этой задачи приведём изложение метода Петрика.

Пусть совершенная ДНФ (СДНФ) функции f имеет k конституент, а её сокращённая ДНФ имеет m простых импликант.

1. Обозначим каждую простую импликанту f через p_i , т.е. имеем набор p_1, p_2, \dots, p_m .

2. Выделим те простые импликанты сокращённой ДНФ функции f , которые поглощают каждую из конституент единицы исходной ДНФ. Из простых импликант, поглощающих первую конституенту, образуем дизъюнкцию d_1 ; из простых импликант, поглощающих вторую конституенту, образуем дизъюнкцию d_2 и т.д. вплоть до k -ой конституенты. В итоге получим набор дизъюнкций d_1, d_2, \dots, d_k .

3. Из дизъюнкций d_i , полученных в п.2), образуем конъюнкцию

$$F(p_1, p_2, \dots, p_m) = d_1 d_2 \dots d_k \quad (6)$$

4. Раскроем скобки в правой части (6) и проведём все возможные поглощения (в правой части (6) каждая из дизъюнкций d_i выражена через соответствующие импликанты p_i).

Обозначим число элементарных конъюнкций в полученном выражении через s . Каждой такой элементарной конъюнкции соответствует одна тупиковая форма функции f , которая получится, если в элементарной конъюнкции символы импликант p_i заменить их значениями, а знаки конъюнкций заменить знаками дизъюнкций. Т.о., получим s тупиковых ДНФ функции f . Для нахождения искомой минимальной ДНФ остаётся выбрать те из них, которые имеют наименьшую сумму рангов.

Пример 1: для булевой функции f из предыдущего примера построить тупиковые и минимальные ДНФ. Ранее была получена сокращённая ДНФ (10.5):

$$f(x, y, z) = \bar{x}\bar{z} \vee y\bar{z} \vee xz \vee xy$$

□1. Выпишем её простые импликанты:

$$p_1 = \bar{x}\bar{z}, \quad p_2 = y\bar{z}, \quad p_3 = xz, \quad p_4 = xy.$$

2. Выясним, каким импликантами поглощается каждая из конституент единицы исходной ДНФ (в которой все конъюнктивные члены приведены к одному рангу)

$$f(x, y, z) = \bar{x}\bar{y}\bar{z} \vee \bar{x}\bar{y}z \vee x\bar{y}\bar{z} \vee xyz \vee xy\bar{z},$$

и образуем из них соответствующие дизъюнкции:

$$\bar{x}\bar{y}\bar{z} \text{ поглощается импликантами } p_1, p_2; \text{ образуем } d_1 = p_1 \vee p_2$$

$$\bar{x}\bar{y}z \text{ поглощается импликантами } p_1; \text{ образуем } d_2 = p_1$$

$$x\bar{y}\bar{z} \text{ поглощается импликантами } p_3; \text{ образуем } d_3 = p_3$$

$$xyz \text{ поглощается импликантами } p_3, p_4; \text{ образуем } d_4 = p_3 \vee p_4$$

$$xy\bar{z} \text{ поглощается импликантами } p_2, p_4; \text{ образуем } d_5 = p_2 \vee p_4.$$

3. Из дизъюнкций d_i образуем конъюнкцию F

$$F = d_1 d_2 d_3 d_4 d_5 = (p_1 \vee p_2) p_1 p_3 (p_3 \vee p_4) (p_2 \vee p_4).$$

4. Раскроем скобки и, используя соотношение $x * x = x$, преобразуем:

$$F = (p_1 p_1 p_3 \vee p_2 p_1 p_3) (p_3 p_2 \vee p_4 p_2 \vee p_3 p_4 \vee p_4 p_4) = (p_1 p_3 \vee p_1 p_2 p_3) (p_2 p_3 \vee p_2 p_4 \vee p_3 p_4 \vee p_4).$$

В первых скобках $p_1 p_3$ поглощает $(p_1 p_3) p_2$, т.е. $p_1 p_3 \vee p_1 p_2 p_3 = p_1 p_3$.

Во вторых скобках p_4 поглощает $p_3 p_4$ и $p_2 p_4$, тогда

$p_4 \vee p_4 p_3 \vee p_4 p_2 = (p_4 \vee p_4 p_3) \vee p_4 p_2 = p_4 \vee p_4 p_2 = p_4$. После этих поглощений F принимает вид:

$$F = (p_1 p_3) (p_2 p_3 \vee p_4) = p_1 p_3 p_2 p_3 \vee p_1 p_3 p_4 = p_1 p_2 p_3 \vee p_1 p_3 p_4.$$

Каждой элементарной конъюнкции в полученном выражении соответствует одна тупиковая форма ДНФ исходной f , для получения которой достаточно заменить импликанты рассматриваемой конъюнкции по п.1), соединив их знаками дизъюнкции. Т.о., имеем две тупиковые формы:

$$f(z, y, z) = \bar{x}\bar{z} \vee y\bar{z} \vee xz, (\sum \text{rang} = 6),$$

$$f(x, y, z) = \bar{x}\bar{z} \vee xz \vee xy, (\sum \text{rang} = 6).$$

Обе формы имеют одну и ту же сумму рангов, поэтому обе эти формы являются минимальными. ■

Замечание: задача о нахождении минимальной конъюнктивной формы булевой функции может быть сведена к нахождению минимальной ДНФ. Для этого достаточно:

1. Найти min ДНФ функции f .
2. Применить к ней операции отрицания и преобразовать по формулам Моргана.

3.3.6. Технические применения алгебры логики

Аппарат алгебры логики широко используется при описании работы т.н. контактных схем и цифровых машин. При проектировании таких схем на


основе анализа условий работы схемы составляются логические функции, описывающие работу схемы.

При этом возникают два типа задач:

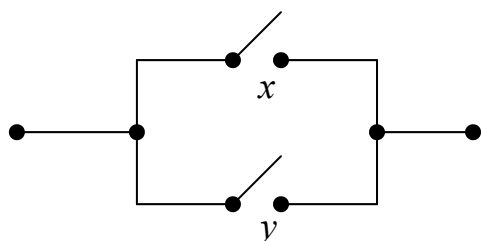
1. Для заданной схемы построить логическую функцию, работу этой схемы.
2. Построить схему, соответствующую данной логической функции.

Рассмотрим эти задачи, предварив их замечаниями.

Пусть высказывание $x = \{\text{контакт } x \text{ замкнут}\}$, тогда отрицание $\bar{x} = \{\text{контакт } \bar{x} \text{ замкнут}\} = \{\text{контакт } x \text{ не замкнут}\}$. Рассмотрим участок схемы

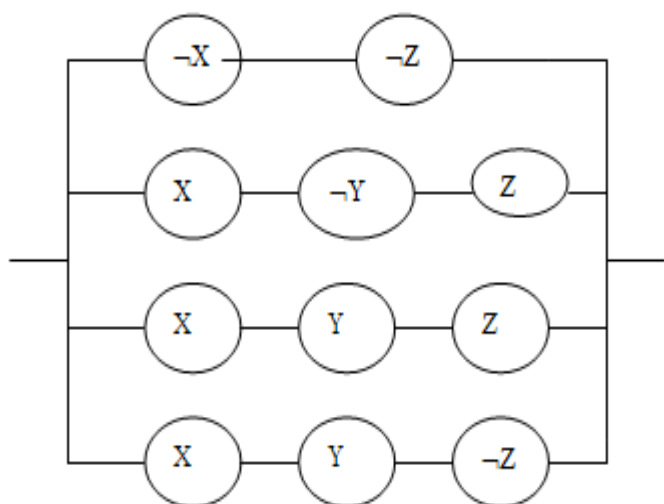


- два последовательных контакта. Этот участок замкнут, если одновременно замкнуты x и y . В алгебре логики эта ситуация описывается конъюнкцией высказываний x и y , т.е. $x \wedge y$.



– параллельные контакты. Здесь для замкнутого участка имеем дизъюнкцию.

Пример 1: для $f = \bar{x}\bar{z} \vee x\bar{y}z \vee xyz \vee xy\bar{z}$ построить соответствующие ей и её минимальным ДНФ контактные схемы.

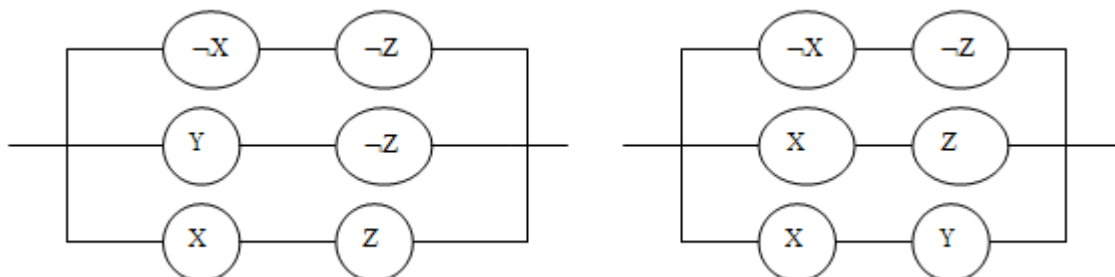


Конъюнктивным членам заданной функции соответствуют участки схемы с последовательно расположенными на них контактами. А т.к. конъюнктивные члены соединены между собой знаками дизъюнкции, то эти

Рис.1. Исходная контактная схема

участки подключены параллельно. Следовательно, схема имеет 11 контактов и изображается как на рис. 1.

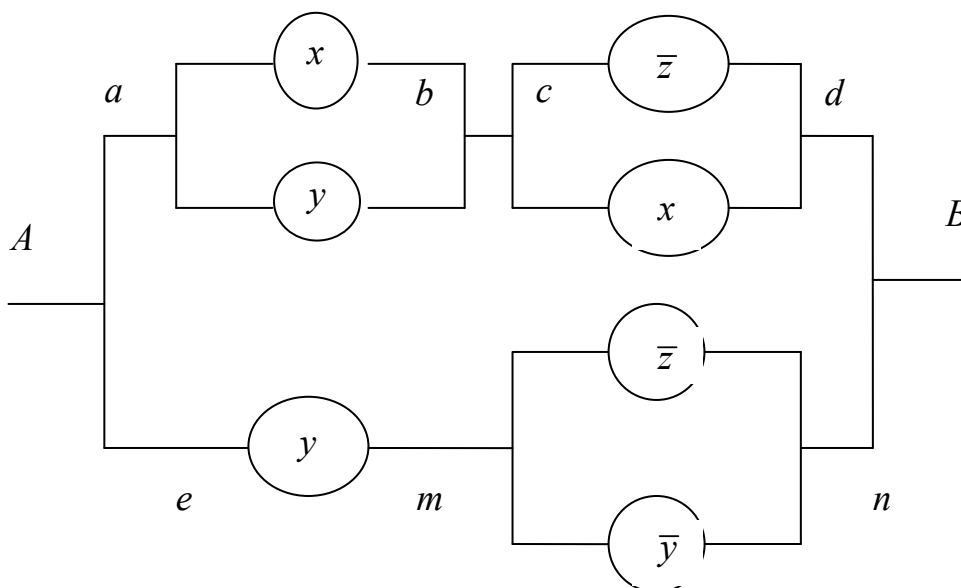
Для двух её минимальных ДНФ $f(x, y, z) = \bar{x}\bar{z} \vee y\bar{z} \vee xz$ и $f(x, y, z) = \bar{x}\bar{z} \vee xz \vee xy$ контактные схемы будут иметь вид:



и содержат по шесть контактов.

Второй тип задачи.

Пример 2: составить логическую функцию, соответствующую контактной схеме:



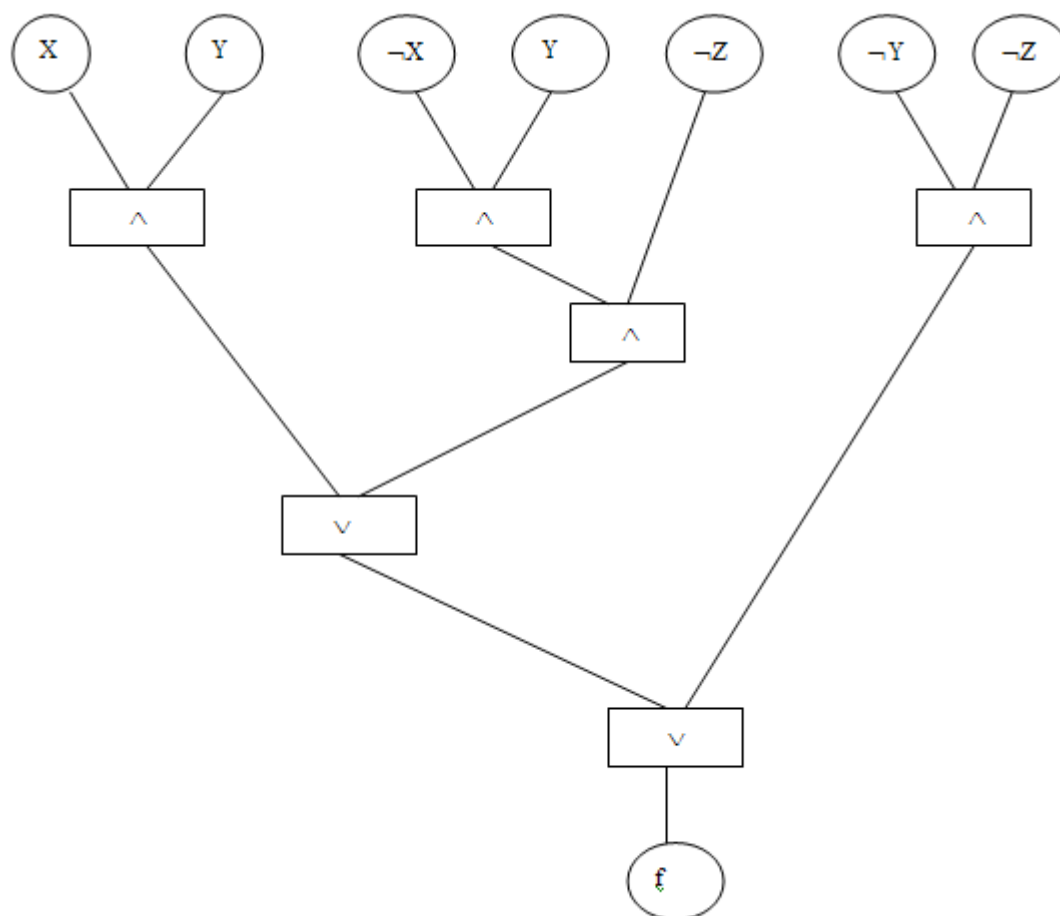
$$ab : x \vee y; \quad cd : \bar{z} \vee x \Rightarrow ad : (x \vee y) \wedge (\bar{z} \vee x); \quad en : y \wedge (\bar{z} \vee \bar{y}) \Rightarrow$$

$$f(x, y, z) = (x \vee y) \wedge (\bar{z} \vee x) \vee y \wedge (\bar{z} \vee \bar{y}).$$

Представление логической функции в виде графа.

На практике удобно изображать логическую функцию в виде дерева, где висячим вершинам соответствуют булевы переменные или их отрицания, а во внутренних вершинах размещены операции, которые нужно выполнить над переменными.

Пример 3: $f(X, Y, Z) = XY \vee \neg XY \neg Z \vee \neg Y \neg Z$. Этой функции будет соответствовать граф:



Вопросы для самопроверки по теме 3.3

1. Дайте определения отрицания, конъюнкции, дизъюнкции, эквиваленции.
2. Напишите формулы Моргана.
3. Что называется булевой функцией?
4. Сколько различных булевых функций можно построить для функции $f(x, y, z, t, u, v)$?
5. Что такое СДНФ, СКНФ?
6. Напишите соотношения полного и неполного склеивания, соотношение поглощения.
7. Что называется тупиковой ДНФ, минимальной ДНФ.

Заключение. Многие из рассматриваемых в настоящем курсе задач следует решать с привлечением табличного процессора Excel. Существенно проще делать их в математических пакетах, перечисленных во введении. Что касается задач на графах, решения обычных и дифференциальных уравнений, то, вообще говоря, применение этих средств является единственной альтернативой рутинным вычислениям «на бумаге». Поэтому следует, по возможности, овладевать навыками работы с этими современными и мощными инструментами. Желаем успехов!

3.3. Учебное пособие

Учебное пособие издано отдельным томом.

3.4. Глоссарий (краткий словарь терминов)

Автомат	Математическая модель системы, обеспечивающей приём, хранение и обработку информации
Алгебраическая форма к.ч.	Запись комплексного числа z в виде $x + yi$ называется <i>алгебраической формой</i> комплексного числа.
Аналитическая функция	Функция, которая совпадает со своим рядом Тейлора в окрестности любой точки области определения. В случае функции комплексного переменного это свойство совпадает со свойством голоморфности.
Аппроксимация	или приближение — замена одних математических объектов другими, в том или ином смысле близкими к исходным.
Вычет функции	Вычетом функции $f(z)$ в a называется число $\operatorname{Res}_a f(z) = \lim_{\rho \rightarrow 0} \frac{1}{2\pi i} \int_{ z-a =\rho} f(z) dz$
Гармоническая функция	Вещественная функция U , непрерывно дифференцируемая в области D , удовлетворяющая уравнению Лапласа: $\Delta U = 0$, где $\Delta = \sum_{i=1}^n \frac{\partial^2}{\partial x_i^2}$ — сумма вторых производных по всем переменным.
Граф	Граф или неориентированный граф G — это упорядоченная пара $G := (V, E)$, для которой выполнены следующие условия: V это множество вершин или узлов, E это множество пар (неупорядоченных) различных вершин, называемых рёбрами.

Дизъюнкция	двух логических высказываний — логическое высказывание, истинное только тогда, когда хотя бы одно из них истинно.
Интерполирование	См. Экстраполирование .
Инцидентность	Если v_1, v_2 — вершины, а $e = (v_1, v_2)$ — соединяющее их ребро, тогда вершина v_1 и ребро e инцидентны, вершина v_2 и ребро e тоже инцидентны.
Квадратурные формулы	Формулы для оценки значения интеграла.
Комплексная функция	Функция которую можно представить в виде <div style="text-align: center; margin: 10px 0;"> $f(x) = u(x) + i \cdot v(x),$ </div> где i — это мнимая единица, т. е. $i^2 = -1$, а $u(x)$ и $v(x)$ — действительные функции. Функция $u(x)$ называется <i>действительной частью</i> функции $f(x)$, а $v(x)$ — её <i>мнимой частью</i> .
Комплексное число	Любое комплексное число может быть представлено как формальная сумма $x + iy$, где x и y — вещественные числа, i — мнимая единица, то есть одно из чисел, удовлетворяющих уравнению $i^2 = -1$.
Конъюнкция	двух логических высказываний — логическое высказывание, истинное только тогда, когда они одновременно истинны.
Логическое высказывание	Утверждение, которому всегда можно поставить в соответствие одно из двух логических значений: ложь (0, ложно, false) или истина (1, истинно, truth). Логическое высказывание принято обозначать заглавными латинскими буквами.
Маршрут	В графе — это чередующаяся последовательность вершин и рёбер $v_0, e_1, v_1, e_2, v_2, \dots, e_k, v_k$, в которой любые два соседних элемента <i>инцидентны</i> . Если $v_0 = v_k$, то маршрут замкнут, иначе открыт.
Матрица инцидентности	Это матрица, значения элементов которой характеризуются инцидентностью соответствующих вершин графа (по вертикали) и его рёбер (по горизонтали). Для неориентированного графа элемент принимает значение 1 , если соответствующие ему вершина и ребро инцидентны. Для ориентированного графа элемент принимает значение 1 , если инцидентная вершина является началом ребра, значение -1 , если инцидентная вершина является концом ребра. В остальных случаях (в том числе и для петель) значению элемента присваивается 0 .

Матрица смежности	Это матрица, значения элементов которой характеризуются смежностью вершин графа. При этом значению элемента матрицы присваивается количество рёбер, которые соединяют соответствующие вершины (т.е. которые инцидентны обоим вершинам). Петля считается сразу двумя соединениями для вершины, т.е. к значению элемента матрицы в таком случае следует прибавлять 2.
Орграф	Ориентированный граф (сокращенно орграф) G — это упорядоченная пара $G := (V, A)$, для которой выполнены следующие условия: V это множество вершин или узлов, A это множество (упорядоченных) пар различных вершин, называемых дугами или ориентированными рёбрами.
Остаточный член	Разность между заданной функцией и функцией, её аппроксимирующей. Тем самым, оценка остаточного члена является оценкой точности рассматриваемой аппроксимации.
Отрицание	Логическое высказывание, принимающее значение "истинно", если исходное высказывание ложно, и наоборот.
Первообразная	Первообразной функцией данной функции f называют такую функцию F , производная которой равна f , то есть $F' = f$.
Погрешность	Всякое измерение дает результат, лишь приближенный к истинному значению определяемой величины. За истинное значение принимается среднестатистическое значение, полученное в результате серии измерений. Но утверждать, что усредненное значение истинно — мы не можем. Поэтому необходимо указать, какова точность измерения. Для этого вместе с полученным результатом указывается погрешность измерений.
Подграф	Граф, содержащий некое подмножество вершин данного графа и все рёбра, инцидентные данному подмножеству.
Разности конечные	Конечные разности применяются в интерполяционном методе Ньютона
Регулярная (голоморфная) функция	Комплекснозначная функция, определённая на открытом подмножестве комплексной плоскости \mathbb{C} и имеющая непрерывную комплексную производную. Иначе, комплексная функция $u + iv = f(x + iy)$ является регулярной тогда и только тогда, когда выполняются условия Коши — Римана

$$\frac{\partial u}{\partial x} = \frac{\partial v}{\partial y}; \quad \frac{\partial u}{\partial y} = -\frac{\partial v}{\partial x}$$

и частные производные $\frac{\partial u}{\partial x}, \frac{\partial u}{\partial y}, \frac{\partial v}{\partial x}, \frac{\partial v}{\partial y}$ непрерывны.

Ряд Лорана

Двусторонне бесконечный степенной ряд по целым степеням $(z - a)$, то есть ряд вида

$$\sum_{n \in \mathbb{Z}} a_n (z - a)^n$$

Ряд Тэйлора

Разложение функции в бесконечную сумму степенных функций. Пусть функция $f(x)$ бесконечно дифференцируема в некоторой окрестности точки a , тогда ряд

$$\sum_{k=0}^{\infty} \frac{f^{(k)}(a)}{k!} (x - a)^k$$

называется рядом Тейлора функции f в точке a .

Связность

Две вершины в графе связаны, если существует соединяющая их (простая) цепь.

Теория графов

Раздел дискретной математики, изучающий свойства графов. В наиболее общем смысле граф можно представить себе как множество *вершин* (узлов), соединённых *рёбрами*.

Тригонометрическая форма к.ч.

Если вещественную x и мнимую y части комплексного числа выразить через модуль $r = |z|$ и аргумент φ ($x = r \cos \varphi$, $y = r \sin \varphi$), то комплексное число z можно записать в *тригонометрической форме* и *показательной формах*

$$z = r(\cos \varphi + i \sin \varphi) = re^{i\varphi}$$

Узлы интерполяции

Пусть имеется n значений x_i , каждому из которых соответствует своё значение y_i . Требуется найти такую функцию F , что:

$$F(x_i) = y_i, \quad i = 1, \dots, n$$

При этом:

- x_i называют *узлами интерполяции*
- пары (x_i, y_i) называют *точками данных*
- разницу между «соседними» значениями $x_i - x_{i-1}$ — *шагом*
- функцию $F(x)$ — *интерполирующей функцией* или *интерполянтом*.

Условия Коши Римана	– Условия на вещественную $u = u(x,y)$ и мнимую $v = v(x,y)$ части функции комплексного переменного $w = f(z) = u + iv, z = x + iy$, обеспечивающие дифференцируемость $f(z)$ как функции комплексного переменного.
Формула Симпсона	относится к приемам численного интегрирования. Подынтегральную функцию приближенно заменяют параболоми. Для этого отрезок, по которому ведется интегрирование, разбивают на пары отрезков, в каждой из которых по трем точкам строят полином второй степени.
Цепь	В графе — маршрут, все рёбра которого различны. Если все вершины (а тем самым и рёбра) различны, то такая цепь называется простой. В цепи $v_0, e_1, \dots, e_k, v_k$ вершины v_0 и v_k называются концами цепи. Цепь с концами u и v соединяет вершины u и v . Цепь, соединяющая вершины u и v обозначается $\langle u, v \rangle$. Для орграфов цепь называется путём.
Эквивалентность	двух логических высказываний — логическое высказывание, истинное только тогда, когда они одновременно истинны или ложны.
Экстраполирование	Интерполяционную формулу $f(x) \approx P_n(x)$ часто используют для приближённого вычисления значений функции f при значениях аргумента x , отличных от узлов интерполирования. При этом различают <i>интерполирование</i> , когда $x \in [x_0, x_n]$, и <i>экстраполирование</i> , когда $x \in [a, b], x \notin [x_0, x_n]$.

3.5. Методические указания к выполнению лабораторных работ

Лабораторная работа 1

Интерполяция функций с равноотстоящими узлами методом Ньютона

1. Цель работы

Нахождение аналитического выражения функции, заданной таблицей, используя первую интерполяционную формулу Ньютона.

2. Основные теоретические положения

Для проверки правильности вычислений конечных разностей удобно использовать их свойство: сумма чисел в каждом столбце разностей равна разности крайних членов предыдущего столбца. Сумма всех разностей первого порядка определяется следующим образом:

$$\sum_{i=0}^{n-1} \Delta y_i = \sum_{i=0}^{n-1} (y_{i+1} - y_i) = \sum_{i=0}^{n-1} y_{i+1} - \sum_{i=0}^{n-1} y_i = y_n - y_0. \quad (1)$$

Например, для $n = 5$: $(y_1 + y_2 + y_3 + y_4 + y_5) - (y_0 + y_1 + y_2 + y_3 + y_4) = y_5 - y_0$.

Аналогично, для разностей других порядков будем иметь:

$$\sum_{i=0}^{n-1} \Delta^k y_i = \Delta y_{n-k+1}^{k-1} - \Delta^{k-1} y_0. \quad (2)$$

Первая интерполяционная формула Ньютона для равноотстоящих узлов интерполяции

Вычисление значений функции для значений аргументов, лежащих в начале таблицы, удобно проводить, пользуясь **первой интерполяционной формулой Ньютона**. В этом случае интерполяционный многочлен представляют в виде:

$$F(x) = P_n(x) = a_0 + a_1(x - x_0) + a_2(x - x_0)(x - x_1) + \\ + a_3(x - x_0)(x - x_1)(x - x_2) + \dots + a_n(x - x_0)(x - x_1)(x - x_2)\dots(x - x_{n-1}), \quad (3)$$

при этом неизвестные значения коэффициентов $a_0, a_1, a_2, \dots, a_n$ вычисляют по формуле

$$a_i = \frac{\Delta^i y_0}{i! h^i} \quad (i = 0, 1, 2, \dots, n), \quad (4)$$

то есть

$$\text{при } i = 0 \quad a_0 = \frac{\Delta^0 y_0}{0! h^0} = \frac{y_0}{1}, \quad [0! = 1, \Delta^0 y_0 = y_0],$$

$$\text{при } i = 1 \quad a_1 = \frac{\Delta^1 y_0}{1! h^1} = \frac{\Delta y_0}{h},$$

$$\text{при } i = 2 \quad a_2 = \frac{\Delta^2 y_0}{2! h^2} = \frac{\Delta^2 y_0}{2! h^2}, \text{ и т. д.}$$

Обратите внимание, что $a_{i+1} = \Delta^{i+1} y_0 \cdot \frac{1}{i! h^{i-1}} \cdot \frac{1}{(i+1)h}$. (5)

После подстановки найденных коэффициентов a_i в выражение (3), получают первую интерполяционную формулу Ньютона:

$$F(x) = y_0 + \frac{\Delta y_0}{h}(x-x_0) + \frac{\Delta^2 y_0}{2!h^2}(x-x_0)(x-x_1) + \frac{\Delta^3 y_0}{3!h^3}(x-x_0)(x-x_1)(x-x_2) + \dots + \frac{\Delta^n y_0}{n!h^n}(x-x_0)(x-x_1)(x-x_2)\dots(x-x_n). \quad (6)$$

Пример.

Используя первую интерполяционную формулу Ньютона, построить интерполяционный многочлен для функции, заданной таблицей (табл. 1). При составлении таблицы конечных разностей контролировать правильность вычислений.

Таблица 1

x_i	y_i
0	8,5
1	10,5
2	12,0
3	13,5
4	14,5
5	15,5

Решение.

□ Степень многочлена определяется порядком конечных разностей, т.е. для рассматриваемого примера интерполяционный многочлен будет иметь вид $F(x) = P_n(x) = a_0 + a_1(x-x_0) + a_2(x-x_0)(x-x_1) + a_3(x-x_0)(x-x_1)(x-x_2) + a_4(x-x_0)(x-x_1)(x-x_2)(x-x_3) + a_5(x-x_0)(x-x_1)(x-x_2)(x-x_3)(x-x_4)$ (7) или

$$F(x) = y_0 + \frac{\Delta y_0}{h}(x-x_0) + \frac{\Delta^2 y_0}{2!h^2}(x-x_0)(x-x_1) + \frac{\Delta^3 y_0}{3!h^3}(x-x_0)(x-x_1)(x-x_2) + \frac{\Delta^4 y_0}{4!h^4}(x-x_0)(x-x_1)(x-x_2)(x-x_3) + \frac{\Delta^5 y_0}{5!h^5}(x-x_0)(x-x_1)(x-x_2)(x-x_3)(x-x_4). \quad (8)$$

Вычисление конечных разностей, значений коэффициентов интерполяционного многочлена (особенно высокого порядка), а также значений функции для заданных значений аргументов удобно выполнять в электронной

таблице (рис. 1), так как «вручную» выполнять подобные вычисления долго и утомительно.

	A	B	C	D	E	F	G	H	I
1	Интерполяция. Формула Ньютона I								
2		Шаг интерполяции $h =$			1			Текущее значение $x =$	2,5
3	№ п/п	Исходные данные		Конечные разности					
4	i	X_i	Y_i	Δy_i	$\Delta^2 y_i$	$\Delta^3 y_i$	$\Delta^4 y_i$	$\Delta^5 y_i$	$x - X_i$
5	0	0	8,5	2,0	-0,5	0,5	-1,0	2,00	2,50
6	1	1	10,5	1,5	0,0	-0,5	1,0		1,50
7	2	2	12,0	1,5	-0,5	0,5			0,50
8	3	3	13,5	1,0	0,0				-0,50
9	4	4	14,5	1,0					-1,50
10	5	5	15,5						-2,50
11	Σ			7,0	-1,0	0,5	0,0	2,00	
12	S		7,0	-1,0	0,5	0,0	2,0		
13									
14			Кoeff. Многочлена						Слагаемые
15			8,50	a_0			8,50	8,50	
16	$1/(1!h)$	1,00	$\Delta Y_0[1/(1!h)]$	2,00	a_1	$(x-x_0)$	2,50	5,00	
17	$1/(2!h^2)$	0,50	$\Delta^2 Y_0[1/(2!h^2)]$	-0,25	a_2	$(x-x_0)(x-x_1)$	3,75	-0,94	
18	$1/(3!h^3)$	0,17	$\Delta^3 Y_0[1/(3!h^3)]$	0,08	a_3	$(x-x_0)(x-x_1)(x-x_2)$	1,88	0,16	
19	$1/(4!h^4)$	0,04	$\Delta^4 Y_0[1/(4!h^4)]$	-0,04	a_4	$(x-x_0)(x-x_1)(x-x_2)(x-x_3)$	-0,94	0,04	
20	$1/(5!h^5)$	0,01	$\Delta^5 Y_0[1/(5!h^5)]$	0,02	a_5	$(x-x_0)(x-x_1)(x-x_2)(x-x_3)(x-x_4)$	1,41	0,02	
21							Σ	12,78	
22	Значение многочлена			12,78					

Режим вычислений

Рис. 1

В верхнюю часть таблицы следует ввести исходные данные: значение шага интерполяции h , который по условию равен 1, значения аргумента x и соответствующие им значения функции $f(x)$, а также значение аргумента $x = 2,5$, для которого требуется вычислить значение заданной функции, с помощью построенного интерполяционного многочлена.

Реализация вычисления конечных разностей выполняется, как показано в таблице. Значения конечных разностей и значение $f(x_0)$, которые будут использованы в вычислениях по формуле (2), выделены в таблице полужирным начертанием. Правильность полученных конечных разностей подтверждают результаты вычислений, выполненные по формуле (2) (в ячейках D11 и C12, E11 и D12 и т.д.).

Вычисление коэффициентов интерполяционной формулы (7) целесообразно выполнять, используя свойство (5)

$$\frac{1}{(i+1)! h^{i+1}} = \frac{1}{i! h^i} \cdot \frac{1}{(i+1)h}$$

а именно:

$$\begin{aligned}
 i = 0 \quad a_0 &= \frac{y_0}{1} = 8,5 \\
 i = 1 \quad a_1 &= \Delta^1 y_0 \cdot \frac{1}{1!h} = 2 \cdot \frac{1}{1! \cdot 1} = 2 \cdot 1 = 2 \\
 i = 2 \quad a_2 &= \Delta^2 y_0 \cdot \frac{1}{2!h^2} = \Delta^2 y_0 \cdot \frac{1}{1!h} \cdot \frac{1}{2h} = -0,5 \cdot 1 \cdot \frac{1}{2} = -0,25 \\
 i = 3 \quad a_3 &= \Delta^3 y_0 \cdot \frac{1}{3!h^3} = \Delta^3 y_0 \cdot \frac{1}{2!h^2} \cdot \frac{1}{3h} = 0,5 \cdot \frac{1}{2} \cdot \frac{1}{3} = 0,08 \\
 i = 4 \quad a_4 &= \Delta^4 y_0 \cdot \frac{1}{4!h^4} = \Delta^4 y_0 \cdot \frac{1}{3!h^3} \cdot \frac{1}{4h} = -1 \cdot \frac{1}{6} \cdot \frac{1}{4} = -0,04 \\
 i = 5 \quad a_5 &= \Delta^5 y_0 \cdot \frac{1}{5!h^5} = \Delta^5 y_0 \cdot \frac{1}{4!h^4} \cdot \frac{1}{5h} = 2 \cdot \frac{1}{24} \cdot \frac{1}{5} = 0,02.
 \end{aligned} \tag{9}$$

Для этого в блоке ячеек B16:B20 реализовано вычисление промежуточных значений коэффициентов таким образом, чтобы каждый последующий элемент столбца получался из предыдущего, умножением на $\frac{1}{i \cdot h}$. Это позволит при необходимости легко настраивать полученную таблицу на решение задач любой размерности.

В блоке ячеек D16:D20 вычисляются значения коэффициентов интерполяционного многочлена a_0, a_1, \dots, a_5 (8), путем умножения значений $f(x_0)$, и конечных разностей, полученных в блоке C5: H5 на соответствующие им значения промежуточных коэффициентов (B16:B20).

В соответствии с (7), каждый коэффициент a_1, a_2, a_3, a_4, a_5 соответственно требуется умножить на $(x - x_0)$, $(x - x_0)(x - x_1)$, $(x - x_0)(x - x_1)(x - x_2)$, $(x - x_0)(x - x_1)(x - x_2)(x - x_3)$ $(x - x_4)$. Поэтому в блоке ячеек I5: I10 предусмотрено вычисление значений $(x - x_j)$, которые затем используются для вычисления их произведений в блоке H16:H20, причем каждый последующий элемент получается из предыдущего.

В блоке ячеек I15: I20 выполняется вычисление значений каждого члена интерполяционного многочлена, просуммировав которые получается значение интерполяционного многочлена для $x = 2,5$.

Таким образом, получено выражение интерполяционного многочлена:

$$\begin{aligned}
 F(x) = P_5(x) &= 8,5 + 2(x-0) - 0,25(x-0)(x-1) + 0,08(x-0)(x-1)(x-2) - \\
 &\quad - 0,04(x-0)(x-1)(x-2)(x-3) + 0,02(x-0)(x-1)(x-2)(x-3)(x-4).
 \end{aligned} \tag{10}$$

Коэффициенты многочлена, полученные при ручном счете по формуле (9), совпадают со значениям коэффициентов, полученными в Excel (см. столбец D15:D20).

Значение $F(2,5) = 12,78$ (получено в ячейке I21). Подставив значение $x = 2,5$ в (10), получим:

$$F(2,5) = P_5(2,5) = 8,5 + 2(2,5-0) - 0,25(2,5-0)(2,5-1) + 0,08(2,5-0)(2,5-1)(2,5-2) - 0,04(2,5-0)(2,5-1)(2,5-2)(2,5-3) + 0,02(2,5-0)(2,5-1)(2,5-2)(2,5-3)(2,5-4) = 12,78.$$

Значение $F(x)$ при $x = 2,5$ при ручном счете и вычислениями в Excel совпадают.

На рис. 2 показана таблица, представленная в режиме формул, в которой алгоритм описанных вычислений становится более наглядным.

Интерполяция. Формула Ньютона I									
		Шаг интерполяции h= 1				Текущее значение X		2,5	
№ п/п	Исходные данные		Конечные разности						
i	X _i	Y _i	Δy _i	Δ ² y _i	Δ ³ y _i	Δ ⁴ y _i	Δ ⁵ y _i	x-x _i	
0	0	8,5	=C6-C5	=D6-D5	=E6-E5	=F6-F5	=G6-G5	=I\$2-B5	
1	1	10,5	=C7-C6	=D7-D6	=E7-E6	=F7-F6		=I\$2-B6	
2	2	12	=C8-C7	=D8-D7	=E8-E7			=I\$2-B7	
3	3	13,5	=C9-C8	=D9-D8				=I\$2-B8	
4	4	14,5	=C10-C9					=I\$2-B9	
5	5	15,5						=I\$2-B10	
Σ			=СУММ(D5:D10)	=СУММ(E5:E10)	=СУММ(F5:F10)	=СУММ(G5:G10)	=СУММ(H5:H10)		
S		=C10-C5	=D9-D5	=E8-E5	=F7-F5	=G6-G5			
		Козфф. многочлена						Слагаемые	
		=C5	a ₀				=D15	=D15	
1/(1!h)	=1/(A5+1)/\$E\$2	ΔY ₀ [1/(1!h)]	=D5*B16	a ₁	(x-x ₀)		=I5	=H16*D16	
1/(2!h ²)	=B16/(A6+1)/\$E\$2	Δ ² Y ₀ [1/(2!h ²)]	=E5*B17	a ₂	(x-x ₀)(x-x ₁)		=H16*16	=H17*D17	
1/(3!h ³)	=B17/(A7+1)/\$E\$2	Δ ³ Y ₀ [1/(3!h ³)]	=F5*B18	a ₃	(x-x ₀)(x-x ₁)(x-x ₂)		=H17*17	=H18*D18	
1/(4!h ⁴)	=B18/(A8+1)/\$E\$2	Δ ⁴ Y ₀ [1/(4!h ⁴)]	=G5*B19	a ₄	(x-x ₀)(x-x ₁)(x-x ₂)(x-x ₃)		=H18*18	=H19*D19	
1/(5!h ⁵)	=B19/(A9+1)/\$E\$2	Δ ⁵ Y ₀ [1/(5!h ⁵)]	=H5*B20	a ₅	(x-x ₀)(x-x ₁)(x-x ₂)(x-x ₃)(x-x ₄)		=H19*19	=H20*D20	
							Σ	=СУММ(I15:I20)	
Значен			=I21						

Режим формул

Рис. 2.

При использовании электронных таблиц не представляет сложности вычисление значений многочлена для других значений x . Для этого достаточно в ячейке I2 изменить значение x , и мгновенно получим новое значение многочлена. Так же быстро можно изменить исходные значения аргумента x и соответствующие им значения функции y . Для этого в блоки ячеек B5:B10 и C5:C10 – следует ввести новые значения.

Заполнять таблицу тоже достаточно просто, если разумно использовать абсолютную и относительную адресацию ячеек, на которые делаются ссылки в формулах, т.е. применять автозаполнение столбцов и строк. Настроить таблицу на построение многочленов более высоких порядков тоже не сложно, вставив в нужном месте нужное количество строк и столбцов и заполнить нужные ячейки автозаполнением. ■

3. Порядок выполнения работы

Задание

1. Выполнить решение примера индивидуального контрольного задания по шести первым точкам (с.77), используя первую интерполяционную формулу Ньютона.

1.4. Реализовать вычисление коэффициентов интерполяционного многочлена средствами MS Excel.

Лабораторная работа 2

Приближенное решение уравнений.

Отделение корней. Уточнение корней методом касательных.

1. Цель работы

Ознакомление с численными методами решения конечных уравнений.

2. Основные теоретические положения

Пусть дано уравнение $f(x) = 0$, где $f(x)$ – непрерывная функция на некотором отрезке. Корни этого уравнения x^* – те значения аргумента x , которые обращают уравнение в тождество. Найти приближенное значение корня x^* с точностью ε означает указать интервал длиной не более ε , содержащий значение корня x .

При отыскании приближенных значений корней уравнения приходится решать две задачи:

- 1) отделение корней, т.е. выделение интервалов из области непрерывности функции, в каждом из которых заключен только один корень уравнения;
- 2) уточнение корня, т.е. построение итерационного процесса, позволяющего сузить границы выделенного интервала до значения заданной точности.

2.1. Отделение корней

Графический метод отделения корней

При графическом методе можно построить график функции для уравнения вида $f(x) = 0$. Значения действительных корней уравнения являются абсциссами точек пересечения функции $y = f(x)$ с осью x .

Пример. Отделить корни уравнения $x^3 - 8x + 2 = 0$ графическим методом, где $x \in [-3, 3]$.

Решение.

□ Для отделения корней можно построить график функции $y = x^3 - 8x + 2$ (рис. 1), задав шаг изменения аргумента, например, равным 1. График удобно строить средствами Excel, используя **Мастер диаграмм**. Значениями действительных корней уравнения являются точки пересечения графика функции с осью x . Из графика видно, что корни находятся на интервалах $[-3; -2]$, $[0; 1]$ и $[2; 3]$. Если задать шаг изменения аргумента меньше выбранного, можно сузить границы интервалов. ■

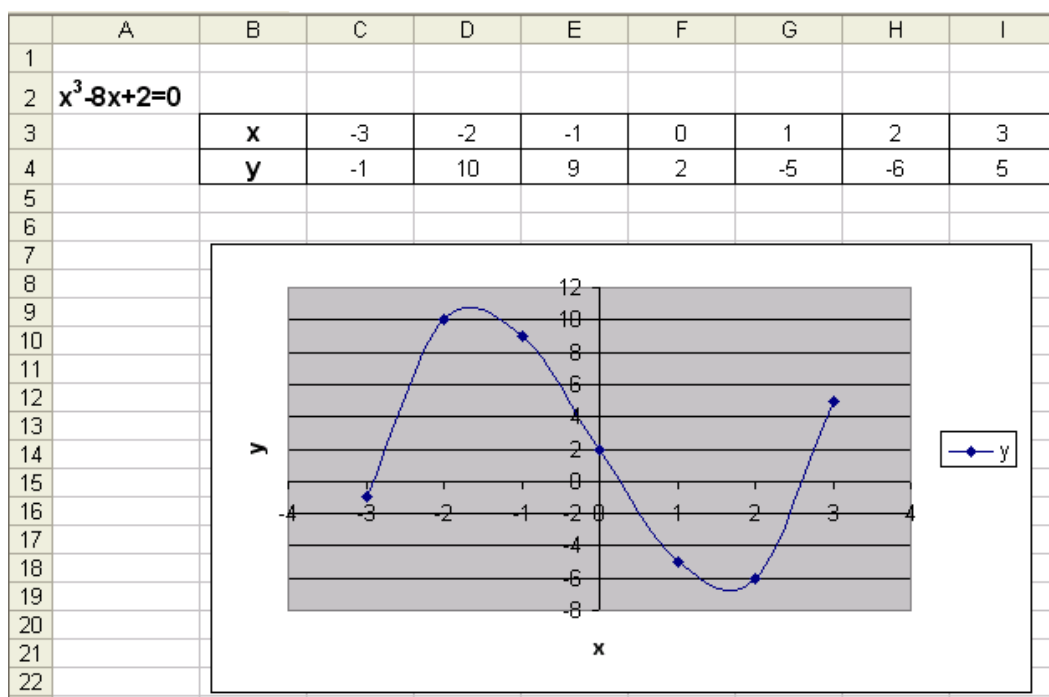


Рис. 1

Аналитический метод отделения корней

Для отделения действительных корней непрерывных функций следует помнить следующее:

- ✓ если функция $f(x)$ непрерывна на интервале $[a, b]$ и имеет на концах интервала $[a, b]$ одинаковые знаки (т.е. $f(a) \cdot f(b) > 0$), то на этом интервале имеется четное число корней или их нет (рис. 2);
- ! нельзя забывать, что корнем функции может быть не только точка пересечения графика функции $f(x)$ с осью x , но и его касание с осью x (рис. 3). В этом случае монотонность функции нарушается.

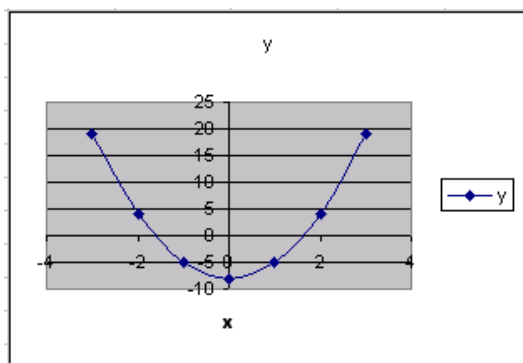


Рис. 2

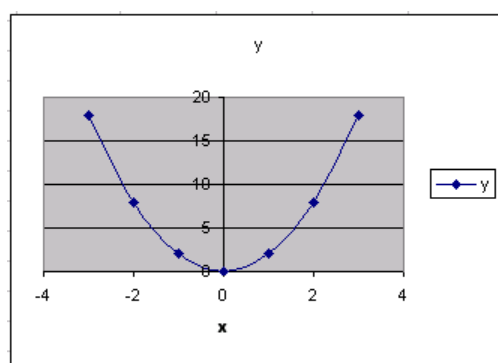


Рис. 3

- ✓ если функция $f(x)$ непрерывна на интервале $[a, b]$ и имеет на концах интервала $[a, b]$ разные знаки (т.е. $f(a) \cdot f(b) < 0$), то на этом интервале имеется нечетное число корней (рис. 4, 5);

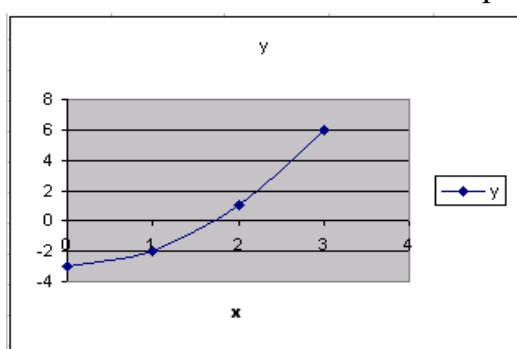


Рис. 4

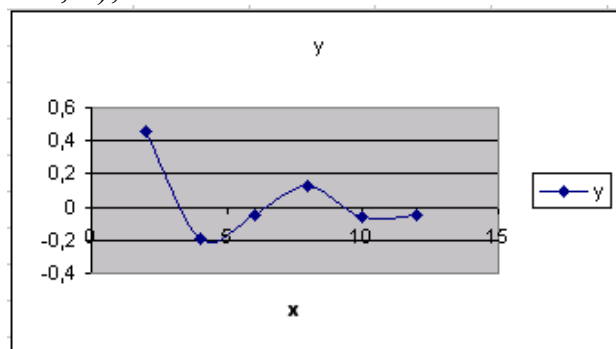


Рис. 5

! Разные знаки функции на концах интервала указывают на наличие корня на интервале $[a, b]$, но не гарантируют его единственности.

- ✓ если функция $f(x)$ непрерывна на интервале $[a, b]$, монотонна и ее значения на концах интервала имеют разные знаки ($f(a) \cdot f(b) < 0$), то уравнение на этом интервале имеет единственный корень.

Из этого следует, что для единственности корня на участке $[a, b]$ достаточно, чтобы выполнялись условия: $f(a) \cdot f(b) < 0$, а $f'(x)$ была знакопостоянна для любого x , принадлежащего $[a, b]$.

! иногда для единственности корня бывает достаточно и знакопостоянства второй производной.

Таким образом, чтобы отделить все корни уравнения, следует:

- найти промежуток, где $f(a) \cdot f(b) < 0$, а $f'(x)$ или $f''(x)$, или и $f'(x)$, и $f''(x)$, были знакопостоянны;
- отыскать нули и точки разрыва $f'(x)$ и проверить, не являются ли они корнями уравнения.

Пример (продолжение). □ Отделить все действительные корни уравнения $f(x) = 0$ на отрезке $[-3, 3]$:

$$f(x) = x^3 - 8x + 2 = 0.$$

Решение.

Вычислим значения функции $f(x)$ на концах отрезка $[-3, 3]$:

$$f(-3) = (-3)^3 - 8 \cdot (-3) + 2 = -1, \quad f(3) = (3)^3 - 8 \cdot 3 + 2 = 5.$$

$f(-3) \cdot f(3) < 0$, поэтому на отрезке $[-3, 3]$ имеется или один корень, или нечетное число корней.

$f(x) = 3x^2 - 8$ – непрерывна. Для определения интервалов монотонности $f(x)$ найдем значения x , при которых $f'(x) = 0$. $f'(x) = 3x^2 - 8 = 0$ при $x = \pm \sqrt{\frac{8}{3}} \approx \pm 1,633$.

Таким образом, можно разделить следующие интервалы монотонности функции $f(x)$: $[-3; -1,633]$, $[-1,633; 1,633]$, $[1,633; 3]$ и на каждом из этих интервалов отделено по одному корню уравнения.

Для наглядности вычислим значения $f(x)$ и $f'(x)$ на концах этих промежутков (табл. 1). $f'(x) = 3x^2 - 8$.

Таблица 1

x	-3	-1,633	1,633	3
$f(x) = x^3 - 8x + 2$	-1	10,709	-6,709	5
$f'(x) = 3x^2 - 8$	19	0	0	19

Другие методы отделения корней

Для отделения корней можно использовать табулирование функции $f(x)$, задав некоторые значения аргумента на рассматриваемом промежутке (табл. 3) и вычислив для них значения $f(x)$, $f'(x)$.

Таблица 3

x	-3	-2	-1	0	1	2	3
$f(x) = x^3 - 8x + 2$	-1	10	9	2	-5	-6	5
$f'(x) = 3x^2 - 8$	19	4	-5	-8	-5	4	19
$f''(x) = 6x$	-18	-12	-6	0	6	12	18

Задав шаг табулирования функции меньше выбранного, можно получить более точные интервалы отделения корней.

Функция $f(x)$ меняет знаки на отрезках $[-3, -2]$, $[0, 1]$, $[2, 3]$, следовательно, на этих отрезках отделены корни уравнения. На каждом из них отделено по одному корню уравнения, так как на отрезке $[-3, -2]$ и $f'(x)$, и

$f''(x)$ не меняют знак, на отрезке $[0, 1]$ $f'(x)$ не меняет знак, на отрезке $[2, 3]$ и $f'(x)$, и $f''(x)$ не меняют знак. ■

Метод касательных (Ньютона)

Уточнение корней – это доведение их до заданной степени точности. Существует несколько методов уточнения корней: метод половинного деления, метод хорд, метод касательных, комбинированный метод хорд и касательных, метод итераций. Рассмотрим уточнение корней методом касательных.

В дальнейшем будем считать, что функция $f(x)$ непрерывна на промежутке $[a, b]$, искомый корень x^* отделен на этом промежутке и является единственным.

Суть метода касательных заключается в том, что на промежутке $[a, b]$ дуга кривой $y = f(x)$ заменяется касательной к этой кривой. За приближенное значение корня принимается точка пересечения касательной с осью x (рис. 6, 7). Возможны следующие варианты:

Вариант 1. $f(a) < 0, f(b) > 0, f'(x) > 0, f''(x) > 0$, т.е. функция монотонно-возрастающая, график функции – выпуклый вниз (рис. 6). Касательная к кривой в точке b пересекает ось x в точке c_1 , которая и принимается за первое приближение корня x_1 . Уравнение касательной к кривой в точке b есть

$$f'(b) = \frac{y - f(b)}{x - b} \quad (1)$$

Найдем значение $x = x_1$, для которого $y = 0$.

$$x_1 = b - \frac{f(b)}{f'(b)}.$$

Эта формула носит название формулы метода касательных.

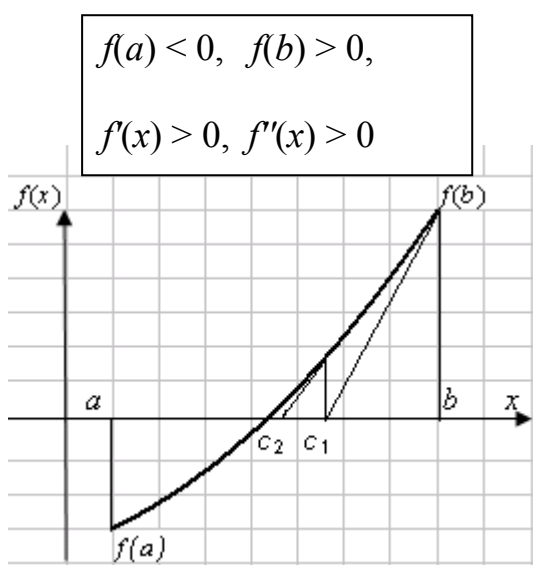


Рис. 6

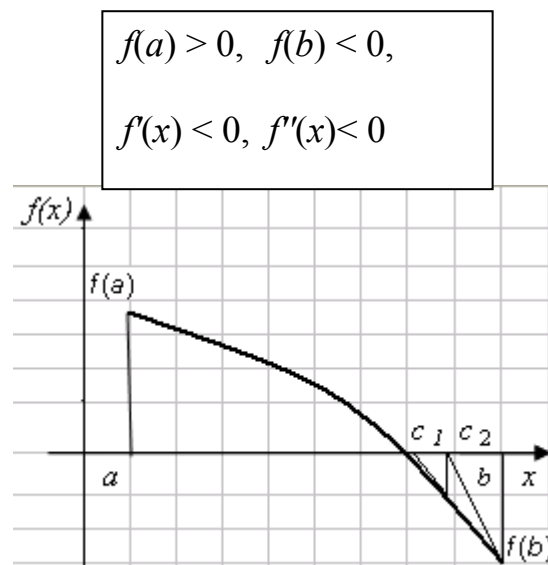


Рис. 7

Теперь корень (первое приближение) находится внутри отрезка $[a, c_1]$. Если значение корня не устраивает, его можно уточнить, применяя метод касательных к отрезку $[a, c_1]$: построим касательную к кривой в точке c_1 . Она пересекает ось x в точке c_2 . Точка пересечения касательной с осью x , принимается за второе приближение корня – x_2 .

$$x_2 = x_1 - \frac{f(x_1)}{f'(x_1)}.$$

Продолжая этот процесс, находим

$$x_{n+1} = x_n - \frac{f(x_n)}{f'(x_n)}. \quad (2)$$

Процесс уточнения продолжается до тех пор, пока не будет получен приближенный корень с заданной точностью ε , т.е. до тех пор, пока корень не будет отделен на отрезке $[x_{n-1} - x_n]$, для которого выполняется условие

$$|x_{n-1} - x_n| < \varepsilon.$$

По формуле (2) корни вычисляются и для случая, когда $f(a) > 0$, $f(b) < 0$, $f'(x) < 0$, $f''(x) < 0$, т.е. функция монотонно-убывающая, а график функции – выпуклый вверх (рис. 7).

Вариант 2. $f(a) > 0$, $f(b) < 0$, $f'(x) < 0$, $f''(x) > 0$, т.е. функция монотонно-убывающая, а график функции – выпуклый вниз (рис. 8).

Касательная к кривой в точке $f(a)$ пересекает ось x в точке c_1 , которая принимается за первое приближение корня x_1 . Уравнение хорды есть

$$f'(a) = \frac{y - f(a)}{x - a} \quad (3)$$

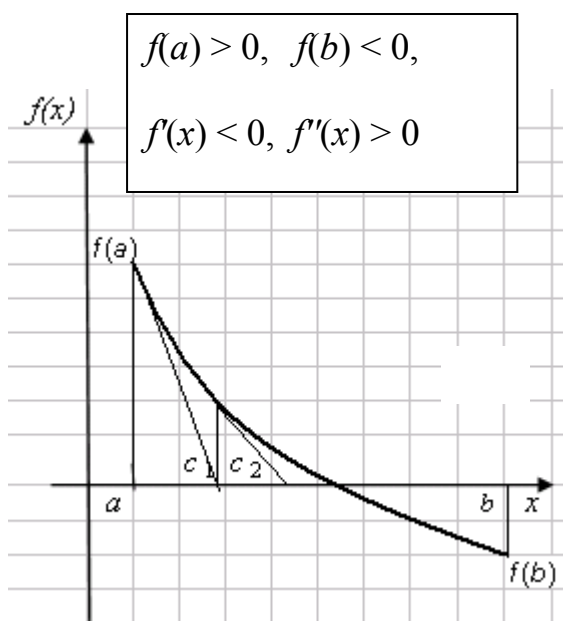


Рис. 8

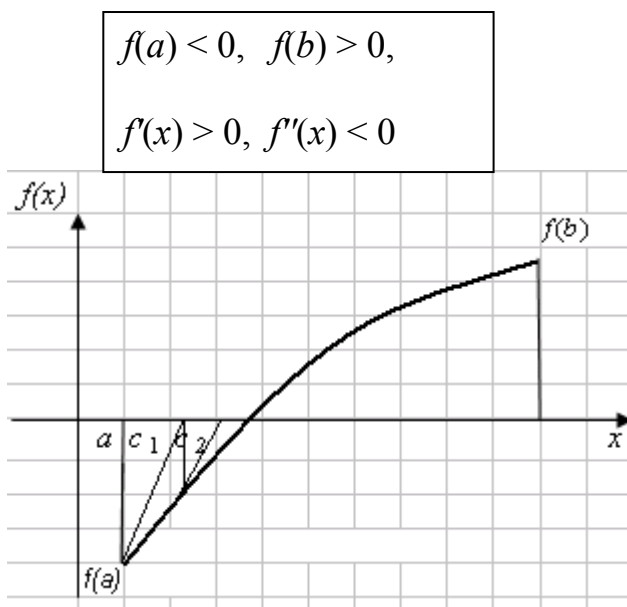


Рис. 9

Найдем значение $x = x_1$, для которого $y = 0$.

$$x_1 = a - \frac{f(a)}{f'(a)},$$

$$x_2 = x_1 - \frac{f(x_1)}{f'(x_1)},$$

или в общем виде

$$x_{n+1} = x_n - \frac{f(x_n)}{f'(x_n)}. \quad (4)$$

Процесс уточнения продолжается до тех пор, пока не будет получено приближенное значение корня с заданной точностью ε .

По формуле (4) корни вычисляются и для случая, когда $f(a) < 0$, $f(b) > 0$, $f'(x) > 0$, $f'(x) < 0$, т.е. функция монотонно-возрастающая, график функции – выпуклый вверх (рис. 9).

На основании полученных выражений можно сформулировать правило: за исходную точку следует выбирать тот конец отрезка, для которого знак функции совпадает со знаком второй производной. В первом случае $f(b) \cdot f''(x) > 0$, в качестве начального приближения берем точку $b = x_0$ и используем формулу (2); во втором случае $-f(a) \cdot f''(x) > 0$, в качестве начального приближения берем точку $a = x_0$ и используем формулу (4).

Пример (продолжение). □ Уточнить корни уравнения $f(x) = x^3 - 8x + 2$, отделенные на отрезках $[-3, -2]$, $[0, 1]$, $[2, 3]$ методом касательных с точностью $\varepsilon = 0,005$.

Решение.

1) Уточним корень уравнения $f(x) = x^3 - 8x + 2$, отделенный на отрезке $[-3, -2]$. $f(a) = f(-3) = -1$, $f(b) = f(-2) = 10$, $f'(x) > 0$, $f''(x) < 0$ (см. табл. 3 и рис. 9), поэтому в качестве начального приближения возьмем точку $a = -3$ и используем для вычислений формулы (3) и (4), вспомогательные вычисления выполним в таблице (табл. 4) или реализуем в таблице Excel (рис. 11, 11-а).

Таблица 4

a	x_1	x_2
-3	-2,947	-2,946
f(a)	$f(x_1)$	$f(x_2)$
-1	-0,025	0,000
f'(a)	$f'(x_1)$	$f'(x_2)$
19	18,061	

	A	B	C	D
8				
9		a	x ₁	x ₂
10		-3	-2,947	-2,946
11		f(a)	f(x ₁)	f(x ₂)
12		-1	-0,025	0,000
13		f'(a)	f'(x ₁)	f'(x ₂)
14		19	18,061	

Рис.11(режим решения)

	A	B	C	D
8				
9		a	x ₁	x ₂
10		=C3	=B10-B12/B14	=C10-C12/C14
11		f(a)	f(x ₁)	f(x ₂)
12		=B10^3-8*B10+2	=C10^3-8*C10+2	=D10^3-8*D10+2
13		f'(a)	f'(x ₁)	f'(x ₂)
14		=3*B10^2-8	=3*C10^2-8	

Рис. 11-а (режим формул)

$$f'(-3) = \frac{y - f(-3)}{x - (-3)}$$

$$x_1 = a - \frac{f(a)}{f'(a)} = -3 - \frac{-1}{19} = -2,947, \quad |-2,947 - (-3)| = 0,053;$$

$$0,053 > 0,005.$$

$$x_2 = x_1 - \frac{f(x_1)}{f'(x_1)} = -2,947 - \frac{-0,025}{18,061} = -2,946, \quad |-2,946 - (-2,947)| = 0,001;$$

$$0,001 < 0,005,$$

следовательно, $x = -2,946$ – первый искомый корень уравнения $f(x) = x^3 - 8x + 2$, вычисленный методом касательных с точностью $\varepsilon = 0,005$. ■

3. Порядок выполнения работы

Задание 1

1. Отделить корни уравнения контрольного задания аналитическим способом, реализовав вычисления, представленные в табл. 1 в Excel.
2. Отделить корни уравнения контрольного примера графическим способом, используя **Мастер функций** Excel (рис. 1).
3. Отделить корни уравнения контрольного примера графическим способом, уменьшив шаг изменения аргумента в два раза.
4. Отделить корни уравнения контрольного примера средствами Excel, используя табулирование функции на заданном интервале (табл. 3).

5. Отделить корни уравнения контрольного примера средствами Excel, используя табулирование функции на заданном интервале, уменьшив шаг табулирования в два раза.

6. Уточнить корни уравнения примера индивидуального задания на отделенных ранее интервалах

Лабораторная работа 3

Уточнение корней уравнения средствами Excel.

Решение системы уравнений в Excel.

1. Цель работы

Ознакомление с методами уточнения корней уравнения, используя команды **Подбор параметра** и **Поиск решения** Excel.

2. Основные сведения

В Excel используются численные методы для вычисления корней уравнения, заключающиеся в постепенном приближении приближенного решения к точному решению до достижения погрешности, не превышающей 0,0001 (1000 итераций). Найти корень можно, используя команды **Сервис – Подбор параметра** или **Сервис – Поиск решения**.

Пример. Уточнить корень уравнения $x^3 - 8x + 2 = 0$, отделенный на интервале $[-3, -2]$.

Решение.

1) Использование команды **Подбор параметра**.

□ Найдем корень уравнения отделенный на интервале $[-3, -2]$. За начальное приближение корня примем -3 – левый конец интервала, на котором отделен корень. Решение будем искать с помощью команды **Сервис – Подбор параметра**. Для решения уравнения построим таблицу. В ячейку B3 введем начальное приближение корня, а ячейку B4 – формулу (левую часть уравнения) (рис.1).

[-3, -2]

	A	B	C
1	Уточнение корня уравнения		
2			
3	x =	-3,00	
4	f(x) =	-1,00	

Рис. 1

Выполним команду **Сервис – Подбор параметра**. Появится диалоговое окно **Подбор параметра** (рис. 2).

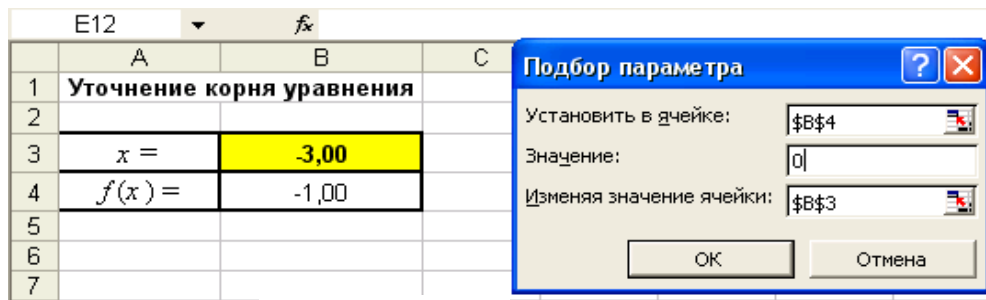


Рис. 2

Введем в поле **Установить в ячейке** адрес ячейки B4, в поле **Значение** – правую часть уравнения, т.е. 0, в поле **Изменяя значение** – номер ячейки B3. Нажмем **ОК**. Появится диалоговое окно **Результат подбора параметра** (рис. 3).

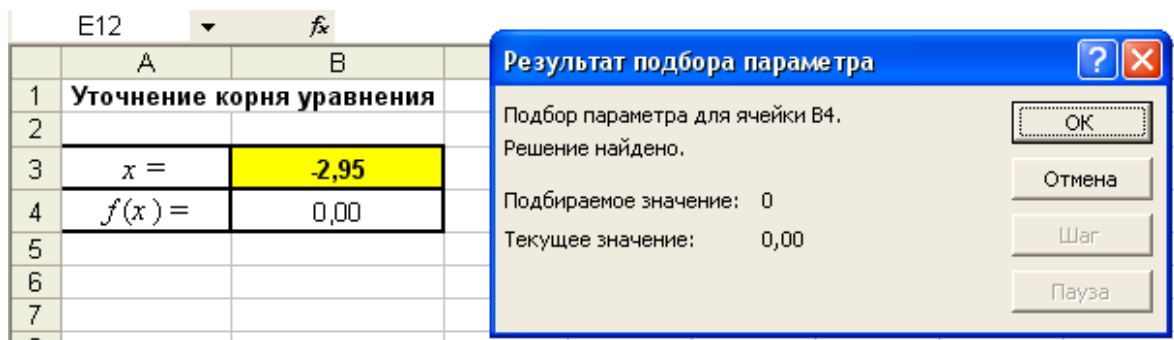


Рис. 3

Если найденное решение устраивает, следует нажать кнопку **ОК**, если нет – нажать кнопку **Отмена**. При этом произойдет возврат к исходным значениям. Нажмем кнопку **ОК**. В рассматриваемом примере найденное значение корня равняется -2,95.

Если за начальное приближение принять другой конец интервала, на котором отделен корень, т. е. -2, и снова решить задачу, выбрав команду **Сервис – Подбор параметра** (рис. 4), будем иметь тот же результат (рис. 3).

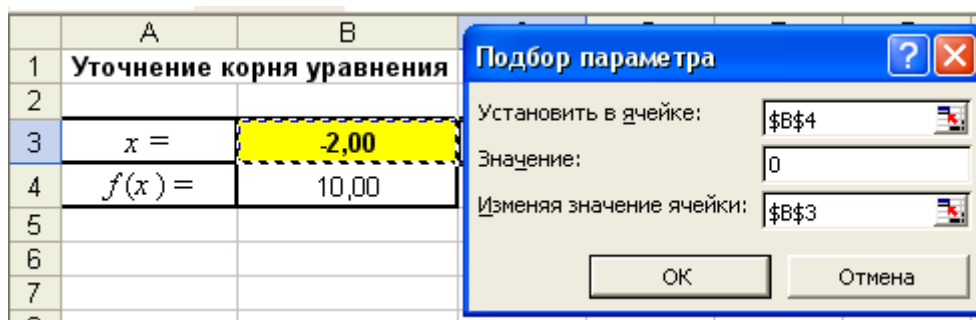


Рис. 4

2) Использование команды **Поиск решения**.

Построим таблицу, как показано на рис. 5. Введем в ячейку B4 формулу левой части уравнения. В ячейку B3 в качестве начального приближения корня введем значение левого конца интервала, т.е. -3 (можно правого). В ячейку B5 введем значение нижней границы интервала, а в ячейку B6 – значение верхней границы интервала.

B4		fx = B3^3-8*B3+2	
	A	B	
1	Уточнение корня уравнения		
2			
3	x =	-3,00	
4	f(x) =	-1,00	
5	Нижняя граница интервала	-3,00	
6	Верхняя граница интервала	-2,00	

Рис. 5

Выполним команду **Сервис – Поиск решения**. Появится диалоговое окно **Поиск решения** (рис. 6).

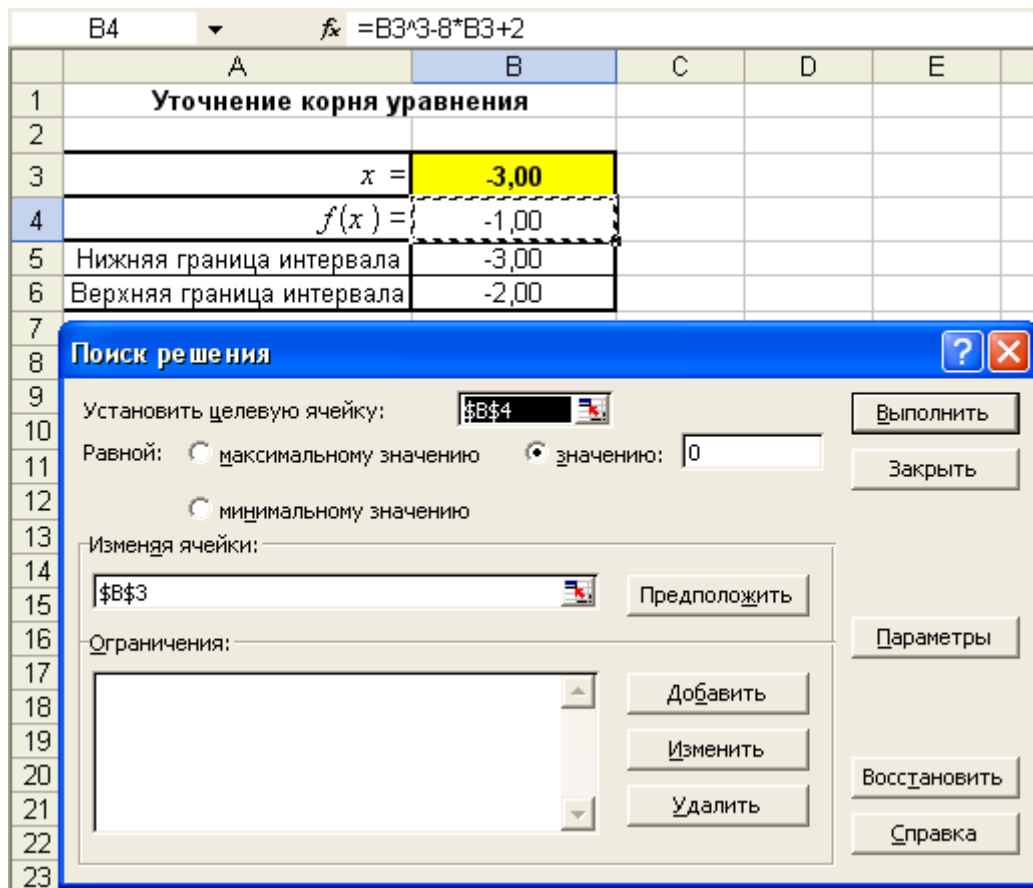


Рис. 6

В поле **Установить целевую ячейку** введем B4. Установим переключатель **Равной** в положение **значению 0**. В поле **Изменяя ячейки** введем имя B3.

В поле **Ограничения** введем: $B3 > B5$, $B3 < B6$ (рис. 7). Нажмем кнопку **Выполнить**. Получим решение (Рис. 8).

Как видно, значение корня, полученное при использовании команд **Подбор параметра** и **Поиск решения**, совпадают. ■

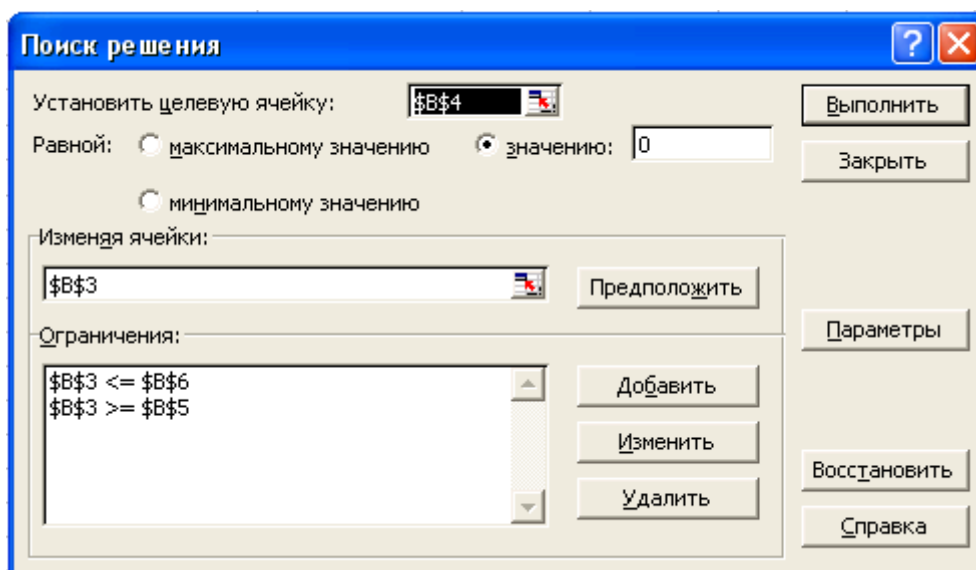


Рис. 7

	А	В
1	Уточнение корня уравнения	
2		
3	$x =$	-2,95
4	$f(x) =$	0,00
5	Нижняя граница интервала	-3,00
6	Верхняя граница интервала	-2,00

Рис. 8

Пример. Решить систему уравнений $\begin{cases} 4x_1 + 2x_2 = 7,9 \\ 2x_1 + 6x_2 = 3,5 \end{cases}$, используя команду **Поиск решения**.

Решение.

□ Построим таблицу, представленную на рис. 9, 9-а. Введем в нее коэффициенты данной системы уравнений, левые и правые части. Отведем ячейки А8:В8 для хранения корней уравнения.

	А	В	С	Д
1	Решение системы уравнений			
2	Коэффициенты при:			
3	X1	X2	Левая часть	Правая часть
4	4	2	0,00	7,90
5	2	6	0,00	3,50
6	Корни:			
7	X1	X2		
8	0	0		

Режим решения

Рис. 9

	А	В	С	Д
1	Решение с			
2	Коэффициенты при:			
3	X1	X2	Левая часть	Правая часть
4	4	2	=СУММПРОИЗВ(А4:В4; \$А\$8: \$В\$8)	7,9
5	2	6	=СУММПРОИЗВ(А5:В5; \$А\$8: \$В\$8)	3,5
6	Корни:			
7	X1	X2		
8	0	0		

Режим формул

Рис. 9-а

Выполним команду **Сервис – Поиск решения**. Введем в поле **Изменяя ячейки** диалогового окна **Поиск решения** блок ячеек А8:В8, в поле **Ограничения** – С4:С5 = Д4:Д5 (рис. 10). Нажмем кнопку **Выполнить**.

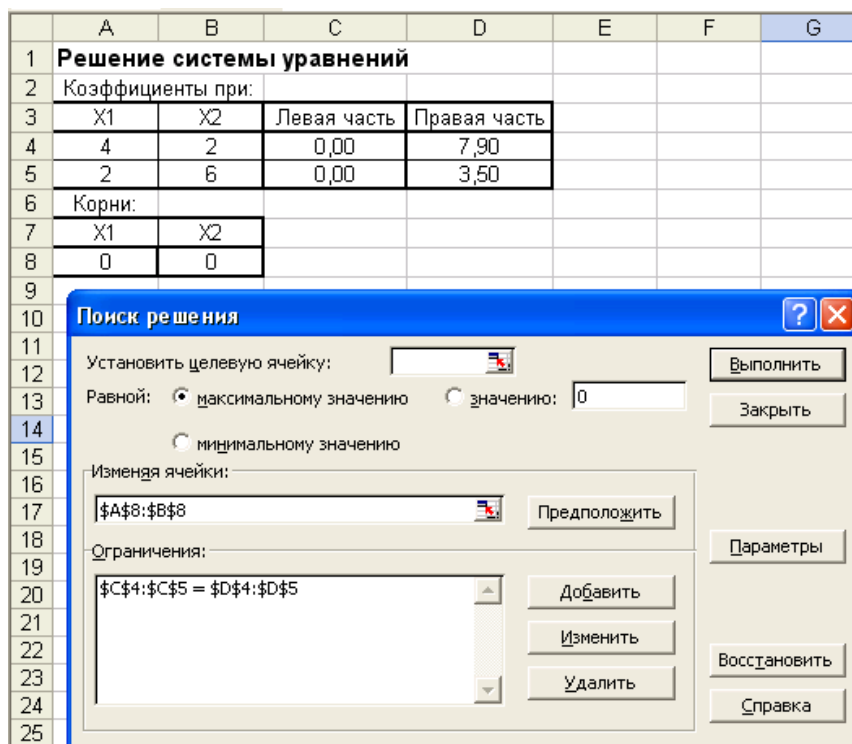


Рис. 10

В ячейках A8:B8 получим значения корней: $x_1 = 2,02$; $x_2 = -0,09$ (рис. 11).■

	A	B	C	D
1	Решение системы уравнений			
2	Коэффициенты при:			
3	X1	X2	Левая часть	Правая часть
4	4	2	7,90	7,90
5	2	6	3,50	3,50
6	Корни:			
7	X1	X2		
8	2,02	-0,09		

Рис. 11

3. Порядок выполнения работы

Задания

1. Уточнить корни уравнения индивидуального задания на отдельных ранее интервалах, используя команды **Подбор параметра** и **Поиск решения**.

Лабораторная работа 4

Приближенное интегрирование функций с заданным шагом

1. Цель работы

Изучение способов приближенного интегрирования функций с заданным шагом.

2. Основные теоретические положения

Обычный прием приближенного интегрирования состоит в том, что подынтегральную функцию $f(x)$ на рассматриваемом отрезке $[a, b]$ заменяют полиномом $F(x)$, а затем приближенно полагают, что

$$\int_a^b f(x)dx = \int_a^b F(x)dx. \quad (1)$$

Основу алгоритмов вычисления определенного интеграла

$$I = \int_a^b f(x)dx$$

составляет геометрический смысл его значения как площади криволинейной трапеции, ограниченной подынтегральной кривой $f(x)$, осью абсцисс и ординатами $f(a)$ и $f(b)$. Для вычисления площади интервал интегрирования $[a, b]$ разбивают на подынтервалы и строят на них или прямоугольники, или трапеции, или параболы, вычисляют площади этих фигур, а затем суммируют. Наиболее удобным оказывается разбиение на подынтервалы равной длины h , которые называются шагом интегрирования.

Широко известными методами, используемыми для приближенных расчетов, являются методы прямоугольников, трапеций, парабол.

2.1. Метод прямоугольников

Для получения формулы прямоугольников интервал интегрирования $[a, b]$ разбивается на n подынтервалов равной длины (шагов) точками: $x_0 = a, x_1, x_2, \dots, x_i, x_{i+1}, \dots, x_n = b$ так, что

$$x_{i+1} - x_i = h = \frac{b - a}{n}, \quad i = 1, 2, \dots, n. \quad (2)$$

На этих подынтервалах строятся прямоугольники, высота их определяется значением функции $f(x)$ в какой либо точке подынтервала. Если $f(x_i)$ определяется для левой границы каждого подынтервала (рис. 2.1), то формула прямоугольников имеет следующий вид:

$$I_1 = \int_a^b f(x)dx \approx \frac{b-a}{n} \sum_{i=0}^{n-1} f(x_i) \quad (3)$$

и называется **формулой левых прямоугольников**.

Если $f(x_i)$ определяется для правой границы каждого подынтервала (рис. 2), то

$$I_2 = \int_a^b f(x)dx \approx \frac{b-a}{n} \sum_{i=1}^n f(x_i) \quad (4)$$

и называется **формулой правых прямоугольников**.

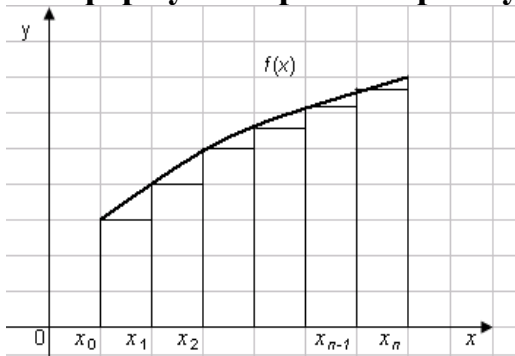


Рис. 1

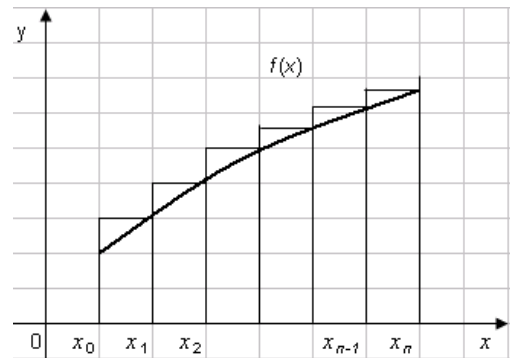


Рис. 2

Если функция монотонна на отрезке $[a, b]$, то в одном случае получается значение интеграла I с недостатком I_1 , а в другом – с избытком I_2 . Более точное значение I получают при усреднении величин:

$$I = \frac{I_1 + I_2}{2}. \quad (5)$$

Если $f(x_i)$ определяется для середины каждого подынтервала, то формула прямоугольников имеет следующий вид:

$$I_3 = \int_a^b f(x)dx \approx \frac{b-a}{n} \sum_{i=1}^n f\left(\frac{x_{i-1} + x_i}{2}\right). \quad (6)$$

и называется **формулой средних прямоугольников**.

Точность интегрирования для этих методов приближенно равняется $\varepsilon \approx h$.

Пример.

С помощью формул левых, правых и средних прямоугольников вычислить

$$\int_0^1 (3x^2 - 4x)dx, \text{ если } h = 0,2.$$

Точное решение: $\int_0^1 (3x^2 - 4x)dx = x^3 - 2x^2 \Big|_0^1 = -1.$

□Вычисление интеграла $\int_0^1 (3x^2 - 4x)dx$ методом прямоугольников выполним в таблице Excel (рис. 3, 3-а).

Значения интервала интегрирования [0, 1] соответственно поместить в ячейки В3 и F3. Интервал интегрирования разобьем на 5 подынтервалов ($n = 5$). Введем значение n в ячейку В2. Шаг интегрирования вычислим в ячейке F2 по формуле

$$h = \frac{b-a}{n} \rightarrow h = \frac{1-0}{5} = 0,2.$$

	А	В	С	Д	Е	Ф	Г	Н
1								
2	n=	5						
3	a=	0	b=	1	h=	0,2		
4	формула левых прямоугольников			формула правых прямоугольников			формула средних прямоугольников	
5	<i>i-1</i>	x_{i-1}	$f(x_i)$	<i>i</i>	x_i	$f(x_i)$	$(x_{i-1} + x_i)/2$	$f((x_{i-1} + x_i)/2)$
6	0	0	0	1	0,2	-0,68	0,1	-0,37
7	1	0,2	-0,68	2	0,4	-1,12	0,3	-0,93
8	2	0,4	-1,12	3	0,6	-1,32	0,5	-1,25
9	3	0,6	-1,32	4	0,8	-1,28	0,7	-1,33
10	4	0,8	-1,28	5	1	-1	0,9	-1,17
11		∑	-4,4		∑	-5,4	∑	-5,05
12		∫	-0,88		∫	-1,08	∫	-1,01

Рис. 3 (Режим решения)

	А	В	С	Д	Е	Ф	Г	Н
1								
2	n=	5						
3	a=	0	b=	1	h=	=(D3-B3)/B2		
4	формула левых прямоугольников			формула правых прямоугольников			формула средних прямоугольников	
5	<i>i-1</i>	x_{i-1}	$f(x_i)$	<i>i</i>	x_i	$f(x_i)$	$(x_{i-1} + x_i)/2$	$f((x_{i-1} + x_i)/2)$
6	0	=B3	=3*B6^2-4*B6	1	=B3+\$F\$3	=3*E6^2-4*E6	=(B6+E6)/2	=3*G6^2-4*G6
7	1	=B6+\$F\$3	=3*B7^2-4*B7	2	=E6+\$F\$3	=3*E7^2-4*E7	=(B7+E7)/2	=3*G7^2-4*G7
8	2	=B7+\$F\$3	=3*B8^2-4*B8	3	=E7+\$F\$3	=3*E8^2-4*E8	=(B8+E8)/2	=3*G8^2-4*G8
9	3	=B8+\$F\$3	=3*B9^2-4*B9	4	=E8+\$F\$3	=3*E9^2-4*E9	=(B9+E9)/2	=3*G9^2-4*G9
10	4	=B9+\$F\$3	=3*B10^2-4*B10	5	=E9+\$F\$3	=3*E10^2-4*E10	=(B10+E10)/2	=3*G10^2-4*G10
11		∑	=СУММ(C6:C10)		∑	=СУММ(F6:F10)	∑	=СУММ(H6:H10)
12		∫	=\$F\$3*C11		∫	=\$F\$3*F11	∫	=\$F\$3*H11

Режим показа формул

Рис. 3 - а

I) Для приближенного вычисления интеграла по формуле левых прямоугольников (3) требуется вычислить значения функции $f(x) = 3x^2 - 4x$ в точках (2):

$$\begin{aligned}x_0 &= a = 0; \\x_1 &= x_0 + h = 0 + 0,2 = 0,2; \\x_2 &= x_1 + h = 0,2 + 0,2 = 0,4; \\x_3 &= x_2 + h = 0,4 + 0,2 = 0,6; \\x_4 &= x_3 + h = 0,6 + 0,2 = 0,8.\end{aligned}$$

Вычисление значений x_0, x_1, x_2, x_3, x_4 , представлено в блоке ячеек B6:B10, а соответствующие им значения функции – в блоке ячеек C6:C10.

Затем следует вычислить их сумму (в ячейке C11) и полученное значение умножить на шаг интегрирования h (в ячейке C12):

$$\Sigma = 0 - 0,68 - 1,12 - 1,32 - 1,28 = -4,4$$

$$I = 0,2 \cdot (-0,44) = -0,88.$$

II) Для приближенного вычисления интеграла по формуле правых прямоугольников (4) требуется вычислить значения функции $f(x) = 3x^2 - 4x$ в точках:

$$\begin{aligned}x_1 &= x_0 + h = 0 + 0,2 = 0,2; \\x_2 &= x_1 + h = 0,2 + 0,2 = 0,4; \\x_3 &= x_2 + h = 0,4 + 0,2 = 0,6; \\x_4 &= x_3 + h = 0,6 + 0,2 = 0,8. \\x_5 &= x_4 + h = 0,8 + 0,2 = 1,0.\end{aligned}$$

Вычисление значений x_1, x_2, x_3, x_4, x_5 представлено в блоке ячеек E6:E10, а соответствующие им значения функции – в блоке ячеек F6:F10.

Затем следует вычислить их сумму (в ячейке F11) и полученное значение умножить на шаг интегрирования h (в ячейке F12):

Приближенное значение интеграла, вычисленное по формуле левых прямоугольников равно -0,88, а по формуле правых прямоугольников равно -1,08.

Их среднее значение ближе к точному, равному -1.

$$\frac{I_1 + I_2}{2} = \frac{-0,88 - 1,08}{2} = -0,98$$

III) Для приближенного вычисления интеграла по формуле средних прямоугольников (5) требуется вычислить значения функции $f(x) = 3x^2 - 4x$ в точках:

$(x_{i-1} + x_i)/2$ (блок ячеек G6:H12), их сумму (ячейка H11), полученное значение умножить на шаг интегрирования h (ячейка H12).

Разбивая интервал интегрирования на большее число отрезков, например, на 10, можно получить более точное решение (рис. 4).■

	A	B	C	D	E	F	G	H
1								
2	n=	10						
3	a=	0	b=	1	h=	0,1		
4	формула левых прямоугольников			формула правых прямоугольников			формула средних прямоугольников	
5	$i-1$	x_{i-1}	$f(x_i)$	i	x_i	$f(x_i)$	$(x_{i-1}+x_i)/2$	$f((x_{i-1}+x_i)/2)$
6	0	0	0	1	0,1	-0,37	0,05	-0,19
7	1	0,1	-0,37	2	0,2	-0,68	0,15	-0,53
8	2	0,2	-0,68	3	0,3	-0,93	0,25	-0,81
9	3	0,3	-0,93	4	0,4	-1,12	0,35	-1,03
10	4	0,4	-1,12	5	0,5	-1,25	0,45	-1,19
11	5	0,5	-1,25	6	0,6	-1,32	0,55	-1,29
12	6	0,6	-1,32	7	0,7	-1,33	0,65	-1,33
13	7	0,7	-1,33	8	0,8	-1,28	0,75	-1,31
14	8	0,8	-1,28	9	0,9	-1,17	0,85	-1,23
15	9	0,9	-1,17	10	1	-1	0,95	-1,09
16								
17		Σ	-9,45		Σ	-10,45	Σ	-10,03
18		∫	-0,95		∫	-1,05	∫	-1,00
19								
20			$I_1+I_2=$	-1				

Рис. 4

2.2. Метод трапеций

Для получения формулы трапеций интервал интегрирования $[a, b]$ разбивается на n подынтервалов равной длины (шагов) точками: $x_0 = a, x_1, x_2, \dots, x_i, x_{i+1}, \dots, x_n = b$ так, что

$$x_{i+1} - x_i = h = \frac{b - a}{n}, \quad i = 1, 2, \dots, n.$$

На каждом отрезке (x_i, x_{i+1}) дугу $X_i X_{i+1}$ графика подынтегральной функции $y = f(x)$ заменяют стягивающей ее хордой (рис. 2.5) и вычисляют площади трапеций $x_i X_i X_{i+1} x_{i+1}$, высота которых равна h , а основания определяются значением функции $f(x_i), f(x_{i+1})$.

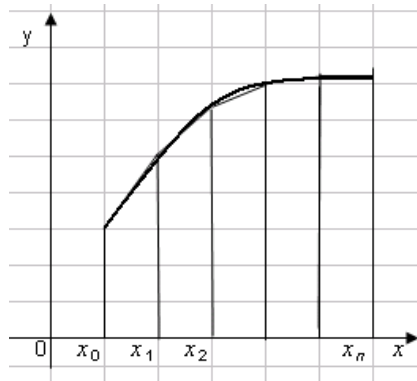


Рис. 2.5

Так как площадь трапеции равняется полусумме оснований, умноженной на высоту, интеграл приближенно равен сумме площадей всех полученных трапеций:

$$\begin{aligned}
 I &\approx \sum_{i=0}^{n-1} \frac{f(x_i) + f(x_{i+1})}{2} (x_{i+1} - x_i) = \\
 &= \frac{f(x_0) + f(x_1)}{2} h + \frac{f(x_1) + f(x_2)}{2} h + \dots + \frac{f(x_{n-1}) + f(x_n)}{2} h = \\
 &= \frac{h}{2} [f(x_0) + 2f(x_1) + 2f(x_2) + \dots + 2f(x_{n-1}) + f(x_n)] = \\
 &= \frac{h}{2} [f(x_a) + 2f(x_1) + 2f(x_2) + \dots + 2f(x_{n-1}) + f(x_b)] = \\
 &= \frac{h}{2} [f(x_a) + f(x_b) + 2 \sum_{i=1}^{n-1} f(x_i)]. \tag{7}
 \end{aligned}$$

Таким образом, **формула трапеций** имеет вид:

$$I = \int_a^b f(x) dx \approx \frac{h}{2} \left[f(a) + f(b) + 2 \sum_{i=1}^{n-1} f(x_i) \right]. \tag{8}$$

Точность интегрирования для этого метода приближенно равняется $\varepsilon \approx h^2$.

Пример (продолжение). □ Пользуясь формулой трапеций, вычислить

$$\int_0^1 (3x^2 - 4x) dx \text{ при } h = 0,2.$$

Решение. Вычисление интеграла $\int_0^1 (3x^2 - 4x) dx$ методом трапеций (8) выполним в таблице Excel (рис. 6, 6-а).

	A	B	C	D	E	F
1						
2	$n =$	5				
3	$a =$	0	$b =$	1	$h =$	0,2
4	формула трапеций				$h/2 =$	0,1
5	i	x_{i-1}	$f(x_i)$			
6	0	0	0	$f(a)$		
7	1	0,2	-0,68			
8	2	0,4	-1,12			
9	3	0,6	-1,32			
10	4	0,8	-1,28			
11	5	1	-1	$f(b)$		
12		Σ	-4,4			
13		\int	-0,98			

Режим решения

Рис. 6

$$\Sigma = -0,68 - 1,12 - 1,32 - 1,28 = -4,4 \quad I = 0,1 \cdot [(0-1) - 2 \cdot 4,4] = -0,98$$

	A	B	C	D	E	F
1						
2	$n =$	5				
3	$a =$	0	$b =$	1	$h =$	$=(D3-B3)/B2$
4	формула трапеций				$h/2 =$	$=F3/2$
5	i	x_{i-1}	$f(x_i)$			
6	0	$=B3$	$=3*B6^2-4*B6$	$f(a)$		
7	1	$=B6+\$F\3	$=3*B7^2-4*B7$			
8	2	$=B7+\$F\3	$=3*B8^2-4*B8$			
9	3	$=B8+\$F\3	$=3*B9^2-4*B9$			
10	4	$=B9+\$F\3	$=3*B10^2-4*B10$			
11	5	$=B10+\$F\3	$=3*B11^2-4*B11$	$f(b)$		
12		Σ	$=СУММ(C7:C10)$			
13		\int	$=F4*(C6+C11+2*C12)$			

Режим показа формул

Рис. 6 - а

Разбивая интервал интегрирования на большее число отрезков, например, на 10, можно получить более точное решение (рис. 7).

	A	B	C	D	E	F
1						
2	$n =$	10				
3	$a =$	0	$b =$	1	$h =$	0,1
4	формула трапеций				$h/2 =$	0,05
5	i	x_{i-1}	$f(x_i)$			
6	0	0	0	$f(a)$		
7	1	0,1	-0,37			
8	2	0,2	-0,68			
9	3	0,3	-0,93			
10	4	0,4	-1,12			
11	5	0,5	-1,25			
12	6	0,6	-1,32			
13	7	0,7	-1,33			
14	8	0,8	-1,28			
15	9	0,9	-1,17			
16	10	1	-1	$f(b)$		
17		Σ	-9,45			
18		\int	-1,00			

Рис. 7

$$\Sigma = -0,37 - 0,68 - 0,93 - 1,12 - 1,25 - 1,32 - 1,33 - 1,28 - 1,17 = -9,45$$

$$I = 0,05 \cdot [(0 - 1) + 2 \cdot (-9,45)] = -1,00 \blacksquare$$

2.3. Метод парабол (Симпсона)

Для получения формулы парабол функция $f(x)$ на интервале (x_i, x_{i+1}) заменяется параболой, проходящей через три точки кривой с абсциссами

$$x_i, (x_i + x_{i+1})/2, x_{i+1} \text{ (или } x_i, x_i+h, x_i+2h \text{) (рис. 2.8).}$$

Весь интервал интегрирования при этом разбивается на четное число отрезков ($n = 2m$).

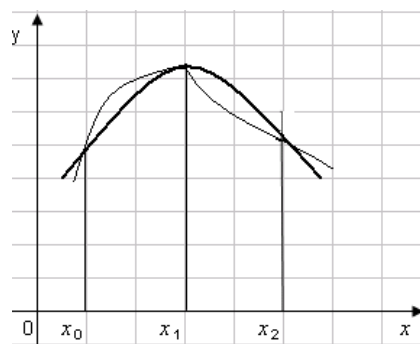


Рис. 8

Формула парабол имеет вид:

$$I = \int_a^b f(x)dx \approx \frac{h}{3} [f(a) + f(b) + 4 \cdot \{f(x_1) + f(x_3) + \dots + f(x_{n-1})\} + 2 \cdot \{f(x_2) + f(x_4) + \dots + f(x_{n-2})\}]. \quad (9)$$

Пример. □ Пользуясь формулой парабол, вычислить $\int_0^1 (3x^2 - 4x)dx$ при $n = 10$.

Решение.

$h = \frac{b-a}{n} = \frac{1-0}{10} = 0,1$. Вычисление интеграла $\int_0^1 (3x^2 - 4x)dx$ выполним в таблице Excel (рис. 9, 9-а).

	A	B	C	D	E	F
1						
2	n =	10				
3	a =	0	b =	1	h =	0,1
4	формула парабол				h/3 =	0,03
5	i	x_{i-1}	f(xi)			
6	0	0	0	f(a)		
7	1	0,1	-0,37		Σ₁	-5,05
8	2	0,2	-0,68		Σ₂	-4,40
9	3	0,3	-0,93			
10	4	0,4	-1,12		Σ	-30,00
11	5	0,5	-1,25		∫	-1,00
12	6	0,6	-1,32			
13	7	0,7	-1,33			
14	8	0,8	-1,28			
15	9	0,9	-1,17			
16	10	1	-1	f(b)		

Режим решения

Рис. 9

$$\Sigma_1 = -0,37 - 0,93 - 1,25 - 1,32 - 1,17 = -5,05 \quad \Sigma_2 = -0,68 - 1,12 - 1,32 - 1,28 = -4,4$$

$$\Sigma = (0 - 1) + 4 \cdot (-5,05) + 2 \cdot (-4,4) = -30,00 \quad \int = 0,033 \cdot (-30) = 1. \blacksquare$$

	A	B	C	D	E	F
1						
2	$n =$	10				
3	$a =$	0	$b =$	1	$h =$	$=(D3-B3)/B2$
4	формула парабол				$h/3 =$	$=F3/3$
5	i	x_{i-1}	$f(x_i)$			
6	0	$=B3$	$=3*B6^2-4*B6$	$f(a)$		
7	1	$=B6+FF\$3$	$=3*B7^2-4*B7$		Σ_1	$=C7+C9+C11+C13+C15$
8	2	$=B7+FF\$3$	$=3*B8^2-4*B8$		Σ_2	$=C8+C10+C12+C14$
9	3	$=B8+FF\$3$	$=3*B9^2-4*B9$			
10	4	$=B9+FF\$3$	$=3*B10^2-4*B10$		Σ	$=C6+C16+F7*4+F8*2$
11	5	$=B10+FF\$3$	$=3*B11^2-4*B11$		\int	$=F10*F4$
12	6	$=B11+FF\$3$	$=3*B12^2-4*B12$			
13	7	$=B12+FF\$3$	$=3*B13^2-4*B13$			
14	8	$=B13+FF\$3$	$=3*B14^2-4*B14$			
15	9	$=B14+FF\$3$	$=3*B15^2-4*B15$			
16	10	$=B15+FF\$3$	$=3*B16^2-4*B16$	$f(b)$		

Режим формул

Рис. 9 - а

3. Порядок выполнения работы

1. Вычислить интеграл индивидуального задания всеми описанными методами в Excel с числом шагов, равным 5. При реализации решения в Excel увеличить число шагов в два раза, в три раза. Сравнить результаты вычислений, полученные при использовании данных методов с точным решением.

Лабораторная работа 5

Решение дифференциальных уравнений методом Эйлера

1. Цель работы

Изучение метода Эйлера для интегрирования дифференциальных уравнений.

2. Основные теоретические положения

Решить дифференциальное уравнение $y' = f(x, y)$ численным методом – значит для заданной последовательности аргументов x_0, x_1, \dots, x_n и числа y_0 , не определяя функцию $y = F(x)$, найти такие значения y_1, y_2, \dots, y_n , что $y_i = F(x_i)$ ($i = 1, 2, \dots, n$) и $F(x_0) = y_0$. Другими словами, численные методы позволяют вместо нахождения функции $y = F(x)$, получить таблицу значений этой функции для

заданной последовательности аргументов. Величина $h = x_k - x_{k-1}$ называется шагом интегрирования.

Для решения данной задачи используются различные численные методы, среди которых наиболее простым является метод Эйлера.

Пусть дано дифференциальное уравнение первого порядка

$$y' = f(x, y) \quad (1)$$

с начальными условиями

$$x = x_0, \quad y(x_0) = y_0.$$

Требуется найти решение уравнения (1) на отрезке $[a, b]$.

Разобьем отрезок $[a, b]$ на n равных частей и получим последовательность x_0, x_1, \dots, x_n , где $x_i = x_0 + i \cdot h$ ($i = 1, 2, \dots, n$), а $h = (b - a)/n$ – шаг сетки. Величина $h = \Delta x_m = x_{m+1} - x_i$ обычно выбирается постоянной и достаточно малой. При численном решении задачи вычисляются приближенные значения $y_i(x_i) \approx y_i$ в узлах сетки x_i ($i = 1, 2, \dots, n$).

Идея метода состоит в том, что при малом шаге сетки h производная искомой функции $y'(x_i)$ может быть приближенно заменена конечными разностями

$$y'(x_i) \approx \frac{\Delta y_i}{\Delta x_i} = \frac{y_{i+1} - y_i}{h}, \quad (2)$$

где y_i – значение функции в узле x_i .

Тогда $y'(x_i) \cdot h = y_{i+1} - y_i$, откуда $y_{i+1} = y_i + y'(x_i) \cdot h$, а, так как $y'(x_i) = f(x_i, y_i)$, то

$$y_{i+1} = y_i + h \cdot f(x_i, y_i). \quad (3)$$

Т.е. на каждом отрезке $[x_i, x_{i+1}]$ выражение (1) можно заменить приближенным выражением (3).

Зная начальное значение y_0 , и используя соотношение (3), можно последовательно от узла x_i к узлу x_{i+1} определить все искомые значения y_{i+1} .

На практике, как правило, применяют «двойной просчет». Сначала расчет ведется с шагом h , затем шаг дробят и повторный расчет ведется с шагом $h/2$ и

т.д.

Для достижения требуемой точности ε численного решения необходимо выполнение условия: $|y_{2n} - y_n| < \varepsilon$.

Пример 1. Используя метод Эйлера, составить на отрезке $[0, 1]$ таблицу значений решения дифференциального уравнения

$$y' = y - \frac{2x}{y}$$

с начальными условиями $x_0 = 0$, $y_0 = 1$, выбрав шаг $h = 0,2$.

□Решение.

Результаты вычислений представим в таблице Excel (рис.1). Заполняется она следующим образом:

1) В первую строку, соответствующую значению $i = 0$, запишем начальные условия: $x_0 = 0$, $y_0 = 1$. По ним вычислим значение $f(x_0, y_0)$:

$$f(x_0, y_0) = y_0 - \frac{2x_0}{y_0} = 1 - \frac{2 \cdot 0}{1} = 1,$$

а затем значение Δy_0 . Из (2) и (1) имеем

$$\Delta y_0 = y'(x_0) \cdot \Delta x_0 = y'(x_0) \cdot h = f(x_0, y_0) \cdot h,$$

следовательно, $\Delta y_0 = h \cdot f(x_0, y_0) = 0,2 \cdot 1 = 0,2$. Отсюда по формуле (3) для $i = 0$ получим

$$y_1 = y_0 + h \cdot f(x_0, y_0) = y_0 + \Delta y_0 = 1 + 0,2 = 1,2.$$

2) Значение $x_1 = x_0 + h = 0 + 0,2 = 0,2$ и соответствующее ему значение $y_1 = 1,2$ запишем во вторую строку таблицы, соответствующую $i = 1$.

Для $x_1 = 0,2$ и $y_1 = 1,2$ вычислим $f(x_1, y_1)$.

$$f(x_1, y_1) = y_1 - \frac{2x_1}{y_1} = 1,2 - \frac{2 \cdot 0,2}{1,2} = 1,2 - 0,3333 = 0,8667.$$

Затем вычислим $\Delta y_1 = h \cdot f(x_1, y_1) = 0,2 \cdot 0,8667 = 0,1733$.

Тогда по формуле (3) для $i = 1$ получим

$$y_2 = y_1 + h \cdot f(x_1, y_1) = y_1 + \Delta y_1 = 1,2 + 0,1733 = 1,3733.$$

3) Значения $x_2 = x_1 + h = 0,2 + 0,2 = 0,4$ и соответствующее ему значение $y_2 = 1,3733$ запишем в третью строку таблицы ($i = 2$).

Аналогично следует выполнить вычисления для $i = 2, 3, 4, 5$ (см. рис. 1).■

	A	B	C	D	E	F
1	a= 0		b= 1		h= 0,2	
2	i	x_i	y_i	f(x_i,y_i)		Δy_i=f(x_i,y_i)·h
3				2x_i/y_i	y_i - 2x_i/y_i	
4	0	0	1	0,0000	1,0000	0,2000
5	1	0,2	1,2000	0,3333	0,8667	0,1733
6	2	0,4	1,3733	0,5825	0,7908	0,1582
7	3	0,6	1,5315	0,7835	0,7479	0,1496
8	4	0,8	1,6811	0,9518	0,7293	0,1459
9	5	1	1,8269			

Режим формул

	A	B	C	D	E	F
1	a= 0		b= 1		h= 0,2	
2	i	x_i	y_i	f(x_i,y_i)		Δy_i=f(x_i,y_i)·h
3				2x_i/y_i	y_i - 2x_i/y_i	
4	0	=B1	1	=2*B4/C4	=C4-D4	=\$F\$1*E4
5	1	=B4+\$F\$1	=C4+F4	=2*B5/C5	=C5-D5	=\$F\$1*E5
6	2	=B5+\$F\$1	=C5+F5	=2*B6/C6	=C6-D6	=\$F\$1*E6
7	3	=B6+\$F\$1	=C6+F6	=2*B7/C7	=C7-D7	=\$F\$1*E7
8	4	=B7+\$F\$1	=C7+F7	=2*B8/C8	=C8-D8	=\$F\$1*E8
9	5	=B8+\$F\$1	=C8+F8			

Режим решения

Рис. 1

Метод Эйлера легко распространяется на решение дифференциальных уравнений высших порядков. Для этого такое дифференциальное уравнение надо предварительно привести к дифференциальному уравнению первого порядка.

Пусть дано дифференциальное уравнение

$$y'' = f(x, y, y') \quad (4)$$

с начальными условиями

$$x = x_0, \quad y(x_0) = y_0, \quad y'(x_0) = y'_0.$$

Требуется найти решение уравнения (4) на отрезке $[a, b]$.

С помощью подстановки $y' = z$, $y'' = z'$ заменим уравнение (4) системой уравнений

$$\begin{cases} y' = z \\ z' = f(x, y, z) \end{cases} \quad \text{и} \quad \begin{cases} y(x_0) = y_0 \\ z(x_0) = z_0 = y'_0 \end{cases} \quad (5)$$

Таким образом, $f_1(x, y, z) = z$, $f_2(x, y, z) = f(x, y, z)$ и задачу можно записать в общем виде:

$$\begin{cases} y' = f_1(x, y, z) \\ z' = f_2(x, y, z) \end{cases} \quad \text{и} \quad \begin{cases} y(x_0) = y_0 \\ z(x_0) = z_0 \end{cases} \quad (6)$$

Аналогично можно свести к системе дифференциальных уравнений и уравнения более высокого порядка.

Пример 2. Используя метод Эйлера, составить на отрезке $[1; 1,5]$ таблицу значений решения дифференциального уравнения

$$y'' + \frac{y'}{x} + y = 0 \quad (7)$$

с начальными условиями $y = 0,77$, $y' = -0,44$ и выбрав шаг $h = 0,1$.

□Решение. С помощью подстановки $y' = z$, $y'' = z'$ заменим уравнение (7) системой уравнений

$$y' = z, \quad z' = -\frac{z}{x} - y$$

с начальными условиями $y_0(1) = 0,77$ и $z_0 = -0,44$.

Таким образом,

$$f_1(x, y, z) = z, \quad f_2(x, y, z) = -\frac{z}{x} - y.$$

Результаты вычислений по формулам (6) запишем в таблице Excel (рис. 2). Заполняется она следующим образом:

в первую строку $i = 0$ запишем начальные условия: $x_0 = 1,0$, $y_0 = 0,77$, $z_0 = -0,44$.

Используя их, вычислим

$$f_{10}(x_0, y_0, z_0) = z_0 = -0,44,$$

$$f_{20}(x_0, y_0, z_0) = -\frac{z_0}{x_0} - y_0 = -\frac{-0,44}{1,0} - 0,77 = -0,33,$$

а затем

$$\Delta y_0 = h \cdot f_{10} = 0,1 \cdot (-0,44) = -0,044, \quad y_1 = y_0 + \Delta y_1 = 0,77 + (-0,044) = 0,726,$$

$$\Delta z_0 = h \cdot f_{20} = 0,1 \cdot (-0,33) = -0,033, \quad z_1 = z_0 + \Delta z_1 = -0,44 + (-0,033) = -0,473.$$

Таким образом, во вторую строку таблицы, соответствующую $i = 1$, можно записать:

$$y_1 = 0,726, \quad z_1 = -0,473.$$

По этим значениям можно вычислить

$$f_{11}(x_1, y_1, z_1) = z_1 = -0,473,$$

$$f_{21}(x_1, y_1, z_1) = -\frac{z_1}{x_1} - y_1 = -\frac{-0,473}{1,1} - 0,726 = -0,296,$$

а затем

$$\Delta y_1 = h \cdot f_{11} = 0,1 \cdot (-0,473) = -0,047, \quad y_2 = y_1 + \Delta y_1 = 0,726 + (-0,047) = 0,679,$$

$$\Delta z_1 = h \cdot f_{21} = 0,1 \cdot (-0,296) = -0,030, \quad z_2 = z_1 + \Delta z_1 = -0,473 + (-0,030) = -0,503.$$

Аналогично следует выполнять вычисления для $i = 2, 3, 4, 5$ (см. рис. 2). ■

	A	B	C	D	E	F	G	H
1	$a= 1$		$b= 1,5$			$h= 0,1$		
2	i	x_i	y_i	Δy_i	z_i	$f_{1i} = z_i$	Δz_i	$f_{2i} = -z_i/x_i - y_i$
3								
4	0	1	0,770	-0,044	-0,440	-0,440	-0,033	-0,330
5	1	1,1	0,726	-0,047	-0,473	-0,473	-0,030	-0,296
6	2	1,2	0,679	-0,050	-0,503	-0,503	-0,026	-0,260
7	3	1,3	0,628	-0,053	-0,529	-0,529	-0,022	-0,222
8	4	1,4	0,576	-0,055	-0,551	-0,551		
9	5	1,5	0,521					

Режим формул

	A	B	C	D	E	F	G	H
1	$a= 1$		$b= 1,5$			$h= 0,1$		
2	i	x_i	y_i	Δy_i	z_i	$f_{1i} = z_i$	Δz_i	$f_{2i} = -z_i/x_i - y_i$
3								
4	0	=B1	0,77	=\$G\$1*F4	=-0,44	=E4	=\$G\$1*H4	=-E4/B4-C4
5	1	=B4+\$G\$1	=C4+D4	=\$G\$1*F5	=E4+G4	=E5	=\$G\$1*H5	=-E5/B5-C5
6	2	=B5+\$G\$1	=C5+D5	=\$G\$1*F6	=E5+G5	=E6	=\$G\$1*H6	=-E6/B6-C6
7	3	=B6+\$G\$1	=C6+D6	=\$G\$1*F7	=E6+G6	=E7	=\$G\$1*H7	=-E7/B7-C7
8	4	=B7+\$G\$1	=C7+D7	=\$G\$1*F8	=E7+G7	=E8		
9	5	=B8+\$G\$1	=C8+D8					

Режим решения

Рис. 2

3. Порядок выполнения работы

1. Выполнить решение примера индивидуального задания (с.79) в Excel.

3.6. Методические указания к проведению практических занятий

Практические занятия проводятся по тематике контрольных работ, выполняемых студентами. Студенты, обучающиеся с применением ДОТ, задания на практические занятия получают на учебном сайте СЗТУ.

Задание 1

Интерполяция функций с равноотстоящими узлами.

1. Цель работы

Построение функциональной зависимости по экспериментальным данным.

2. Основные теоретические положения

2.1. Приближение функций одной переменной

Одной из наиболее важных проблем численного анализа является проблема приближенного описания неизвестной функциональной зависимости по известным ее значениям в некоторых точках, называемых узловыми.

2.2. Постановка задачи интерполяции

Задача интерполирования может быть сформулирована следующим образом.

Пусть на отрезке $[a, b]$ заданы $n + 1$ точки x_0, x_1, \dots, x_n , которые называются узлами интерполяции, и значения некоторой интерполируемой функции $f(x)$ в этих точках, т. е.

$$y_0 = f(x_0); \quad y_1 = f(x_1); \quad \dots; \quad y_n = f(x_n).$$

Требуется построить интерполирующую зависимость $F(x)$, которая в узлах интерполяции принимает те же значения, что и интерполируемая функция $f(x)$, т.е.

$$F(x_0) = f(x_0) = y_0,$$

.....

$$F(x_n) = f(x_n) = y_n.$$

Графически задача интерполирования заключается в том, чтобы построить такую интерполирующую функцию, которая бы проходила через все узлы интерполяции.

Чаще всего в качестве интерполирующей функции $F(x)$ используются многочлены $P_n(x)$. Задача состоит в том, чтобы подобрать многочлен $P_n(x)$, обеспечивающий требуемую точность интерполяции ε , т.е. удовлетворяющий условию

$$(f(x) - P_n(x)) \leq \varepsilon. \quad (1)$$

Наиболее успешно для интерполяции используется многочлен Ньютона, в записи которого в случае интерполяции функции с равноотстоящими узлами используются конечные разности.

2.3. Конечные разности

Пусть для значений $x_0, x_0 + h, x_0 + 2h, \dots, x_0 + nh$, где h – шаг интерполяции, известны значения функции y_0, y_1, \dots, y_n .

Определение: Конечной разностью первого порядка называется разность

$$\Delta y_i = y_{i+1} - y_i, i = 0, 1, \dots, n - 1 \quad (2)$$

Аналогично определяются конечные разности второго и более высокого порядка

$$\begin{aligned} \Delta^2 y_i &= \Delta y_{i+1} - \Delta y_i, i = 0, 1, \dots, n - 2, \\ &\dots\dots\dots \\ \Delta^k y_i &= \Delta^{k-1} y_{i+1} - \Delta^{k-1} y_i, i = 0, 1, \dots, n - k. \end{aligned} \quad (3)$$

Конечные разности при вычислении удобно записать в табл.1.

Таблица 1

i	x_i	y_i	Δy_i	$\Delta^2 y_i$	$\Delta^3 y_i$	$\Delta^4 y_i$
0	x_0	y_0	Δy_0	$\Delta^2 y_0$	$\Delta^3 y_0$	$\Delta^4 y_0$
1	x_1	y_1	Δy_1	$\Delta^2 y_1$	$\Delta^3 y_1$	
2	x_2	y_2	Δy_2	$\Delta^2 y_2$		
3	x_3	y_3	Δy_3			
4	x_4	y_4				

Отметим, что число (порядок) конечных разностей всегда на единицу меньше числа узлов.

2.4. Интерполяционный полином Ньютона

Интерполяционный многочлен Ньютона для равноотстоящих узлов записывается в виде

$$P_n(x) = y_0 + (x - x_0) \frac{\Delta y_0}{1!h} + (x - x_0)(x - x_1) \frac{\Delta^2 y_0}{2!h^2} + \dots + (x - x_0)(x - x_1) \dots (x - x_{n-1}) \frac{\Delta^n y_0}{n!h^n} \quad (4)$$

или

$$P_n(x) = y_0 + \sum_{k=1}^n (x-x_0)(x-x_1)\dots(x-x_{k-1}) \frac{\Delta^k y_0}{k!h^k}. \quad (5)$$

Можно показать, что оценка погрешности $R_n(x)$ при замене $f(x)$ полиномом $P_n(x)$ имеет вид:

$$R_n(x) = \left| (x-x_0)(x-x_1)\dots(x-x_{n-1}) \frac{\Delta^n y_0}{n!h^n} \right|. \quad (6)$$

2.5. Решение задачи

Пример 1.

Закон движения некоторого объекта $y = f(x)$ представлен в табл. 2 (x – время, y – путь).

Таблица 2

x	0	1	2	3	4	5	6
y	0	2	10	30	46	130	222

Требуется найти пройденный объектом путь к моменту $x = 3,5$.

□ Для вычисления $y = f(3,5)$ необходимо на основе табл.1 получить математическое описание функциональной зависимости $y = f(x)$.

Если использовать критерий точного совпадения в узлах, то число определяемых параметров аппроксимирующей функции равно числу точек. При выборе такого критерия задача сводится к построению интерполяционных многочленов.

Заполним таблицу конечных разностей для экспериментальных данных, приведенных в табл.2. Вычисления удобно проводить с использованием табличного процессора Excel (табл.3).

Таблица 3.

i	x_i	y_i	Δy_i	$\Delta^2 y_i$	$\Delta^3 y_i$	$\Delta^4 y_i$	$\Delta^5 y_i$	$\Delta^6 y_i$
0	0	0	2	6	6	-22	110	-330
1	1	2	8	12	-16	88	-220	
2	2	10	20	-4	72	-132		
3	3	30	16	68	-60			
4	4	46	84	8				
5	5	130	92					
6	6	222						

Видим, что здесь шаг интерполяции $h = 1$. Степень полинома определяется числом (порядком) конечных разностей, т.е., по формуле (4) или (5) имеем:

$$P_6(x) = y_0 + \frac{(x-x_0)\Delta y_0}{1!h} + \frac{(x-x_0)(x-x_1)\Delta^2 y_0}{2!h^2} + \frac{(x-x_0)(x-x_1)(x-x_2)\Delta^3 y_0}{3!h^3} +$$

$$+ \frac{(x-x_0)(x-x_1)(x-x_2)(x-x_3)\Delta^4 y_0}{4!h^4} + \dots + \frac{(x-x_0)(x-x_1)\dots(x-x_5)\Delta^6 y_0}{6!h^6}.$$

Подставим наши данные и получим, что

$$P_6(x) = 0 + \frac{x \cdot 2}{1 \cdot 1} + \frac{x \cdot (x-1) \cdot 6}{2 \cdot 1} + \frac{x \cdot (x-1) \cdot (x-2) \cdot 6}{6 \cdot 1} + \frac{x \cdot (x-1) \cdot (x-2) \cdot (x-3) \cdot (-22)}{24 \cdot 1} +$$

$$+ \frac{x \cdot (x-1) \cdot (x-2) \cdot (x-3) \cdot (x-4) \cdot 110}{120 \cdot 1} + \frac{x \cdot (x-1) \cdot (x-2) \cdot (x-3) \cdot (x-4) \cdot (x-5) \cdot 220}{720 \cdot 1} =$$

$$= -\frac{11}{24}x^6 + \frac{187}{24}x^5 - \frac{1177}{24}x^4 + \frac{3401}{24}x^3 - \frac{363}{2}x^2 + \frac{167}{2}x.$$

Тогда путь y , пройденный к моменту $x = 3.5$, составит величину

$$P_6(3.5) = 35.10. \blacksquare$$

Задание 2

Приближенное решение уравнений.
Отделение корней. Уточнение корней.

1. Цель работы

Ознакомиться с численными методами решения конечных уравнений.

2. Основные теоретические положения

2.1. Постановка задачи

В общем случае уравнение с одним неизвестным имеет вид

$$f(x) = 0, \tag{7}$$

где $f(x)$ – заданная функция, определенная на отрезке $[a, b]$. Всякое число ξ (действительное или мнимое) на отрезке $[a, b]$, обращающее уравнение в тождество:

$$f(\xi) \equiv 0 \tag{8}$$

называется корнем уравнения или его решением.

Решение задачи приближенного определения корней уравнения состоит из двух этапов:

- 1) отделение корней, т.е. нахождение подинтервалов $[\alpha, \beta]$ на отрезке $[a, b]$, которые содержат только один корень уравнения;
- 2) уточнение корней, т.е. непосредственное вычисление значений корней на найденных подинтервалах $[\alpha, \beta]$ с заданной точностью ε .

2.2. Отделение корней

Графический способ отделения корней заключается в построении графика функции $f(x)$ на отрезке $[a, b]$. Точка пересечения графика функции с осью абсцисс дает приближенное значение корня уравнения. Найденные таким образом приближенные значения корней позволяют выделить отрезки $[\alpha, \beta]$, на которых при необходимости можно выполнить уточнение корней (рис.1).

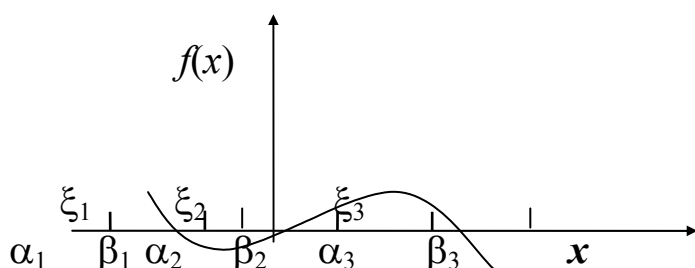


Рис. 1

При отделении действительных корней расчетным путем для непрерывных функций $f(x)$ можно руководствоваться следующими соображениями:

если на концах отрезка $[a, b]$ функция имеет разные знаки ($f(a) \cdot f(b) < 0$), то между точками a и b на оси абсцисс имеется нечетное число корней;

если же $f(a) \cdot f(b) > 0$, то между a и b имеется четное число корней или их совсем нет;

если $f(a) \cdot f(b) < 0$ и либо первая производная $f'(x)$, либо вторая производная $f''(x)$ не меняют знака на этом отрезке, то уравнение имеет единственный корень на отрезке $[a, b]$.

2.3. Уточнение корней

Численный метод, при котором уточняется первоначальное грубое приближение, называется итерационным методом или методом последовательных приближений. Каждый шаг этого метода называется итерацией.

Если при последовательных итерациях ($k = 1, 2, \dots$) получаемые величины $x^{(k)}$ все ближе приближаются к истинному значению корня ξ , то итерационный процесс будет сходящимся, в противном случае – расходящимся. При этом различают монотонную и колебательную сходимость (расходимость) в зависимости от того, с одной или с разных сторон осуществляется приближение (удаление) к (от) искомому решению.

Для реализации итерационного процесса должны быть заданы начальное приближение $x^{(0)}$ и точность ε , с которой требуется найти решение уравнения. Первоначальное грубое приближение $x^{(0)}$ следует задавать из физических соображений и по результатам отделения корней. Все остальные приближения получаются из итерационной формулы, соответствующей используемому методу решения уравнения.

Условие окончания итерационного процесса (нахождения значения корня с точностью ε) имеет вид

$$|x^{(k+1)} - x^{(k)}| = \varepsilon, \quad k = 0, 1, 2, 3, \dots \quad (9)$$

2.3.1 Уточнение корней Методом Ньютона

Опишем процедуру уточнения корня x^* , который отделён и находится на отрезке $[a, b]$. Уточнение корня проведём, используя итерационную формулу Ньютона

$$x_{k+1} = x_k - \frac{f(x_k)}{f'(x_k)}, \quad (10)$$

где x_k – приближение к корню на k -ом шаге (на k -ой итерации), $k = 0, 1, 2, \dots$. В пределе: $x_k \rightarrow x^*$ при $k \rightarrow \infty$.

Начальное приближение x_0 – это любая точка из отрезка $[a, b]$, удовлетворяющая условию сходимости итерационного процесса (1)

$$f(x_0)f''(x_0) > 0. \quad (11)$$

Обычно в качестве значения x_0 используют либо левый, либо правый конец отрезка $[a, b]$.

Пример 1.

Уточнить корень уравнения $x^3 - 4.2x^2 + 1.4x + 6.6 = 0$ на отрезке $[2.5, 3.5]$, сделав три шага по формуле Ньютона.

□ Вычислим первую и вторую производные функции $f(x) = x^3 - 4.2x^2 + 1.4x + 6.6$. Получим $f'(x) = 3x^2 - 8.4x + 1.4$ и $f''(x) = 6x - 8.4$.

Итерационное уравнение в нашем случае запишется так

$$x_{k+1} = x_k - \frac{x_k^3 - 4.2x_k^2 + 1.4x_k + 6.6}{3x_k^2 - 8.4x_k + 1.4},$$

или после приведения дробей к общему знаменателю в правой части последнего соотношения, получим более удобное для дальнейших вычислений уравнение

$$x_{k+1} = \frac{2x_k^3 - 4.2x_k^2 - 6.6}{3x_k^2 - 8.4x_k + 1.4}. \quad (12)$$

В качестве начального приближения возьмём правый конец отрезка $x_0 = 3.5$.

Проверяем условие сходимости (11)

$$f(x_0) = 2.925, \quad f''(x_0) = 12.6 \quad \Rightarrow \quad f(x_0)f''(x_0) > 0.$$

Условие сходимости метода Ньютона для $x_0 = 3.5$ выполнено.

Последовательно применяя соотношение (3), получим:

$$x_1 = \frac{2x_0^3 - 4.2x_0^2 - 6.6}{3x_0^2 - 8.4x_0 + 1.4} = 3.166; \quad x_2 = \frac{2x_1^3 - 4.2x_1^2 - 6.6}{3x_1^2 - 8.4x_1 + 1.4} = 3.029;$$

$$x_3 = \frac{2x_2^3 - 4.2x_2^2 - 6.6}{3x_2^2 - 8.4x_2 + 1.4} = 3.001.$$

Уточнённое значение корня $x^* \approx 3.001$.

В качестве оценки абсолютной погрешности, полученного результата можно использовать величину $\Delta = |x_3 - x_2| = |3,001 - 3,029| = 0.028$. ■

Задание 3

Приближенное интегрирование с заданным шагом

1. Цель работы

Изучение способов приближенного интегрирования

2. Основные теоретические положения

2.1. Постановка задачи

Пусть необходимо вычислить определенный интеграл

$$I = \int_a^b f(x) dx. \quad (13)$$

Методы приближенного интегрирования основаны на использовании геометрической интерпретации значения определенного интеграла, как площади криволинейной трапеции, ограниченной осью абсцисс, прямыми $x = a$, $x = b$ и кривой $f(x)$ (рис.2).

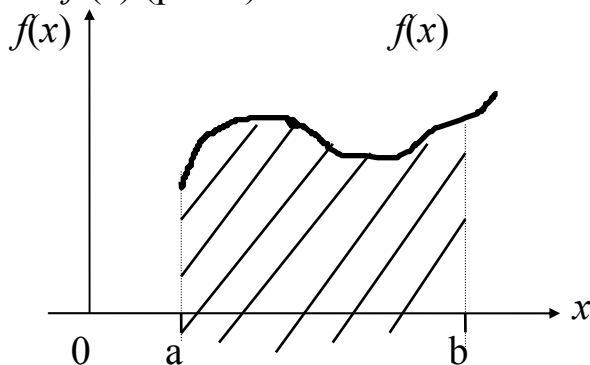
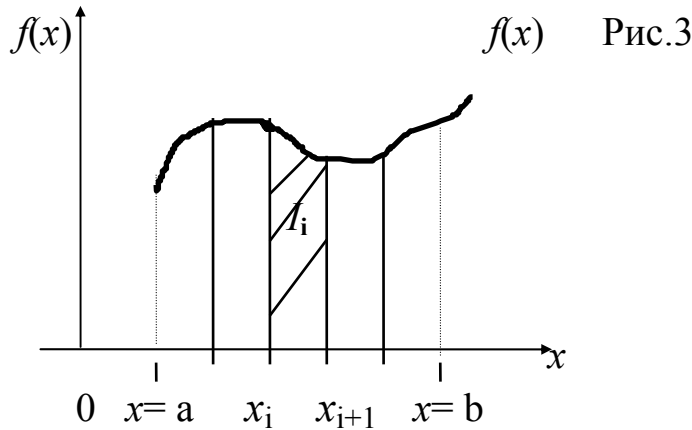


Рис.2

Для вычисления интересующей нас площади (см. рис.3) разобьем область интегрирования на n равных частей точками:

$$x = a, x_1, x_2, \dots, x_i, x_{i+1}, \dots, x_n = b. \tag{14}$$



Тогда

$$I = \sum_{i=1}^n I_i,$$

где

$$I_i = \int_{x_i}^{x_{i+1}} f(x) dx. \tag{15}$$

Значит, для вычисления интеграла (13) необходимо вычислить n площадей фигур криволинейных трапеций (рис.3).

2.2. Интегрирование функций, полученных из экспериментальных данных

Как правило, в результате эксперимента получают дискретные данные, т.е. в узлах x_i производят измерение значений некоторой функции y_i , (см. работу 1).

Интегрирование дискретных данных включает в себя предварительную аппроксимацию или интерполяцию этих данных известной функцией с последующим ее интегрированием. В большинстве случаев не удастся подобрать одну функцию для аппроксимации на всем интервале, поэтому область интегрирования разделяется на большое количество подинтервалов, на каждом из которых используется простая функция типа линейной, квадратической или кубической. После чего результаты аппроксимации для отдельных подинтервалов складываются вместе для получения полного интеграла.

Рассмотрим три простейших метода приближенного интегрирования.

2.3. Типы формул интегрирования

Наиболее часто при численном интегрировании используются метод прямоугольников, метод трапеций, интегрирование по Ромбергу, метод Симпсона и квадратура Гаусса. Каждый из этих методов является более точным, чем предыдущий, поскольку производит аппроксимацию данных более сложной кривой.

2.4. Метод прямоугольников

Согласно методу прямоугольников, область между точками разбиения интервала интегрирования $[a, b]$ заменяется прямоугольником, высота которого соответствует координате Y одной из точек, а ширина равна расстоянию между точками. Значение интеграла определяется по следующей формуле:

$$I = \sum_{i=1}^{n-1} y_i (x_{i+1} - x_i). \quad (16)$$

Такое приближение может показаться грубым, однако при малой ширине интервала и гладкой функции результаты получаются достаточно точными. Кроме того, такой метод очень просто реализовать, поскольку достаточно просто вычисляется площадь прямоугольника – перемножается значение Y в каждой точке на ширину интервала и результаты складываются.

2.5. Метод трапеций

Согласно этому методу, каждая пара соседних точек соединяется прямой линией, образуя последовательность трапеций.

Площадь трапеции равняется полусумме оснований, умноженной на высоту, которая, в данном случае, равна расстоянию между точками по оси X . Интеграл равен сумме площадей всех трапеций.

$$I = \sum_{i=1}^{n-1} \frac{(y_i + y_{i+1})}{2} (x_{i+1} - x_i). \quad (17)$$

2.6. Метод Симпсона

Согласно правилу Симпсона, для аппроксимации данных используется уравнение параболы, построенной по трем точкам (правило 1/3) или по четырем точкам (правило 3/8).

$$I = \sum_{i=1,3,5,\dots}^{n-2} \frac{1}{3}(y_i + 4y_{i+1} + y_{i+2})h \quad (18)$$

$$I = \sum_{i=1,4,7,\dots}^{n-3} \frac{3}{8}(y_i + 3y_{i+1} + 3y_{i+2} + y_{i+3})h. \quad (19)$$

Пример 1.

Вычислить определенный интеграл

$$I = \int_0^5 \frac{x}{1+x} dx$$

с помощью методов прямоугольников и трапеций с числом шагов, равным 5. Сравнить результаты вычислений двумя методами. (Истинное значение интеграла равно 3.208).

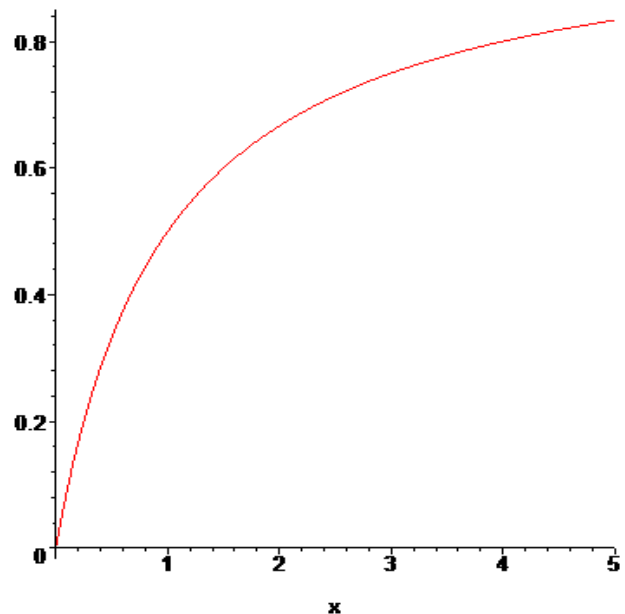
□Метод прямоугольников

$$I = \sum_{i=1,\dots}^4 f(x_i) \cdot \Delta x \quad \text{где } f(x_i) = \frac{x_i}{1+x_i}; \quad \Delta x = x_{i+1} - x_i = 1$$

Для удобства запишем значения функции в узлах в таблицу.

x_i	$f(x_i)$ слева	$f(x_i)$ справа
0	0	0.5
1	0.5	0.667
2	0.667	0.75
3	0.75	0.8
4	0.8	0.833
Σ	2.717	3.55

График подинтегральной функции выглядит следующим образом:



Значение интеграла (слева) просто равно сумме значений $f(x)$ в узлах, т.к. шаг $\Delta x = 1$ и равно 2.717, значение интеграла (справа) = 3.55. Среднее значение интеграла равно $(2.717+3.55)/2 = 3.1335$.

Метод трапеций

$$I = \sum_{i=1}^4 \frac{f(x_i) + f(x_{i+1})}{2} \Delta x$$

Таблица значений получается, по сути дела, той же самой

x_i	$f(x_i)$
0	0
1	0.5
2	0.667
3	0.75
4	0.8
5	0.833

И значение интеграла

$$I = \frac{1}{2} [(0 + 0.5) + (0.5 + 0.667) + (0.667 + 0.75) + (0.75 + 0.8) + (0.8 + 0.833)] = 3.1335 \blacksquare$$

Задание 4

Приближенное интегрирование дифференциальных уравнений 1 –го порядка методом Эйлера

1. Цель работы

Изучение метода Эйлера интегрирования дифференциальных уравнений 1 – го порядка.

2. Основные теоретические положения

Согласно методу Эйлера для решения дифференциального уравнения 1-го порядка

$$y' = f(x, y) \tag{20}$$

с начальным условием

$$y(x_0) = y_0 \tag{21}$$

(так называемая задача Коши) отрезок $[a, b]$, на котором ищется решение задачи, разбивают на n частей с шагом $h = (b - a) / n$ и находят значения

$y_k = y(x_k)$ в точках $x_k = x_0 + k \cdot h$ ($k = 0, 1, \dots, n$). Очевидно, что при этом $x_0 = a$, $x_n = b$. Значения y_{k+1} определяется по формуле

$$y_{k+1} = y_k + h \cdot f(x_k, y_k), \quad k=0,1,2,\dots,n-1, \tag{22}$$

которая получается заменой производной на ее разностный аналог.

Погрешность вычислений на каждом шаге составляет

$$R_k = 0.5 \cdot h^2 y''(\varepsilon), \quad \text{где } x_k \leq \varepsilon \leq x_{k+1} \quad (23)$$

Пример 1.

Решить задачу Коши для обыкновенного дифференциального уравнения 1-го порядка методом Эйлера. Вычисления выполнять с четырьмя десятичными знаками на отрезке $[0,2; 1,2]$ с шагом 0,1. Уравнение:

$$y' = 0.185 \cdot (x^2 + \cos 0.7 \cdot x) + 1.843 \cdot y; \quad y(0.2) = 0.25$$

□ Для численного решения заданного уравнения с начальным условием нам потребуется выполнить $n = \frac{b-a}{h} = \frac{1.2-0.2}{0.1} = 10$ шагов. На

каждом шаге надо вычислить значения $x_k, y_k, y'_k = f(x_k, y_k), h \cdot y'_k$, и y_{k+1} .

Первый шаг. ($k = 0$). Имеем:

$$x_0 = a = 0.2; y_0(x_0) = 0.25; y_1 = y_0 + h \cdot f(x_0, y_0). \text{ Вычислим}$$

$$f(x_0, y_0) = 0.185 \cdot (0.2^2 + \cos(0.7 \cdot 0.2)) + 1.843 \cdot 0.25 = 0.6513.$$

Тогда $h \cdot f(x_0, y_0) = 0.1 \cdot 0.6513 = 0.0651$ и, следовательно, по формуле (22)

$$y_1 = 0.25 + 0.0651 = 0.3151.$$

Делаем следующий шаг.

Второй шаг. ($k = 1$).

$$x_1 = x_0 + h = 0.2 + 0.1 = 0.3; \quad y_2 = y_1 + h \cdot f(x_1, y_1).$$

Вычислим

$$f(x_1, y_1) = 0.185 \cdot (0.3^2 + \cos(0.7 \cdot 0.3)) + 1.843 \cdot 0.3151 = 0.7784.$$

Тогда $h \cdot f(x_1, y_1) = 0.1 \cdot 0.7784 = 0.0778$ и $y_2 = 0.3151 + 0.0778 = 0.3929$.

И так далее.

Для удобства, все вычисления удобно представить в виде таблицы

k	x_k	y_k	$y'_k = f(x_k, y_k)$	$h \cdot y'_k$	y_{k+1}
0	0,2	0,25	0,6513	0,0651	0,3151
1	0,3	0,3151	0,7784	0,0778	0,3929
2	0,4	0,3929	0,9316	0,0932	0,4861
3	0,5	0,4861	1,1160	0,1116	0,5977
4	0,6	0,5977	1,3371	0,1337	0,7314
5	0,7	0,7314	1,6019	0,1602	0,8916
6	0,8	0,8916	1,9184	0,1918	1,0835

7	0,9	1,0835	2,2962	0,2296	1,3131
8	1,0	1,3131	2,7466	0,2747	1,5878
9	1,1	1,5878	3,2829	0,3283	1,9161
10	1,2	1,9161	3,2912	0,3291	

Таким образом, задача решена. ■

Задание 5

Комплексные числа и действия над ними

1. Цель работы

Научиться оперировать с комплексными числами и отображать их на плоскости.

2. Основные теоретические положения

См. раздел 2.1 (с.36, 37) УМК и раздел 3 Учебного пособия (с.19-23).

3. Порядок выполнения работы

Пример 1.

Найти сумму и разность чисел $z_1 = 3e^{-\frac{\pi}{4}i}$ и $z_2 = e^{\frac{\pi}{2}i}$.

□ Числа даны в показательной форме, однако, операции алгебраического суммирования удобнее производить над числами, записанными в алгебраической форме, т.к. достаточно соответствующие действия выполнить отдельно для вещественных и отдельно для мнимых частей чисел, т.е.

$$z_1 \pm z_2 = (x_1 \pm x_2) + i(y_1 \pm y_2) \quad (5)$$

$$|z_1| = r_1 = 3, \varphi_1 = \arg z_1 = -\frac{\pi}{4} \Rightarrow z_1 = 3 \cos\left(-\frac{\pi}{4}\right) + i3 \sin\left(-\frac{\pi}{4}\right) = \frac{3 \cdot \sqrt{2}}{2} - \frac{3\sqrt{2}}{2}i,$$

$$|z_2| = z_2 = 1, \varphi_2 = \arg z_2 = \frac{\pi}{2} \Rightarrow z_2 = 1 \cdot \cos \frac{\pi}{2} + i \sin \frac{\pi}{2} = 0 + i \cdot 1.$$

$$z_1 + z_2 = \left(\frac{3\sqrt{2}}{2} + 0\right) + i\left(-\frac{3\sqrt{2}}{2} + 1\right) = \frac{3\sqrt{2}}{2} + \frac{2 - 3\sqrt{2}}{2}i, \quad z_1 - z_2 = \frac{3\sqrt{2}}{2} - \frac{3\sqrt{2} + 2}{2}i.$$

Учитывая, что $\frac{3\sqrt{2}}{2} \approx 2.1$, построим все числа на рис. 1. ■

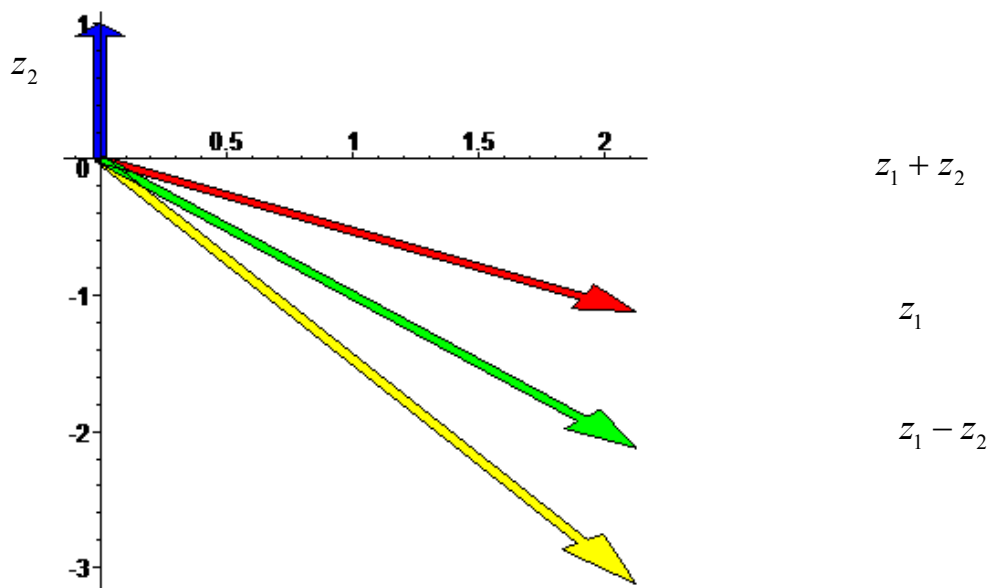


Рис. 1

Пример 2.

Найти произведение и частное чисел $z_1 = \sqrt{2} - \sqrt{2}i$, $z_2 = \frac{\sqrt{3}}{2} + \frac{1}{2}i$.

□Находя $z_1 \cdot z_2$ поступим с числами, как с обычными алгебраическими многочленами, учитывая, что $i^2 = -1$, $z_1 \cdot z_2 = (\sqrt{2} - \sqrt{2}i) \left(\frac{\sqrt{3}}{2} + \frac{1}{2}i \right) =$

$$= \sqrt{2} \cdot \frac{\sqrt{3}}{2} + \sqrt{2} \cdot \frac{1}{2}i - \sqrt{2}i \cdot \frac{\sqrt{3}}{2} - \sqrt{2}i \cdot \frac{1}{2}i = \frac{\sqrt{6}}{2} + \left(\sqrt{2} - \frac{\sqrt{6}}{2} \right) i - \frac{\sqrt{2}}{2}(-1) =$$

$$= \frac{\sqrt{6} + \sqrt{2}}{2} + \frac{\sqrt{2} - \sqrt{6}}{2}i.$$

Чтобы найти частное, следует освободиться в знаменателе от комплексного числа, для этого и числитель и знаменатель нужно умножить на число, сопряженное знаменателю.

$$\frac{z_1}{z_2} = \frac{\sqrt{2} - \sqrt{2}i}{\frac{\sqrt{3}}{2} + \frac{1}{2}i} = \frac{(\sqrt{2} - \sqrt{2}i) \left(\frac{\sqrt{3}}{2} - \frac{1}{2}i \right)}{\left(\frac{\sqrt{3}}{2} + \frac{1}{2}i \right) \left(\frac{\sqrt{3}}{2} - \frac{1}{2}i \right)} = \frac{\sqrt{2} \cdot \frac{\sqrt{3}}{2} - \frac{\sqrt{2}}{2}i - \sqrt{2}i \cdot \frac{\sqrt{3}}{2} + \sqrt{2}i \cdot \frac{1}{2}i}{\left(\frac{\sqrt{3}}{2} \right)^2 - \left(\frac{i}{2} \right)^2} =$$

$$= \frac{\frac{\sqrt{6}}{2} - \left(\frac{\sqrt{2}}{2} + \frac{\sqrt{6}}{2} \right) i - \frac{\sqrt{2}}{2}}{\frac{3}{4} + \frac{1}{4}} = \frac{\sqrt{6} - \sqrt{2}}{2} - \frac{\sqrt{2} + \sqrt{6}}{2}i.$$

На рис.2 представлены все числа. ■

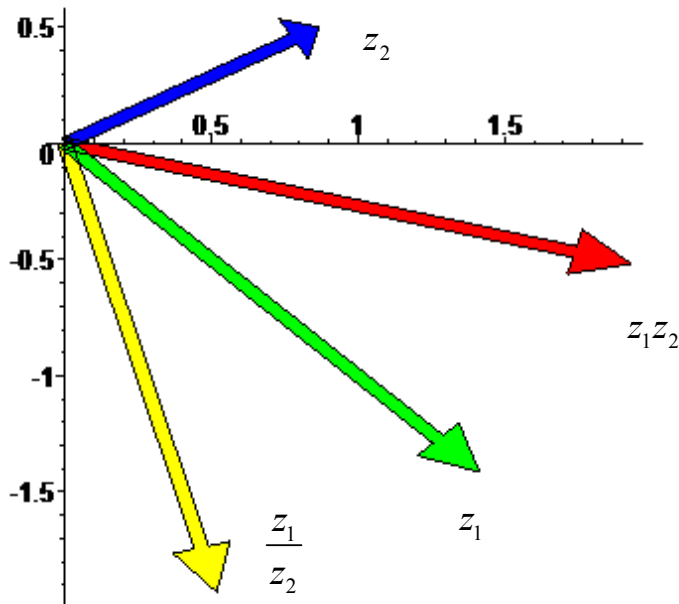


Рис.2

Задание 6

Вычисление производных функции комплексного переменного

1. Цель работы

Научиться вычислять производные от ФКП.

2. Основные теоретические положения

См. раздел 2.2 УМК (с.37-39) и раздел 4.2 Учебного пособия (с.26-29).

Пример.

Вычислить производную функции $f(z) = \sin 2z$ в точке $z_0 = \pi i$.

□Для того чтобы функция была аналитической в некоторой области необходимо и достаточно, чтобы её вещественная и мнимая части были определены и непрерывны в этой области и удовлетворяли условиям Коши-

Римана, т.е. $\frac{du}{dx} = \frac{dv}{dy}$, $\frac{du}{dy} = -\frac{dv}{dx}$.

$$\sin 2z = \sin(2x + i2y) = \sin 2x \cos 2iy + \sin 2iy \cos 2x =$$

$$= \sin 2x \cdot \frac{e^{-2iy} + e^{2iy}}{2} + \frac{e^{+2iy} - e^{-2iy}}{2i} \cos 2x =$$

$$= \sin 2x \frac{e^{2y} + e^{-2y}}{2} + \frac{e^{-2y} - e^{2y}}{2i} \cos 2x = \sin 2x \cdot \frac{e^{2y} + e^{-2y}}{2} + i \frac{e^{2y} - e^{-2y}}{2} \cos 2x =$$

$$= \sin 2x \cdot ch 2y - i \cdot sh 2y \cos 2x.$$

(воспользовались формулами $\sin(\alpha + \beta) = \sin \alpha \cos \beta + \sin \beta \cos \alpha$;

$$cht = \frac{e^t + e^{-t}}{2}; \quad sh t = \frac{e^t - e^{-t}}{2}.$$

Таким образом, $u(x,y) = \sin 2x \cdot ch 2y$; $v(x,y) = -sh 2y \cdot \cos 2x$. Обе функции определены и непрерывны на всей комплексной плоскости. Осталось показать, что они удовлетворяют условиям Коши-Римана. Для этого нужно найти частные производные $u(x,y)$ и $v(x,y)$.

$$\frac{du}{dx} = (\sin 2x \cdot ch 2y)'_x = ch 2y \cdot \cos 2x \cdot 2 = 2 \cdot ch 2y \cdot \cos 2x;$$

$$\frac{du}{dy} = (\sin 2x ch 2y)'_y = \sin 2x \cdot sh 2y \cdot 2 = 2 sh 2y \cdot \sin 2x;$$

$$\frac{dv}{dx} = (sh 2y \cos 2x)'_x = sh 2y (-\sin 2x) \cdot 2 = -2 \sin 2x \cdot sh 2y;$$

$$\frac{dv}{dy} = (sh 2y \cos 2x)'_y = \cos 2x (ch 2y) \cdot 2 = 2 \cdot ch 2x \cdot ch 2y;$$

Таким образом $\frac{du}{dx} = \frac{dv}{dy}$, $\frac{du}{dy} = -\frac{dv}{dx}$, т.е. условия Коши-Римана выполнены.

Следовательно, рассматриваемая функция аналитическая по всей числовой плоскости. Производную можно найти, воспользовавшись одной из формул:

$$\begin{aligned} f'(z) &= \frac{du(x,y)}{dx} + i \frac{dv(x,y)}{dx} = \frac{du(x,y)}{dx} - i \frac{du(x,y)}{dy} = \frac{dv}{dy} + i \frac{dv(x,y)}{dx} = \\ &= \frac{dv(x,y)}{dy} - i \frac{du(x,y)}{dy}. \end{aligned}$$

Однако, имея в виду, что для аналитических функций справедливы все правила и формулы дифференцирования функции действительного аргумента, можно избежать применения этих формул.

$$f'(z) = (\sin 2z)' = \cos 2z (2z)' = 2 \cos 2z;$$

$$f'(z_0) = 2 \cos(2\pi i) = 2 \frac{e^{i2\pi i} + e^{-i2\pi i}}{2} = e^{2\pi} + e^{-2\pi}. \quad \blacksquare$$

Задание 7

Интегрирование функции комплексного переменного

1. Цель работы

Научиться определять тип особых точек и вычислять интегралы от функций комплексного переменного с помощью вычетов.

2. Основные теоретические положения

См. раздел 2.4 УМК (с.41-44) и раздел 6 (с.36-49) Учебного пособия.

Пример 1.

Вычислить интеграл $\oint_{|z+3|=2} \frac{dz}{z^3(z^2+4)^2}$.

(Обход контура в положительном направлении).

□ Контур интегрирования – окружность радиусом 2 и центром в точке $(-3;0)$ (рис. 1).

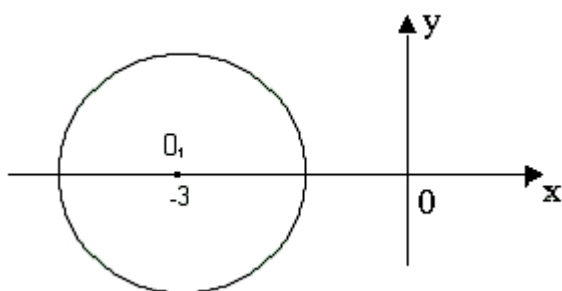


Рис. 1.

Здесь подынтегральная функция аналитическая везде, кроме точек $x_1=0$; $x_2=2i$; $x_3=-2i$. Эти точки лежат вне области, ограниченной контуром интегрирования, следовательно, можно применить интегральную теорему Коши, согласно которой, интеграл по контуру,

ограничивающему область аналитичности функции, равен нулю. Таким образом, $\oint_{|z+3|=2} \frac{dz}{z^3(z^2+4)^2} = 0$.

В тех случаях, когда в области, ограниченной контуром интегрирования, подынтегральная функция имеет особые точки, для вычисления интеграла применяется теорема Коши о вычетах: $\int_c f(z)dz = 2\pi i \sum_{k=1}^n \text{res}f(z_k)$, при условии, что $f(z)$ непрерывна на границе интегрирования и аналитическая всюду внутри области, кроме конечного числа особых точек z_1, z_2, \dots, z_n .

Таким образом, для того чтобы вычислить интеграл по замкнутому контуру, необходимо определить особые точки, принадлежащие области, ограниченной контуром интегрирования, и вычислить вычеты в этих точках ($\text{res}f(z_k)$).

Напомним, что изолированные особые точки могут быть устранимыми, полюсами (простыми и порядка m), а также существенно особыми точками.

Особая точка называется устранимой особой точкой, если существует конечный предел $\lim_{z \rightarrow z_0} f(z) = a_0$, вычет в этой точке $\operatorname{res} f(z_0) = 0$.

Особая точка называется полюсом, если $\lim_{z \rightarrow z_0} f(z) = \infty$. Порядок полюса определяется кратностью нуля z_0 функции $\frac{1}{f(z)}$.

Вычет в простом полюсе вычисляется по формуле

$$\operatorname{res} f(z_0) = \lim_{z \rightarrow z_0} (z - z_0) f(z). \quad (1)$$

Вычет в полюсе порядка m вычисляется по формуле

$$\operatorname{res} f(z_0) = \frac{1}{(m-1)!} \lim_{z \rightarrow z_0} \frac{d^{m-1}}{dz^{m-1}} [(z - z_0)^m f(z)] \quad (2)$$

В частности при $m=1$ получим предыдущую формулу (имеем в виду, что $0! = 1$, производная нулевого порядка – сама функция); при $m=2$ (для полюса второго порядка) $\operatorname{res} f(z_0) = \lim_{z \rightarrow z_0} \frac{d}{dz} [(z - z_0)^2 f(z)]$.

Особая точка называется существенно особой точкой, если $\lim_{z \rightarrow z_0} f(z)$ не существует.

В этом случае $\operatorname{res} f(z_0)$ определяется, как коэффициент a_{-1} при минус первой степени при $(z - z_0)$ разложения $f(z)$ в ряд Лорана. ■

Пример 2.

Найти особые точки функции $f(z) = \frac{e^z - 1}{z^2 + z}$.

□ Эта функция имеет две особые точки $z_1 = 0$ и $z_2 = -1$. Найдем пределы функции в этих точках.

$$\lim_{z \rightarrow z_1} f(z) = \lim_{z \rightarrow 0} \frac{e^z - 1}{z^2 + z} = \left(\frac{0}{0} \right) = \lim_{z \rightarrow 0} \frac{(e^z - 1)'}{(z^2 + z)'} = \lim_{z \rightarrow 0} \frac{e^z}{2z + 1} = \left(\frac{1}{1} \right) = 1 \quad - \text{ предел}$$

конечный, следовательно, $z_1 = 0$ – устранимая особая точка. Вычет в ней равен 0.

$$\lim_{z \rightarrow z_2} f(z) = \lim_{z \rightarrow -1} \frac{e^z - 1}{z^2 + z} = \left(\frac{e^{-1} - 1}{0} \right) = \infty, \text{ следовательно, точка } z_2 = -1 \text{ – полюс.}$$

Поскольку -1 простой ноль функции $\frac{1}{f(z)} = \frac{z^2 + z}{e^z - 1}$, точка является простым

полюсом. Вычет в ней $\operatorname{res} f(-1) = \lim_{z \rightarrow -1} (z + 1) \frac{e^z - 1}{z^2 + z} = \lim_{z \rightarrow -1} \frac{e^z - 1}{z} = \frac{e^{-1} - 1}{-1} = \frac{e - 1}{e}$.

Замечание. При вычислении пределов использовалось правило Лопиталья. ■

Пример 3.

Найти особые точки функции $f(z) = \frac{1}{z^3(z^2 + 4)^2}$, определить их тип, найти

вычет в каждой из них.

□ $f(z)$ имеет три особых точки: $z_1=0$, $z_2=2i$, $z_3=-2i$. Пределы $f(z)$ равны ∞ во всех трех точках, т.е. все они полюсы. $z_1=0$ – полюс третьего порядка, т.к. точка является нулем третьей кратности функции $\frac{1}{f(z)} = z^3(z^2 + 4)^2$, а точки $z_2=2i$ и $z_3=-2i$ – полюса второго порядка, т.к. они двукратные нули функции $\frac{1}{f(z)}$.

Найдем вычеты в этих точках по формуле (2).

$$\begin{aligned} \operatorname{res}f(z_1) &= \frac{1}{(3-1)} \lim_{z \rightarrow 0} \frac{d^2}{dz^2} \left[z^3 \frac{1}{z^3(z^2 + 4)^2} \right] = \frac{1}{2} \lim_{z \rightarrow 0} \left(\frac{1}{(z^2 + 4)^2} \right)'' = \frac{1}{2} \lim_{z \rightarrow 0} \left(\frac{-4z}{(z^2 + 4)^3} \right)' \\ &= \frac{-4}{2} \lim_{z \rightarrow 0} \frac{(z^2 + 4)^3 - 3(z^2 + 4)^2 \cdot 2z}{(z^2 + 4)^6} = -2 \lim_{z \rightarrow 0} \frac{z^2 + 4 - 6z^2}{(z^2 + 4)^4} = 2 \lim_{z \rightarrow 0} \frac{5z^2 - 4}{(z^2 + 4)^4} = 2 \frac{(-4)}{4^4} = -\frac{1}{32}. \end{aligned}$$

$$\begin{aligned} \operatorname{res}f(z_2) &= \frac{1}{(2-1)} \lim_{z \rightarrow 2i} \frac{d}{dz} \left[(z - 2i)^2 \frac{1}{z^3(z^2 + 4)^2} \right] = \lim_{z \rightarrow 2i} \left(\frac{1}{z^3(z + 2i)^2} \right)' = \\ &= \lim_{z \rightarrow 2i} \left(-\frac{3z(z + 2i)^2 + 2(z + 2i)z^3}{z^6(z + 2i)^4} \right)' = \lim_{z \rightarrow 2i} \left[-\frac{z^2(z + 2i)(3z + 6i + 2z)}{z^6(z + 2i)^4} \right]' = \lim_{z \rightarrow 2i} \left[-\frac{5z + 6i}{z^4(z + 2i)^3} \right]' \\ &= -\frac{10i + 6i}{(2i)^4(4i)^3} = -\frac{16i}{2^4 \cdot 4^3 \cdot (-i)} = \frac{1}{64}. \end{aligned}$$

$$\begin{aligned} \operatorname{res}f(z_3) &= \lim_{z \rightarrow -2i} \frac{d}{dz} \left[(z + 2i)^2 \frac{1}{z^3(z^2 + 4)^2} \right] = \lim_{z \rightarrow -2i} \left(\frac{1}{z^3(z - 2i)^2} \right)' = \lim_{z \rightarrow -2i} \left(-\frac{3z(z - 2i)^2 + 2z}{z^4(z - 2i)^3} \right)' = \\ &= \lim_{z \rightarrow -2i} \left[-\frac{5z - 6i}{z^4(z - 2i)^3} \right]' = -\frac{6i - 5(-2i)}{(-2i)^4(-4i)^2} = -\frac{16i}{2^4 \cdot (-4)^3 \cdot (-i)} = \frac{i}{64i} = \frac{1}{64}. \end{aligned}$$

■

Пример 4.

Вычислить интеграл $\int_{|z|=4} \frac{e^z - 1}{z^2 + z} dz$.

□ Чтобы вычислить интеграл по замкнутому контуру нужно воспользоваться таким алгоритмом.

1. Определить контур интегрирования на комплексной плоскости, указав положительное направление обхода контура.

2. Найти особые изолированные точки внутри контура интегрирования, определить их тип и вычислить вычеты в этих точках.

3. Вычислить интеграл по теореме Коши о вычетах.

В рассматриваемом примере контур интегрирования $|z|=4$ – окружность с радиусом 4 и центром в начале координат (рис. 2).

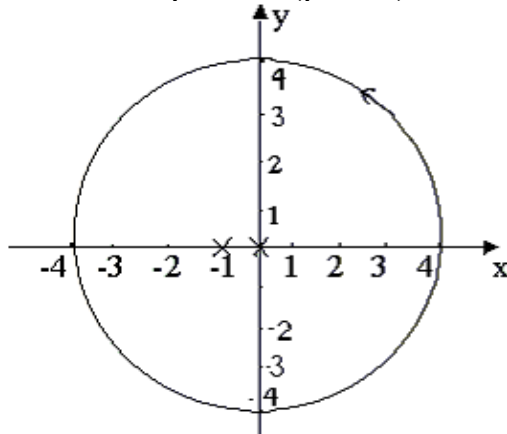


Рис. 2

$F(z)$ имеет две особые изолированные точки (на рис. 2 они обозначены крестами). В примере 2 было установлено, что $x_1=0$ – устранимая особая точка и $\text{res}f(0)=0$, а $x_2=-1$ – простой полюс с вычетом $\text{res}f(-1)=\frac{e-1}{e}$.

По теореме Коши о вычетах интеграл будет равен

$$I = 2\pi i(\text{res}f(0) + \text{res}f(-1)) = 2\pi i\left(0 + \frac{e-1}{e}\right) = \frac{2\pi(e-1)i}{e}. \blacksquare$$

Пример 5.

Вычислить $\oint_{L_i} \frac{dz}{z^3(z^2+4)^2}$, если

$$L_1 : |z + 2i| = 3,$$

$$L_2 : |z - 1| = \frac{1}{2},$$

$$L_3 : |z| = 3.$$

□ Контур интегрирования изображены на рис. 3. В Примере 3 определено, что подынтегральная функция имеет три особые изолированные точки $z_1=0$, $z_2=2i$, $z_3=-2i$. При этом $z_1=0$ полюс третьего порядка, вычет в точке z_1 $\text{res}f(0)=-\frac{1}{32}$. $z_2=2i$ – полюс второго порядка, $\text{res}(2i)=\frac{1}{64}$. $z_3=-2i$ – полюс второго порядка, $\text{res}(-2i)=\frac{1}{64}$. В области ограниченной L_1 - окружностью радиуса 3 центром в точке $\theta_1(0;-2i)$ – находятся две изолированные точки $z_1=0$ и $z_3=-2i$, т.е.

$$\oint_{|z+2i|=3} \frac{dz}{z^3(z^2+4)^2} = 2\pi i(\operatorname{res}f(0) + \operatorname{res}f(-2i)) = 2\pi i\left(-\frac{1}{32} + \frac{1}{64}\right) = \frac{1}{32}\pi i.$$

В области ограниченной L_2 , функция регулярна, следовательно, по интегральной теореме Коши $\int_{|z-1|=\frac{1}{2}} \frac{dz}{z^2(z^2+4)^2} = 0$.

В третью область, ограниченную окружностью радиусом с центром в начале координат входят все три особые точки, поэтому

$$\int_{|z|=3} \frac{dz}{z^3(z^2+4)^2} = 2\pi i(\operatorname{res}f(0) + \operatorname{res}f(-2i) + \operatorname{res}f(2i)) = 2\pi i\left(-\frac{1}{32} + \frac{1}{64} + \frac{1}{64}\right) = 0. \quad \blacksquare$$

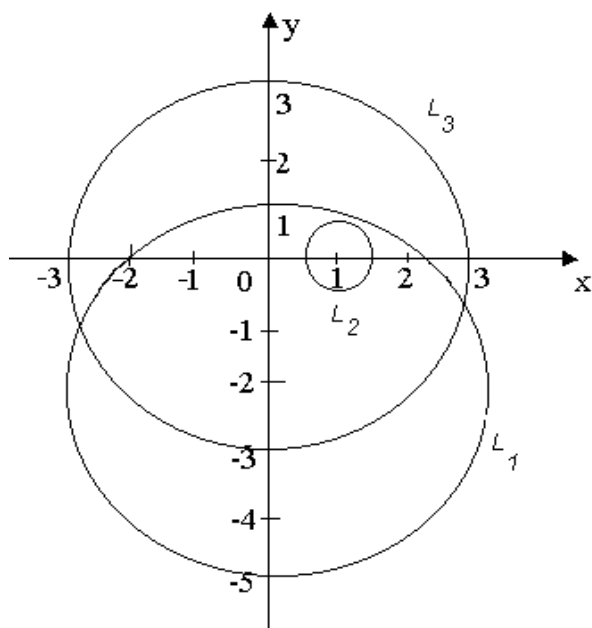


Рис. 3.

$$z - z_0, \quad z_0 = -1.$$

Задание 8

Определение кратчайшего пути на графе и построение минимального остовного дерева.

1. Цель работы

Научиться применять алгоритм Дейкстры для определения кратчайшего пути на графах и алгоритм ближайшего соседа для построения остовного дерева.

2. Основные теоретические положения

Подробно изложены в разделе 3.1 (см. с.56-59).

Задание 9

Построение различных видов ДНФ для булевых функций.

1. Цель работы

Овладеть навыками применения метода Квайна для построения сокращенных ДНФ.

2. Основные теоретические положения

Подробное изложение методов см. в разделе 3.2 (с.66-72).

Раздел 4. БЛОК КОНТРОЛЯ ОСВОЕНИЯ ДИСЦИПЛИНЫ

Общие указания

Блок контроля освоения дисциплины включает:

1. Задания на контрольные работы и методические указания к их выполнению. Порядок выбора индивидуальных заданий указан в пункте «Задания на контрольную работу и методические указания к ее выполнению».

2. Блок тестов текущего контроля.

Приводятся тесты текущего контроля по каждому из разделов дисциплины. Они предлагаются студентам в качестве тренировочных (репетиционных). После работы с этими тестами можно проверить ответы – они приведены на стр.155. Завершив работу с тренировочным тестом, студент должен пройти аналогичный контрольный тест. Время ответа и число попыток ответа для контрольного теста ограничено.

3. Блок итогового контроля.

Изучение дисциплины заканчивается сдачей экзамена. Вопросы для подготовки к сдаче экзамена приведены в данном блоке.

Задания на контрольные работы и методические указания к их выполнению

Методические указания

Студенты всех специальностей разделены на три группы и выполняют задания двух контрольных работ в соответствии с таблицей, приведённой ниже (задания имеют сквозную нумерацию по обеим контрольным работам).

Группа №	Специальности №	Задания №
1	140211, 140101, 140104,150501, 190205, 200101, 220201	1 (интерполяция) 2 (корни уравнения) 5 (комплексные числа) 6 (производная ФКП) 7 (интегрирование ФКП) 8 (алгоритм Дейкстры) 9 (мат. логика)
2	080502, 150104, 151001, 150202, 190601, 140601, 200402, 200501, 210106, 210302, 210101, 220301, 230101, 280202	1 (интерполяция) 2 (корни уравнения) 3 (численное интегрирование) 4 (метод Эйлера) 5 (комплексные числа)

		6 (производная ФКП) 7 (интегрирование ФКП)
3	190701 ^{*)} , 240401, 240301	5 (комплексные числа) 6 (производная ФКП) 7 (интегрирование ФКП) 8 (алгоритм Дейкстры) 9 (мат. Логика)

^{*)}Студенты специальности 190701 выполняют также два задания из УМК «Математика ч.2 Методы оптимизации». Номера заданий указывает преподаватель.

Подробные указания к выполнению каждого задания контрольных работ приведены в разделе 3.6 "Методические указания к проведению практических занятий".

Задание 1. Осуществить интерполяцию с помощью полинома Ньютона исходных данных из табл.1 и вычислить значение интерполяционного полинома в точке x_1 . **Номер варианта выбирается по последней цифре шифра.** 10 точек берётся, если для решения задачи используется какой-либо математический пакет. **При ручном счёте – выбрать первые четыре точки.**

Таблица 1

	Порядковый номер исходных данных									
№	1	2	3	4	5	6	7	8	9	10
1-й вариант										
X	1,415	1,420	1,425	1,430	1,435	1,440	1,445	1,450	1,455	1,460
У	0,888	0,889	0,890	0,891	0,892	0,893	0,894	0,895	0,896	0,897
Значение	$x_1 = 1,416$									
2-й вариант										
X	0,101	0,106	0,111	0,116	0,121	0,126	0,131	0,136	0,141	0,146
У	1,261	1,276	1,291	1,306	1,321	1,336	1,352	1,367	1,383	1,399
Значение	$x_1 = 0,113$									
3-й вариант										
X	0,15	0,20	0,25	0,30	0,35	0,40	0,45	0,50	0,55	0,60
У	0,86	0,819	0,779	0,741	0,705	0,670	0,638	0,606	0,577	0,549
Значение	$x_1 = 0,23$									
4-й вариант										
X	0,18	0,185	0,190	0,195	0,200	0,205	0,210	0,215	0,220	0,225
У	5,615	5,467	5,352	5,193	5,066	4,946	4,832	4,722	4,618	4,519
Значение	$x_1 = 0,182$									
5-й вариант										
X	3,5	3,55	3,60	3,65	3,70	3,75	3,80	3,85	3,90	3,95
У	33,11	34,65	36,60	38,47	40,44	42,52	44,70	46,99	49,40	51,93
Значение	$x_1 = 3,52$									

6-й вариант										
X	0,115	0,120	0,125	0,130	0,135	0,140	0,145	0,150	0,165	0,170
У	8,68	8,29	7,96	7,65	7,36	7,10	6,85	6,62	6,40	6,20
Значение	$x_1 = 0,122$									
7-й вариант										
X	1,340	1,345	1,350	1,355	1,360	1,365	1,370	1,375	1,380	1,385
У	4,26	4,35	4,46	4,56	4,67	4,79	4,91	5,01	5,18	
Значение	$x_1 = 1,352$									
8-й вариант										
X	0,15	0,16	0,17	0,18	0,19	0,20	0,21	0,22	0,23	0,24
У	4,48	4,95	5,47	5,99	6,05	6,68	6,909	7,38	8,166	9,025
Значение	$x_1 = 0,153$									
9-й вариант										
X	0,45	0,46	0,47	0,48	0,49	0,50	0,51	0,52	0,53	0,54
У	20,19	19,61	18,94	18,17	17,30	16,31	15,19	13,94	12,55	10,99
Значение	$x_1 = 0,455$									
10-й вариант										
X	0,01	0,06	0,11	0,16	0,21	0,26	0,31	0,36	0,41	0,46
У	0,99	0,95	0,91	0,88	0,84	0,81	0,78	0,74	0,71	0,68
Значение	$x_1 = 0,014$									

Задание 2. Уточнить значение корня на заданном интервале тремя итерациями и найти погрешность вычисления. **Номер варианта выбирается по предпоследней цифре шифра из табл.2.**

Таблица 2

Номер варианта	Уравнение	Интервал
0	$2x^3 - 5x^2 + 4x - 9 = 0$	[0;4]
1	$3x^3 - 10x^2 + 2x - 7 = 0$	[0;4]
2	$3x^3 - 7x^2 + 2x - 5 = 0$	[-1;3]
3	$2x^3 - 5x^2 + 5x - 12 = 0$	[0;4]
4	$5x^3 - 3x^2 + 4x - 12 = 0$	[0;4]
5	$2x^3 - 5x^2 + 5x - 12 = 0$	[2;6]
6	$2x^3 - 5x^2 + 4x - 11 = 0$	[2;6]
7	$2x^3 - 7x^2 + 3x - 10 = 0$	[0;4]
8	$3x^3 - 105x^2 + 2x - 7 = 0$	[2;6]
9	$3x^3 - 2x^2 + 5x - 3 = 0$	[-2;2]

Задание 3. Методами прямоугольников, трапеций и Симпсона вычислить определённый интеграл. **Номер варианта выбирается по предпоследней цифре шифра.**

$$\begin{array}{l}
 1) \int_0^4 \frac{x}{1+x} dx \quad 2) \int_0^4 \frac{1}{2+x} dx \quad 3) \int_0^4 \frac{1}{2+x^2} dx \quad 4) \int_1^5 \frac{1}{2+x^2} dx \quad 5) \int_1^5 \frac{1}{2+x} dx \\
 6) \int_1^5 \frac{x}{1+x} dx \quad 7) \int_0^4 \frac{1}{4+x} dx \quad 8) \int_0^4 \frac{x}{2+x^2} dx \quad 9) \int_0^4 \frac{1}{3+x^2} dx \quad 10) \int_1^5 \frac{1}{3+x} dx
 \end{array}$$

Задание 4. Проинтегрировать уравнение методом Эйлера на интервале $[0, 2 - 1, 2]$. Во всех вариантах начальное условие: $y(0, 2) = 0, 25$. Вычисления выполнять с четырьмя десятичными знаками и шагом $0, 25$. **Номер варианта выбирается по последней цифре шифра.**

$$\begin{array}{l}
 1) y' = 0.133 \cdot (x^2 + \sin 2 \cdot x) + 0.872 \cdot y \\
 2) y' = 0.215 \cdot (x^2 + \cos 1.5 \cdot x) + 1.283 \cdot y \\
 3) y' = 0.158 \cdot (x^2 + \sin 0.8 \cdot x) + 1.164 \cdot y \\
 4) y' = 0.173 \cdot (x^2 + \cos 0.7 \cdot x) + 0.754 \cdot y \\
 5) y' = 0.221 \cdot (x^2 + \sin 1.2 \cdot x) + 0.452 \cdot y \\
 6) y' = 0.163 \cdot (x^2 + \cos 0.4 \cdot x) + 0.635 \cdot y \\
 7) y' = 0.218 \cdot (x^2 + \sin 1.6 \cdot x) + 0.718 \cdot y \\
 8) y' = 0.145 \cdot (x^2 + \cos 0.5 \cdot x) + 0.842 \cdot y \\
 9) y' = 0.213 \cdot (x^2 + \sin 1.8 \cdot x) + 0.368 \cdot y \\
 10) y' = 0.127 \cdot (x^2 + \cos 0.6 \cdot x) + 0.573 \cdot y
 \end{array}$$

Задание 5. Данное задание состоит из двух задач. В первой из них требуется вычислить сумму $(z_1 + z_2)$ и разность $(z_1 - z_2)$ комплексных чисел, а во второй – произведение $z_1 z_2$ и частное z_1 / z_2 .

Вариант задания выбирается по последней цифре шифра.

Задача 1. В задачах 1-10, вычислить сумму $(z_1 + z_2)$ и разность $(z_1 - z_2)$ комплексных чисел, заданных в показательной форме, переведя их в алгебраическую форму; построить операнды и результаты на комплексной плоскости.

Задача 2. В задачах 11-20 вычислить произведение $z_1 z_2$ и частное z_1 / z_2 комплексных чисел, операнды и результаты изобразить на комплексной плоскости.

1. $z_1 = e^{\frac{\pi}{3}i}; z_2 = 2e^{-\frac{\pi}{3}i}$.	6. $z_1 = 2e^{-\pi i}; z_2 = 4e^{\pi i}$.
2. $z_1 = 2e^{\frac{\pi}{4}i}; z_2 = 3e^{\frac{3}{4}\pi i}$.	7. $z_1 = e^{-\frac{\pi}{2}i}; z_2 = 2e^{\frac{\pi}{2}i}$.
3. $z_1 = 3e^{-\frac{\pi}{4}i}; z_2 = e^{\frac{\pi}{4}i}$.	8. $z_1 = 2e^{-\frac{3\pi}{4}i}; z_2 = e^{\frac{3\pi}{4}i}$.
4. $z_1 = e^{\frac{\pi}{6}i}; z_2 = 4e^{-\frac{\pi}{6}i}$.	9. $z_1 = 2e^{\frac{5\pi}{4}i}; z_2 = 2e^{-\frac{5\pi}{4}i}$.
5. $z_1 = 3e^{\frac{2\pi}{3}i}; z_2 = 3e^{-\frac{2\pi}{3}i}$.	10. $z_1 = 3e^{-\frac{4\pi}{3}i}; z_2 = e^{\frac{4\pi}{3}i}$.
11. $z_1 = \sqrt{3} + i; z_2 = 1 - \sqrt{3}i$.	16. $z_1 = 4 + 3i; z_2 = 1 - \sqrt{3}i$.
12. $z_1 = 2 + i; z_2 = -2 - 3i$.	17. $z_1 = 2\sqrt{2} + i; z_2 = -3 + 4i$.
13. $z_1 = \sqrt{2} + 2i; z_2 = 2 - \sqrt{2}i$.	18. $z_1 = -3 + \sqrt{7}i; z_2 = \sqrt{7} - 3i$.
14. $z_1 = 1 + 3i; z_2 = 3 - i$.	19. $z_1 = \sqrt{3} + i; z_2 = 1 - \sqrt{3}i$.
15. $z_1 = 3 + 4i; z_2 = 4 - 3i$.	20. $z_1 = \sqrt{2} + \sqrt{7}i; z_2 = 3 - 4i$.

Задание 6. Вычислить производную функции $f(z)$ в точке z_0 . Номер задания выбрать по предпоследней цифре шифра.

- | | |
|-------------------------------------------|---------------------------------------------|
| 1. $f(z) = z^2 + 2iz + 1; z_0 = 1 + i$. | 6. $f(z) = 2z^2 + 3iz + 6; z_0 = 2 - 2i$. |
| 2. $f(z) = z^2 - 2iz + 1; z_0 = 1 + i$. | 7. $f(z) = 5z^2 + 2iz - 6; z_0 = 4 + 2i$. |
| 3. $f(z) = z^2 + 2iz - 1; z_0 = 1 + i$. | 8. $f(z) = 5z^2 - 2iz + 6; z_0 = -4 + 2i$. |
| 4. $f(z) = z^2 - 2iz - 1; z_0 = 1 + i$. | 9. $f(z) = 3z^2 - 3z - 1; z_0 = -4 + 2i$. |
| 5. $f(z) = 2z^2 - 3iz + 3; z_0 = 2 - i$. | 0. $f(z) = 3z^2 - 3iz - 4; z_0 = -4 - 4i$. |

Задание 7. Вычислить интеграл по замкнутым контурам а) и б), считая обход контура в положительном направлении. Нарисовать область интегрирования, указать на рисунке особые точки. Номер задания выбрать по последней цифре шифра.

31. $\oint \frac{zdz}{(z^2+1)(z-3)}$; а) $|z-i|=1$, б) $|z-1|=1$.
32. $\oint \frac{zdz}{z^4-81}$; а) $|z|=2$, б) $|z-2|=3$.
33. $\oint \frac{\cos z dz}{z^2(z-4)}$; а) $|z+2|=1$, б) $|z-3|=2$.
34. $\oint \frac{\sin z dz}{(z^2+9)(z-1)}$; а) $|z|=2$, б) $|z-i|=3$.
35. $\oint \frac{z^2 dz}{(z-2)^2(z+1)}$; а) $|z+1|=1$, б) $|z+i|=1$.
36. $\oint \frac{e^z dz}{z^3+9z}$; а) $|z-3i|=2$, б) $|z+2|=1$.
37. $\oint \frac{(z+1)dz}{8z^3+1}$; а) $|z+1|=1$, б) $|z-3|=1$.
38. $\oint \frac{e^z dz}{z(z+2)^2}$; а) $|z|=1$, б) $|z-2|=1$.
39. $\oint \frac{\sin z dz}{z^2(z^2+1)}$; а) $|z-i|=\frac{1}{2}$, б) $|z+3|=2$.
40. $\oint \frac{\cos z}{(z^2-4)z}$; а) $|z-i|=2$, б) $|z-3|=\frac{1}{2}$.

Задание 8. 1. По заданной матрице весов построить граф и найти кратчайший путь между вершинами X_1 и X_8 , используя алгоритм Дейкстры.

2. С помощью алгоритма ближайшего соседа определить минимальное остовное дерево в рассматриваемом графе.

Вариант задания выбирается по последней цифре шифра:

1)

	x_1	x_2	x_3	x_4	x_5	x_6	x_7	x_8
x_1	0	15		23	8			
x_2	15	0	22		12			
x_3		22	0	16	13	20	17	
x_4	23		16	0	8	10		18
x_5	8	12	13	8	0	25		
x_6			20	10	25	0	12	9
x_7			17			12	0	16
x_8				18		9	16	0

2)

	x_1	x_2	x_3	x_4	x_5	x_6	x_7	x_8
x_1	0	5	4			12		
x_2	5	0	7		13			
x_3	4	7	0	9			6	25
x_4			9	0	11		8	9
x_5		13		11	0	15		6
x_6	12				15	0	10	
x_7			6	8		10	0	
x_8			25	9	6			0

3)

	x_1	x_2	x_3	x_4	x_5	x_6	x_7	x_8
x_1	0	6	4		6	8		
x_2	6	0	4	13				
x_3	4	4	0	13	5		18	25
x_4		13	13	0				10
x_5	6		5		0	5	10	
x_6	8				5	0	12	
x_7			18		10	12	0	12
x_8			25	10			12	0

4)

	x_1	x_2	x_3	x_4	x_5	x_6	x_7	x_8
x_1	0	10	6	7	11	21		
x_2	10	0	5				15	
x_3	6	5	0				11	19
x_4	7			0	9	13	10	
x_5	11			9	0			
x_6	21			13		0	18	10
x_7		15	11	10		18	0	4
x_8			19			10	4	0

5)

	x_1	x_2	x_3	x_4	x_5	x_6	x_7	x_8
x_1	0	3	2	8	6		15	
x_2	3	0	4					
x_3	2	4	0	3				6
x_4	8		3	0			3	4
x_5	6				0	3	2	
x_6					3	0		2
x_7	15			3	2		0	6
x_8			6	4		2	6	0

6)

	x_1	x_2	x_3	x_4	x_5	x_6	x_7	x_8
x_1	0	5		4	6			
x_2	5	0						10
x_3			0	4		6	5	7
x_4	4		4	0	8		12	9
x_5	6			8	0	4		
x_6			6		4	0	3	
x_7			5	12		3	0	5
x_8			7	9			5	0

7)

	x_1	x_2	x_3	x_4	x_5	x_6	x_7	x_8
x_1	0	5	5		6			
x_2	5	0		7				
x_3	5		0		6	8		16
x_4		7		0	3	6	9	
x_5	6		6	3	0	4		
x_6			8	6	4	0	4	6
x_7				9		4	0	8
x_8			16			6	8	0

8)

	x_1	x_2	x_3	x_4	x_5	x_6	x_7	x_8
x_1	0	4	6			21		
x_2	4	0		10		5		
x_3	6		0		9	5		
x_4		10		0		8		8
x_5			9		0	6	4	6
x_6	21	5	5	8	6	0	10	11
x_7					4	10	0	5
x_8				8	6	11	5	0

9)

	x_1	x_2	x_3	x_4	x_5	x_6	x_7	x_8
x_1	0	10	11					
x_2	10	0	20	26	14			
x_3	11	20	0	16		25		
x_4		26	16	0	21	26	6	
x_5		14		21	0	4	28	
x_6			25	26	4	0		13
x_7				6	28		0	15
x_8						13	15	0

10)

	x_1	x_2	x_3	x_4	x_5	x_6	x_7	x_8
x_1	0	8	14	13	16			
x_2	8	0			14	6		
x_3	14		0	5		8		10
x_4	13		5	0			4	12
x_5	16	14			0		8	
x_6		6	8			0		15
x_7				4	8		0	9
x_8			10	12		15	9	0

Задание 9. Для исходной булевой функции, заданной таблицей найти сокращённую ДНФ методом Квайна.

Вариант задания выбирается по последней цифре шифра:

№ варианта			0	1	2	3	4	5	6	7	8	9
x	y	z	Значения функции									
0	0	0	0	0	0	1	1	0	0	1	0	0
0	0	1	1	1	0	1	0	0	1	1	0	1
0	1	0	0	1	0	0	0	1	1	1	1	0
0	1	1	0	1	1	1	0	0	1	0	0	0
1	0	0	0	0	1	0	1	1	0	0	0	1
1	0	1	1	1	1	0	0	1	1	0	1	1
1	1	0	1	0	0	0	1	1	0	1	1	1
1	1	1	1	0	1	1	1	0	0	0	1	0

4.3. Текущий контроль

Тренировочные тесты

Тест №1 (по разделу 1)

1. Вычислите и определите погрешность результата $X = \frac{m^2 n^3}{\sqrt{k}}$, где

$$m = 28,3 (\pm 0,02), \quad n = 7,45 (\pm 0,01), \quad k = 0,678 (\pm 0,003).$$

Воспользуйтесь

расчетными формулами для абсолютной α и относительной δ погрешностей

приближённого числа: $\alpha(a \pm b) = \alpha_a + \alpha_b$, $\delta(a \pm b) = \frac{a\delta_a + b\delta_b}{a \pm b}$,

$$\alpha(ab) = b\alpha_a + a\alpha_b, \quad \delta(ab) = \delta_a + \delta_b, \quad \alpha\left(\frac{a}{b}\right) = \frac{b\alpha_a + a\alpha_b}{b^2}, \quad \delta\left(\frac{a}{b}\right) = \delta_a + \delta_b,$$

$$\alpha(a^m) = ma^{m-1}\alpha_a, \quad \delta(a^m) = m\delta_a.$$

A.	$X = 4,02 \cdot 10^5 (\pm 3,1 \cdot 10^3); \delta_X = 0,77\%$
B.	$X = 402200; \alpha_X = 3100; \delta_X = 0,00769$
C.	$X = 4 \cdot 10^5 (\pm 3 \cdot 10^3); \delta_X = 0,8\%$
D.	$X = 402000 \pm 3000; \delta_X = 0,008$

2. Укажите, сколько узловых точек нужно иметь для построения интерполяционного многочлена Ньютона пятой степени.

A.	3
B.	4
C.	5
D.	6

3. Постройте интерполяционный полином третьей степени для функции, заданной таблицей. Найдите приближённое значение функции $y(x)$ при $x = 0,8$ с помощью полученного полинома.

x_i	0,5	0,7	0,9	1,1
y_i	0,6915	0,7580	0,8159	0,8643

A.	0,5749
B.	0.0176
C.	1,126
D.	0,771206

4. Определите, сколько положительных корней имеет уравнение $x^3 + 5x^2 + 17 = 0$.

A.	B.	C.	D.	E.
3	2	1	0	3 или 1

5. Отделите вещественный корень уравнения $x^3 + x - 5 = 0$ и найдите его приближённое значение.

A.	1,516
B.	-1,516
C.	1,496
D.	1,389

6. Вычислите приближённо определённый интеграл $\int_{0,7}^{1,3} \frac{dx}{\sqrt{2x^2 + 0,3}}$ за шесть шагов методом Симпсона и оцените погрешность вычисления.

A.	0,4041339±0,0000167
B.	0,404±0,00001
C.	0,40413±0,00001
D.	0,40±0,01

7. Проинтегрируйте методом Эйлера уравнение $y' = x + \sin \frac{y}{2,25}$ с начальным условием $y_0(1,4) = 2,2$ на отрезке $[1.4, 2.4]$ с шагом 0.1.

Верный ответ:

	$[x, y(x)]$
1.4	2.2
1.5	2.42292574929644688
1.6	2.66097290340803294
1.7	2.91353429994767144
1.8	3.17975255416442070
1.9	3.45851365871637962
2.0	3.74845694983562262
2.1	4.04800428692539072
2.2	4.35540916415933576

Тест № 2 (по разделу 2)

1. Вычислите модуль и главное значение аргумента к.ч. $z = 3 - 4i$.

A.	5; $53,13^0$
B.	-5; $53,13^0$

C.	$5; -53,13^0$
D.	$-5; -53,13^0$

2. Выделите вещественную и мнимую части функции $f(z) = z^2 + 2z - 1$.

A.	$u(x, y) = x^2 + y^2 + 2x - 1; \quad v(x, y) = 2y(x + 1)$
B.	$u(x, y) = x^2 - y^2 + 2x - 1; \quad v(x, y) = 2y(x + 1)$
C.	$u(x, y) = x^2 - y^2 + 2x - 1; \quad v(x, y) = 2y(x - 1)$
D.	$u(x, y) = x^2 - y^2 - 2x + 1; \quad v(x, y) = 2y(x - 1)$

3. Вычислите производную функции $f(z)$ в точке $z_0 = i$, если $f(z) = \sin z$.

A.	1,543
B.	-1,543
C.	-3,14
D.	3,14

4. Найдите регулярную функцию $f(z)$, если известна её мнимая часть $v(x, y) = 3x^2y - y^3$ и $f(i) = -i$.

A.	$x^3 - 3xy^2 + 3x^2y - y^3i$
B.	$x^3 + 3xy^2 - 3x^2y - y^3i$
C.	z^3
D.	$x^3 + 3xy^2 + 3x^2y + y^3i$

5. Вычислите интеграл $\int_0^i z \cos z dz$

A.	$1 - e$
B.	$1 - \frac{1}{e}$
C.	$e - 1$
D.	$\frac{1}{e} - 1$

6. Вычислите интеграл $\int_L (z+1+i)dz$, где L – участок параболы $y = x^2$ на отрезке $[0,1]$.

A.	$1-3i$
B.	$3i$
C.	$3i+1$
D.	$3i-1$

7. Вычислите интеграл $\oint_L \frac{e^z dz}{(z-i)^3}$, где L – произвольный замкнутый контур, обходящий точку i в положительном направлении.

A.	$-\pi \sin(1) - i\pi \cos(1)$
B.	$-\pi \sin(1) + i\pi \cos(1)$
C.	$\pi \sin(1) + i\pi \cos(1)$
D.	$\pi \sin(1) - i\pi \cos(1)$

8. Разложите функцию $\ln \frac{1+z}{1-z}$ в степенной ряд $\sum_{n=0}^{\infty} c_n z^n$, используя известное разложение для $\ln(1+z)$.

A.	$2 \sum_{n=0}^{\infty} \frac{z^{2n+1}}{2n+1}$
B.	$2 \sum_{n=0}^{\infty} \frac{z^{n+1}}{n+1}$
C.	$\sum_{n=0}^{\infty} \frac{z^{n+1}}{n+1}$
D.	1

9. Найдите особые точки функции $f(z) = \frac{\sin \frac{1}{z}}{(z^3+1)(z-1)^2}$.

A.	$z = -1, z = \frac{1}{2}(1 \pm i\sqrt{3})$ – полюсы 1-го порядка; $z = 1$ – полюс 2-го порядка; $z = 0$ – существенно особая точка
B.	$z = -1, z = \frac{1}{2}(1 \pm i\sqrt{3})$ – существенно особые точки; $z = 1$ – полюс 2-го порядка; $z = 0$ – существенно особая точка
C.	$z = -1, z = \frac{1}{2}(1 \pm i\sqrt{3})$ – полюсы 1-го порядка; $z = 1$ – полюс 2-го порядка; $z = 0$ – полюс 1-го порядка
D.	$z = -1, z = \frac{1}{2}(1 \pm i\sqrt{3})$ – полюсы 1-го порядка; $z = 1$ – полюс 1-го порядка; $z = 0$ – существенно особая точка

10. Вычислите вычеты функции $\frac{z^3 + 1}{(z + 2)^2(z - 3)}$ относительно точек

$$z_0 = 3, z_0 = -2.$$

A.	$79/125, 97/125; z = 3$ – полюс 1-го порядка; $z = -2$ – полюс 2-го порядка
B.	$28/25, 7/25; z = 3$ – полюс 1-го порядка; $z = -2$ – полюс 2-го порядка
C.	$7/5, -53/25; z = 3$ – полюс 1-го порядка; $z = -2$ – полюс 2-го порядка
D.	$28/25, -53/25; z = 3$ – полюс 1-го порядка; $z = -2$ – полюс 2-го порядка

Тест № 3 (по разделу 3)

1. Найдите кратчайший путь из вершины 1 в вершину 8 на графе, заданном матрицей весов:

	1	2	3	4	5	6	7	8
1	0	14		20	6			
2	14	0	21		12			
3		21	0	16	13	20	17	
4	20		16	0	8	10		18
5	6	12	13	8	0	25		
6			20	10	25	0	12	9
7			17			12	0	15

8				18		9	15	0
---	--	--	--	----	--	---	----	---

(веса в пустых клетках равны ∞).

Постройте остовное дерево для полученного графа.

A.	148
B.	1548
C.	12378
D.	1568

2. Изобразить в виде графа структуру заданного языка и построить совокупность слов, порождаемых грамматикой данного языка:

Алфавит $M_T = \{m_1, m_2, m_3, m_4\}$. Правила грамматики:

$$S_1 ::= S_0 m_0; S_2 ::= S_1 m_1; S_3 ::= S_2 m_2; S_4 ::= S_3 m_3; S_0 ::= S_4 m_1 \mid S_1 m_1.$$

A.	$\{m_1, m_1 m_2 m_3 m_1\}$
B.	$\{m_1, m_1 m_2, m_3 m_1\}$
C.	$\{m_1 m_1 m_2 m_3 m_1\}$
D.	$\{m_1, m_1 m_2 m_3, m_1\}$

3. Имеется устройство с входным каналом X , каналом обратной связи Z и выходным каналом Y , реализующее отображение $XZ^+ \rightarrow Z^- Y$, заданное в виде таблицы

X	Z^+	Z^-	Y
1	2	2	1
2	1	1	2
1	1	2	2
2	2	1	1

На вход подаётся последовательность 122121.

Определите последовательность на выходе, если $Z_0^+ = 1$.

A.	121221
B.	221112

C.	212221
D.	212212

4. Постройте СДНФ, сокращённую и минимальную ДНФ булевой функции, заданной таблицей.

X	Y	Z	$f(X, Y, Z)$
0	0	0	0
0	0	1	0
0	1	0	0
1	0	0	0
0	1	1	1
1	0	1	1
1	1	0	1
1	1	1	1

A.	$\bar{x}yz \vee x\bar{y}z \vee xy\bar{z} \vee xyz; \quad yz \vee xz \vee xy;$
B.	$\bar{x}yz \vee x\bar{y}z \vee xy\bar{z} \vee xyz; \quad yz \vee x\bar{z} \vee xy;$
C.	$\bar{x}yz \vee x\bar{y}z \vee xy\bar{z} \vee xyz; \quad \bar{y}z \vee xz \vee xy;$
D.	$\bar{x}yz \vee x\bar{y}z \vee xy\bar{z} \vee xyz; \quad yz \vee x\bar{z} \vee xy;$

5. Изобразите контактные схемы для исходной, сокращённой и минимальной ДНФ.

ПРАВИЛЬНЫЕ ОТВЕТЫ НА ТРЕНИРОВОЧНЫЕ ТЕСТЫ

№ теста	Раздел	Номера вопросов / Номера правильных ответов										
		Номер вопроса	1	2	3	4	5	6	7			
1	Раздел 1	Номер вопроса	1	2	3	4	5	6	7			
		Правильный ответ	A, B	D	D	D	A	A				
2	Раздел 2	Номер вопроса	1	2	3	4	5	6	7	8	9	10
		Правильный ответ	C	B	A	A, C	D	B	B	A	A	D
3	Раздел 3	Номер вопроса	1	2	3	4	5					
		Правильный ответ	B	A	D	A						

4.4. Итоговый контроль

4.4.1. Вопросы для подготовки к экзамену

1. Определение абсолютной и относительной погрешности.
2. Постановка задачи интерполяции функции.
3. Конечные разности и интерполяционный многочлен Ньютона.

4. Приближённое вычисление определённого интеграла. Формулы прямоугольников, трапеции, Симпсона.
5. Метод наименьших квадратов.
6. Линейная аппроксимация и линеаризация.
7. Этапы вычисления корней уравнения $f(x) = 0$.
8. Постановка задачи Коши и её решение методом Эйлера.
9. Алгебраическая и тригонометрическая форма комплексного числа.
10. Условия Коши-Римана.
11. Формулы для вычисления производной от функции комплексного переменного.
12. Регулярные и гармонические функции.
13. Геометрический смысл производной от функции комплексного переменного.
14. Равенство Эйлера и выражения тригонометрических функций вещественной переменной через показательную функцию.
15. Интеграл от функции комплексного переменного и его выражение через вещественные криволинейные интегралы.
16. Теорема Коши и регулярность функции комплексного переменного.
17. Основная формула интегрального исчисления для функций комплексного переменного.
18. Интегральная формула Коши.
19. Функциональные ряды. Сходимость и абсолютная сходимость.
20. Ряд Тейлора и теорема Абеля.
21. Ряд Лорана и его сходимость.
22. Изолированные особые точки и их типы.
23. Разложение в ряд Лорана в окрестности бесконечно удалённой точки.
24. Теорема Коши о вычетах.
25. Вычисление вычетов в полюсах первого и второго порядков.
26. Вычет в бесконечно удалённой точке. Основная теорема о вычетах.
27. Дать определения вершин и рёбер графа, графа и орграфа, пути и цикла, полного и неполного графа, связанного и несвязанного графа, дерева и корня дерева.
28. Задача о минимальном пути и алгоритм Дейкстры.
29. Минимальное остовное дерево и алгоритм ближайшего соседа.
30. Формальный язык: состояние, алфавит и правила грамматики.
31. Дискретные автоматы. Комбинационная и последовательная схемы.
32. Сумматор.
33. Операции высказывания, отрицания, конъюнкции, дизъюнкции и эквиваленции. Таблицы истинности для них.
34. Булевы функции и нормальные формы. Правила построения СДНФ и СКНФ.
35. Построение сокращённой ДНФ методом Квайна.
36. Построение минимальной ДНФ методом Петрика.
37. Контактная схема и её логическая функция. Прямая и обратная задачи.

Содержание

Стр.

1. Информация о дисциплине	3
1.1. Предисловие	3
1.2. Содержание дисциплины и виды учебной работы	4
2. Рабочие учебные материалы	6
2.1. Рабочая программа	6
2.2. Тематический план дисциплины	10
2.3. Структурно-логическая схема дисциплины	13
2.4. Временной график изучения дисциплины	14
2.5. Практический блок	14
2.6. Балльно-рейтинговая система оценки знаний	16
3. Информационные ресурсы дисциплины	17
3.1. Библиографический список	17
3.2. Опорный конспект лекций по дисциплине	18
Введение	18
Раздел 1. ЧИСЛЕННЫЕ МЕТОДЫ	18
1.1. Обработка результатов измерений и погрешности вычислений	19
1.2. Интерполяция и численное дифференцирование	22
1.3. Численное интегрирование	28
1.4. Приближение функций	30
1.5. Многомерные задачи	32
1.6. Численные методы алгебры	33
1.7. Решение систем нелинейных уравнений и задачи оптимизации ..	37
1.8. Численные методы решения обыкновенных дифференциальных уравнений	37
Раздел 2. ТЕОРИЯ ФУНКЦИЙ КОМПЛЕКСНОГО ПЕРЕМЕННОГО	40
2.1. Комплексные числа и операции с ними	40
2.2. Функции комплексного переменного (ФКП). Условия Коши-Римана	42
2.3. Элементарные функции и конформные отображения	43
2.4. Представление регулярных функций интегралами	45
2.5. Представление регулярных функций рядами	49
2.6. Вычеты функций	55
Раздел 3. ДИСКРЕТНАЯ МАТЕМАТИКА	59
3.1. Элементы теории графов	60
3.2. Формальные языки и дискретные автоматы	64
3.3. Элементы алгебры логики	68
3.3. Учебное пособие	79
3.4. Глоссарий (краткий словарь терминов)	79
3.5. Методические указания к проведению лабораторных работ	83
Лабораторная работа №1	83

Лабораторная работа №2	89
Лабораторная работа №3	97
Лабораторная работа №4	103
Лабораторная работа №5	112
3.6. Методические указания к проведению практических занятий	118
Задание 1	118
Задание 2	121
Задание 3	124
Задание 4	128
Задание 5	130
Задание 6	132
Задание 7	134
Задания 8, 9	138
Раздел 4. БЛОК КОНТРОЛЯ ОСВОЕНИЯ ДИСЦИПЛИНЫ	139
4.1. Общие указания	139
4.2. Задания на контрольные работы	139
4.3. Текущий контроль	147
4.4. Итоговый контроль	154